

# 1.HAFTA

## 4, 5 ve 6 BASAMAKLI DOĞAL SAYILAR

Dört basamaklı doğal sayılarda "4",

Beş basamaklı doğal sayılarda "5",

Altı basamaklı doğal sayılarda "6" rakam bulunur.

Örnek:

1 453 sayısı dört basamaklı bir sayıdır ve "bin dört yüz elli üç" diye okunur.

26 168 sayısı beş basamaklı bir sayıdır ve "yirmi altı bin yüz altmış sekiz"

diye okunur.

159 246 sayısı altı basamaklı bir sayıdır ve "yüz elli dokuz bin iki yüz kırk altı" diye okunur.

- Aşağıdaki doğal sayıların okunuşlarını yazalım.

2 750



.....

35 582



.....

365 124



.....

6 916



.....

76 543



.....

545 525



.....

- Aşağıdaki okunuşları verilen doğal sayıları yazalım.

Dört bin yüz yetmiş üç



On sekiz bin beş yüz doksan dokuz



Yedi yüz on üç bin yedi yüz on dört



Sekiz bin dört yüz on sekiz



Kırk beş bin altı yüz altmış bir



Dokuz yüz doksan dokuz bin yüz on bir



Kazanım: 4, 5 ve 6 basamaklı doğal sayıları okur ve yazar.

# 1.HAFTA



**Dikkat:** 4, 5 ve 6 basamaklı doğal sayıları yazarken söylenmeyen basamaktaki sayı yerine "0" yazılır.

**Örnek:** "Altı bin on beş" sayısını yazarken;

Yüzler basamağı söylenmemiş, bu yüzden sayımızı "6 015" olarak,

"On iki bin dört yüz üç" sayısını yazarken;

Onlar basamağı söylenmemiş, bu yüzden sayımızı "12 403" olarak

"Dört yüz on bir bin beş yüz kırk" sayısını yazarken;

Birler basamağı söylenmemiş, bu yüzden sayımızı "411 540" olarak yazabiliriz.

- Aşağıdaki doğal sayıların okunuşlarını yazalım.

9 109

17 150

560 023



4 020

25 009

312 606



- Aşağıdaki okunuşları verilen doğal sayıları yazalım.

Altı bin yüz bir

Otuz iki bin yüz

Sekiz yüz on bin kırk

Üç bin üç

Yetmiş yedi bin on yedi

Üç yüz otuz üç bin iki

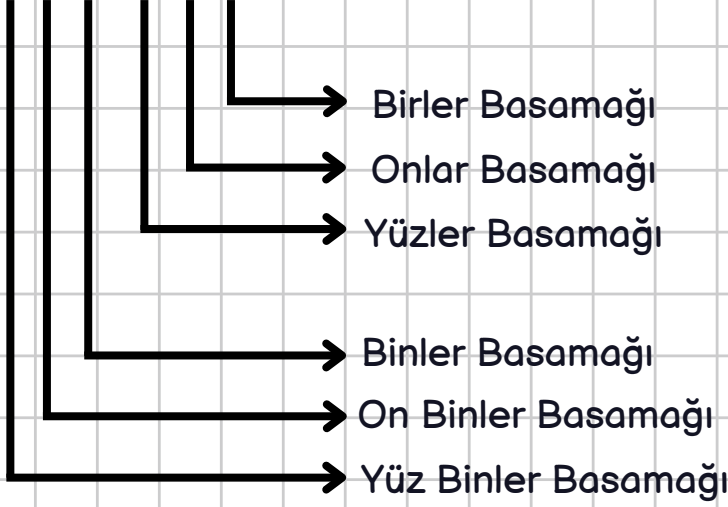
Kazanım: 4, 5 ve 6 basamaklı doğal sayıları okur ve yazar.

# 1.HAFTA

## DOĞAL SAYILARDA BÖLÜKLER VE BASAMAKLAR



Binler Bölüğü Birler Bölüğü  
123 456



$$\begin{aligned}6 \times 1 &= 6 \\5 \times 10 &= 50 \\4 \times 100 &= 400 \\3 \times 1\,000 &= 3\,000 \\2 \times 10\,000 &= 20\,000 \\1 \times 100\,000 &= 100\,000\end{aligned}$$

+

123 456



- Aşağıdaki doğal sayıları bölüklerine uygun, örnekteki gibi yazalım.

SAYI	BİNLER BÖLÜĞÜ	BİRLER BÖLÜĞÜ	SAYI	BİNLER BÖLÜĞÜ	BİRLER BÖLÜĞÜ
6 782	6	782	410 309		
25 963			80 008		
679 201			9 258		
32 035			64 127		
3 333			757 686		

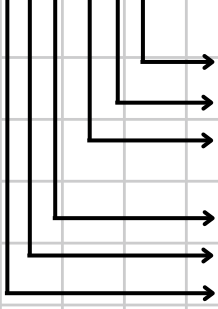
# 1.HAFTA

Kazanım: 4, 5 ve 6 basamaklı doğal sayıların bölüklerini ve basamaklarını, basamaklarındaki rakamların basamak değerlerini belirler ve çözümler.

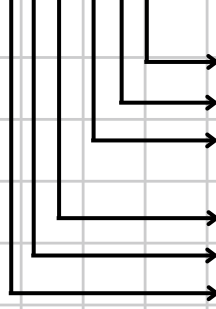


- Aşağıda verilen sayıların **basamak adlarını** yazalım.

572 438



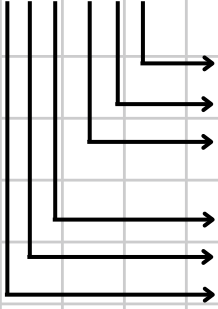
469 024



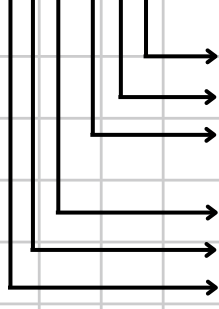
- Verilen sayıların **basamak değerlerini** yazalım.



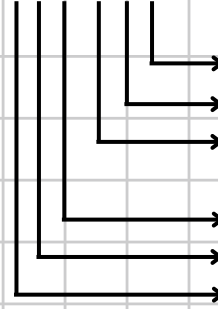
751 883



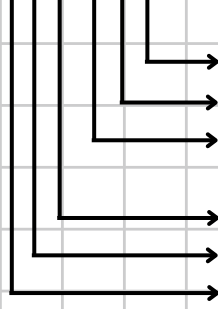
109 696



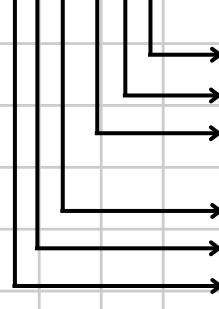
349 208



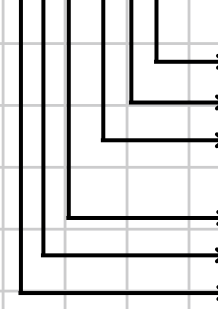
667 960



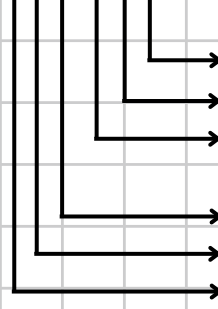
206 362



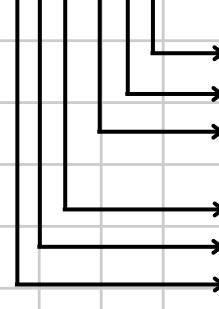
132 554



204 060



550 505



333 333

