



Adı Soyadı :

Numarası :

Konu: Nesne Sayılarını Bulalım

Nesne Sayılarını Bulalım

Aşağıdaki elma ağaçlarında kaçar tane elma olduğunu altlarına yazalım.



Elma Sayısı:



Elma Sayısı:



Elma Sayısı:

Aşağıdaki görsellerde bulunan hayvanları sayınız. Hayvan sayılarını alttaki noktalı yerlere yazınız.



Kedilerin Sayısı:




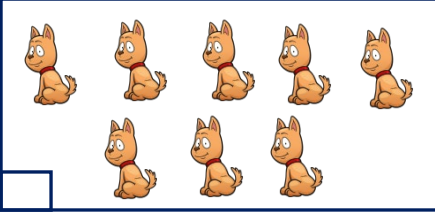
Farelerin Sayısı:






Köpeklerin Sayısı:

Deste ve Düzine

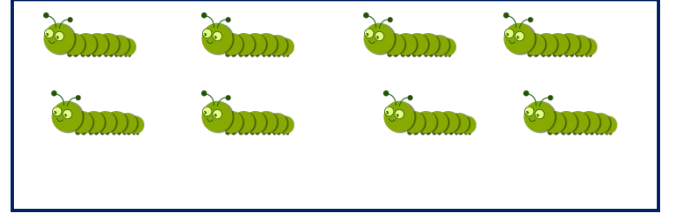

Hangi gruptaki varlıklar bir destedir.



Aşağıdaki gruplardan düzine olanı işaretleyelim.



Aşağıdaki uğurböceklerini desteye, tırtılları da düzineye tamamlayınız.



Aşağıdaki soruları yanıtlayınız.

Bir düzine kalem bir deste kalemden kaç fazladır.

1 deste ceviz ile 1 düzine fındığın toplamı kaçtır?

3 deste karanfil de kaç birlik vardır?

16 tane elmaya kaç elma daha eklersek 2 düzine olur?