

Adı Soyadı:

4. SINIF 1. HAFTA KAZANIM DEĞERLENDİRME ETKİNLİĞİ

1. Aşağıdaki cümlelerin hangisinde altı çizili sözcük gerçek anlamı dışında kullanılmıştır?

- A) Televizyonun ekranına gelen top büyük bir gürültü ile patladı.
- B) Satıcı üründen fazla sayıda alacağımızı söyleyince indirim yaptı.
- C) Yeni çıkan o şarkıya bayıldım.
- D) Annem ağır poşetleri taşımakta zorlanıyordu.

2. Aşağıdaki cümlelerin hangisinde "tatlı" sözcüğü gerçek anlamında kullanılmıştır?

- A) Kardeşim tatlı bir uykuya dalmıştı.
- B) Babamın getirdiği tatlıları bitirdik.
- C) Eda'nın kardeşi çok sevimli, tatlı bir çocuktur.
- D) Tatlı sözlerle gönlümü almayı başardı.

3. Aşağıdaki cümlelerin hangisinde "zayıf" sözcüğü sağlam olmayan, dayanıksız anlamında kullanılmıştır?

- A) Hiç yemek yemeyince çok zayıfladı.
- B) O sınavı kazanmam maalesef zayıf bir ihtimal.
- C) Karnesinde üç tane zayıf vardı.
- D) Zayıf yapı en ufak depremde yıkılacak gibi duruyordu.

4. Aşağıdaki verilen kelime çiftlerinden hangisi anlam bakımından diğerlerinden farklıdır?

- A) suçlu - masum
- B) kolay - basit
- C) uzak - ırak
- D) kafa - baş

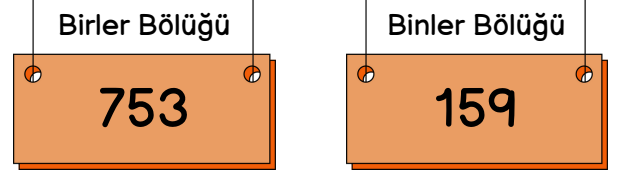


5. Aşağıdaki cümlelerin hangisinde "fayda" sözcüğünün eş anlamlısı kullanılmıştır?

- A) Bütün gün evde oturup, sessizce kitabını okudu.
- B) Zararlı alışkanlıklarını bir türlü bırakamıyordu.
- C) Vücudumuz için yararlı besinler tüketmeliyiz.
- D) Yağmurun yağacağı bulutların gelişinden belliydi.

6. "803 052" sayısının okunuşu hangi seçenekte doğru olarak verilmiştir?

- A) sekiz yüz üç yüz elli iki
- B) seksen üç bin elli iki
- C) sekiz yüz bin üç yüz elli iki
- D) sekiz yüz üç bin elli iki



7. Yukarıda bölükleri verilmiş olan sayı aşağıdakilerden hangisidir?

- A) 753 159
- B) 753 155
- C) 159 753
- D) 159 755

Dört basamaklı, rakamları farklı, en küçük çift sayı kaçtır?

8. Füsün öğretmenin sorduğu sorunun cevabı aşağıdakilerden hangisidir?

- A) 1 023
- B) 1 024
- C) 1 234
- D) 1 204

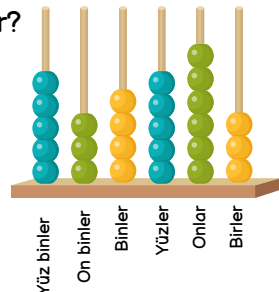


9. Aşağıdaki doğal sayılardan hangisinde 4 rakamının basamak değeri 40 000'dir?

- A) 340 357
- B) 465 123
- C) 258 364
- D) 514 110

10. Yan taraftaki abaküste gösterilen altı basamaklı doğal sayı aşağıdakilerden hangisidir?

- A) 365 434
- B) 535 463
- C) 534 563
- D) 364 563



11. İnsanların toplum içinde birbirinden ayırt edilebilmesi için kendi adlarına göre düzenlenmiş belgelere ne ad verilir?

- A) kimlik
B) ruhsat
C) kart
D) ikametgah

12. Aşağıdaki bilgilerden hangisi Can'ın kimlik belgesinde bulunmaz?

- A) TC kimlik numarası
B) Cinsiyet
C) Sınıf
D) Ad ve soyad



13. I. Doğum yeri
II. Medeni hali
III. Kan grubu

Yukarıdaki bilgilerden hangileri kimlik kartımızda bulunan çipin (yonga) içindeki bilgilerdendir?

- A) I ve II
B) I ve III
C) II ve III
D) I, II ve III

14.

Benim kimliğimde kaç yaşında fotoğrafım olacak?



Annesi Ela'nın sorusuna hangi cevabı vermelidir?

- A) 15
B) 18
C) 20
D) 22

15. Yeni kimlik kartlarından almak için nereye başvurulmalıdır?

- A) Kaymakamlık
B) Nüfus müdürlüğü
C) Valilik
D) Belediye başkanlığı

16. "Deniz ve okyanusların tabanlarında yer kabuğu daha¹....., dağların bulunduğu yerlerde daha²....." cümlesinde numaralı yerlere sırası ile hangi kelimeler yazılmalıdır?


- A) yumuşak sert
B) ince kalın
C) uzun kısa
D) kalın ince



17. Mineralleri bir araya gelmesiyle yer kabuğunun kara tabakasını oluşturan kısım aşağıdakilerden hangisidir?

- A) kayaç
B) tepe
C) okyanus
D) dağ

18. Kayaçların şekil, renk, parlaklık olarak birbirlerinden farklı olmasının sebebi nedir?" sorusunu hangi öğrenci doğru cevaplamıştır?



19. Kayaç > Kaya > Çakıl > Taş > Kum

Yukarıda verilen sıralamanın doğru olması için hangi ikisinin yer değiştirmesi gerekir?

- A) kum - kaya
B) kaya - çakıl
C) taş - kum
D) çakıl - taş

20. Yer kabuğunun yapısı ve yaşı ile ilgili inceleme ve araştırma yapan bilim insanlarına ne ad verilir?

- A) jeoloji
B) paleontolog
C) jeolog
D) astronom



4. SINIF 1. HAFTA KAZANIM DEĞERLENDİRME ETKİNLİĞİ CEVAP ANAHTARI

1.	C	11.	A
2.	B	12.	C
3.	D	13.	D
4.	A	14.	A
5.	C	15.	B
6.	D	16.	B
7.	C	17.	A
8.	B	18.	A
9.	A	19.	D
10.	C	20.	C