

3.

SINIF



1. HAFTA

KAZANIM DEĞERLENDİRME

1. Aşağıdaki kelimelerin hangisi alfabemizin 28. harfi ile bitmektedir?

- A) saray B) ayaz C) yarar

2. "KALEM" kelimesindeki harfleri kullanarak aşağıdaki sözcüklerden hangisini yazamayız?

- A) kale B) alem C) merak

3. Aşağıda verilen kelimelerden hangisinde ünlü harf sayısı diğerlerinden daha fazladır?

- A) Fenerbahçe
B) Galatasaray
C) Beşiktaş

4. Aşağıdaki görsellerden hangisi sözlükte diğerlerinden sonra gelir?



5. Bir ülkenin akciğeri ormanlardır. Temiz hava ve sağlıklı bir gelecek için ormanları korumalı, ağaçları kesmemeliyiz. Orman yangınlarının olmaması için piknik yaptığımız alanları temiz tutmalı, bu alanlarda ateş yakmamalıyız.

Yukarıdaki parçanın ana duygusu nedir?

- A) Orman yangınları
B) Ağaç yetiştirmek
C) Orman sevgisi


6. "303" sayısının okunuşu hangi seçenekte doğru olarak verilmiştir?

- A) Üç yüz otuz üç
B) Üç yüz on üç
C) Üç yüz üç

7. Aşağıda verilen sayı ve okunuşu eşleştirmelerinden yanlış olan hangisidir?

- A) 215= iki yüz on beş
B) 410= dört yüz on bir
C) 661= altı yüz altmış bir

8.



Yukarıda modeli verilen sayı aşağıdakilerden hangisidir?

- A) 385 B) 388 C) 389

9. 285'ten başlayıp ileriye doğru onar ritmik sayarken 3. sırada hangi sayıyı söyleriz?

- A) 305
B) 325
C) 335

10. 111 – 211 – 311 – 411 – 511 – 611
Verilen ritmik sayma kaçar kaçardır?

- A) Birer
B) Onar
C) Yüzer

11. Aşağıdaki davranışlardan hangisi yanlıştır?

- A) Çevreyi temiz tutmak.
- B) Hava kararınca evdeki tüm ışıkları açmak.
- C) Hayvanlara iyi davranmak.


12. Aşağıdakilerden hangisi arkadaşlar arası iletişimi bozabilecek, uygun olmayan bir davranıştır?

- A) Yüksek sesle konuşmak
- B) Yardımsever olmak
- C) Arkadaşlara karşı kibar davranmak

13. Aşağıdakilerden hangisini yapmak okul ortamında bize zarar verebilir?

- A) Öğretmen ders anlatırken sessiz olmak.
- B) Teneffüse çıkarken koridorlarda koşmak.
- C) Ders araç gereçlerini özenli kullanmak.

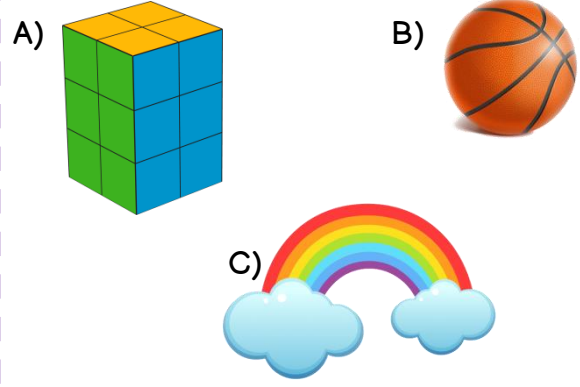
14. Aşağıdaki görsellerden hangisinde olumlu bir öğrenme ortamı resmedilmiştir?



15. Sınıfta ders işlenirken yüksek sesle konuşan bir öğrenci, aşağıdakilerden hangisine sebepl olur?

- A) Dersin düzeni bozulur, arkadaşları derste anlatılanı anlayamaz.
- B) Herkes o öğrenciyle arkadaşlık yapar.
- C) Öğretmen sınıfa top oynamama cezası verir.

16. Aşağıdaki görsellerden hangisi dünyamıza şekil olarak benzer?



17. Aşağıdaki ifadelerden hangisi dünyanın şeklini açıklar?

- A) Limandan kalkan bir geminin hep aynı yöne giderse yolculuğa başladığı yere varması.
- B) Sürekli hızlanan bir aracın frene basarsa durması.
- C) Limandan uzaklaşan geminin birden gözden kaybolması.

18. Dünya'nın yuvarlak olduğunu kanıtlamak için gemi ile seyahate çıkan denizci kimdir?

- A) Galileo
- B) Macellan
- C) Barbaros Hayrettin Paşa

19. Denizden karaya yaklaşan bir geminin önce neresi gözükür?

- A) Gövdesi
- B) Dalgaları
- C) Direk ve bacası

20. "Dünya'nın şekli'ye benzer." cümlesi hangisi ile tamamlanabilir?

- A) küre
- B) tepsi
- C) boynuz