



Adı :
Soyadı:


2. Sınıf
Matematik


Doğal Sayılar
Onluk-Birlik-6


Kaç tane kalem olduğunu sayınız. Örnekteki gibi tabloyu doldurunuz.


 onluk birlik


 onluk birlik


 onluk birlik

 onluk birlik

 onluk birlik

 onluk birlik

 onluk birlik

 onluk birlik

Adı :

Soyadı:

2. Sınıf Matematik

Doğal Sayılar Onluk-Birlik-6

Örneğe göre dolduralım.

2 onluk 5 birlik

20

5

25

3 onluk 8 birlik

.....

.....

.....

4 onluk 6 birlik

.....

.....

.....

7 onluk 1 birlik

.....

.....

.....

8 onluk 3 birlik

.....

.....

.....

5 onluk 5 birlik

.....

.....

.....

9 onluk 2 birlik

.....

.....

.....

7 onluk 9 birlik

.....

.....

.....

5 onluk 3 birlik

.....

.....

.....

8 onluk 8 birlik

.....

.....

.....

6 onluk 4 birlik

.....

.....

.....

3 onluk 7 birlik

.....

.....

.....