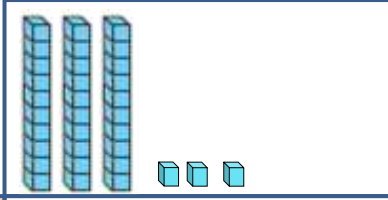


Adı :
Soyadı:

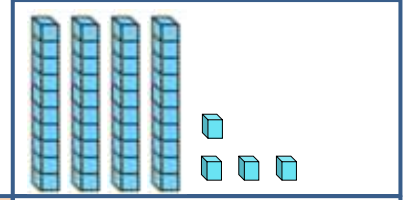
2. Sınıf
Matematik

Doğal Sayılar
Onluk-Birlik-9

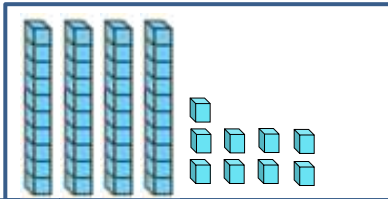
Verilen modellere göre basamak tablosunu doldurunuz.



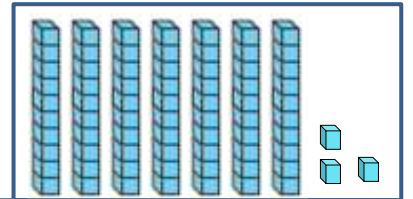
Sayı	
Basamak adı
	Basamağı	Basamağı
Basamak Değeri



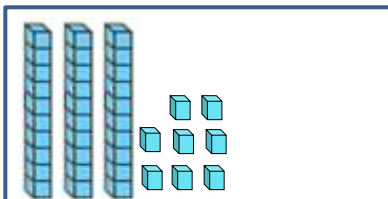
Sayı	
Basamak adı
	Basamağı	Basamağı
Basamak Değeri



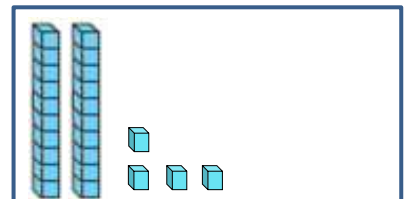
Sayı	
Basamak adı
	Basamağı	Basamağı
Basamak Değeri



Sayı	
Basamak adı
	Basamağı	Basamağı
Basamak Değeri



Sayı	
Basamak adı
	Basamağı	Basamağı
Basamak Değeri



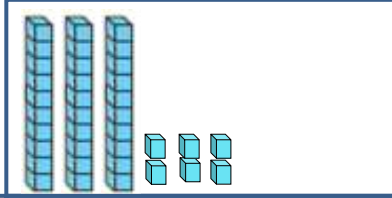
Sayı	
Basamak adı
	Basamağı	Basamağı
Basamak Değeri

Adı :
Soyadı:

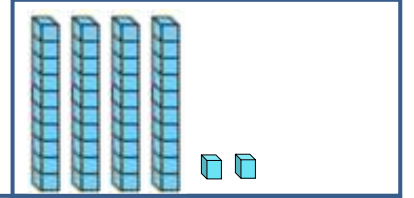
2. Sınıf
Matematik

Doğal Sayılar
Onluk-Birlik-9

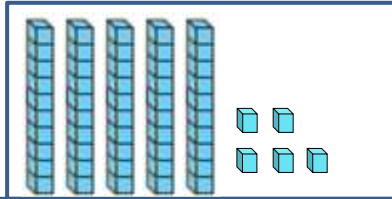
Verilen modellere göre basamak tablosunu doldurunuz.



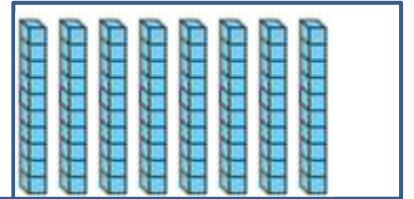
Sayı	
Basamak adı
	Basamağı	Basamağı
Basamak Değeri



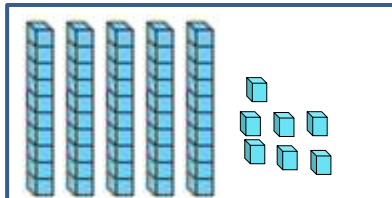
Sayı	
Basamak adı
	Basamağı	Basamağı
Basamak Değeri



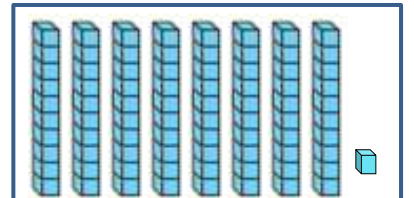
Sayı	
Basamak adı
	Basamağı	Basamağı
Basamak Değeri



Sayı	
Basamak adı
	Basamağı	Basamağı
Basamak Değeri



Sayı	
Basamak adı
	Basamağı	Basamağı
Basamak Değeri



Sayı	
Basamak adı
	Basamağı	Basamağı
Basamak Değeri