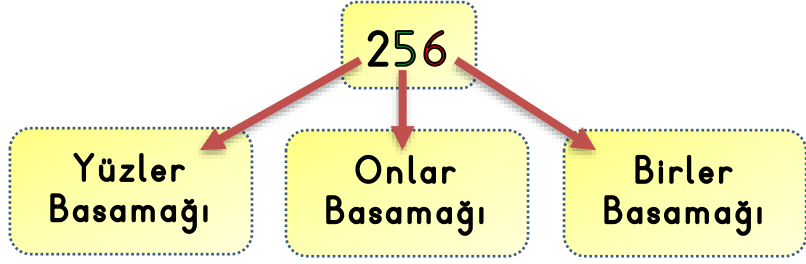


Adı :
Soyadı:

3. Sınıf Matematik

Doğal Sayılar Basamaklar-1

*Basamak
Adı*

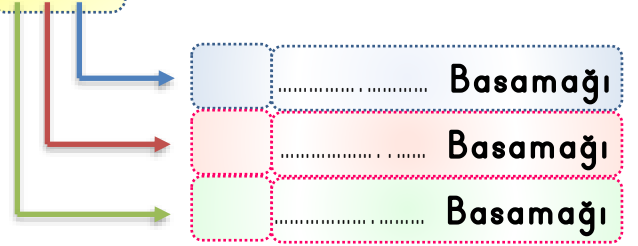


Verilen doğal sayıların basamak isimlerini örnekteki gibi yazınız.

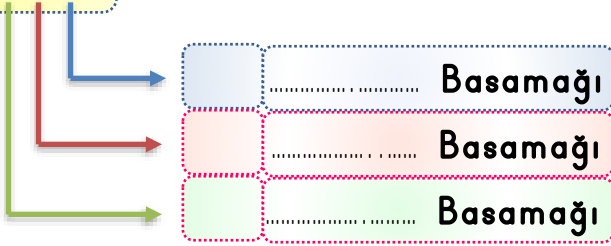
256



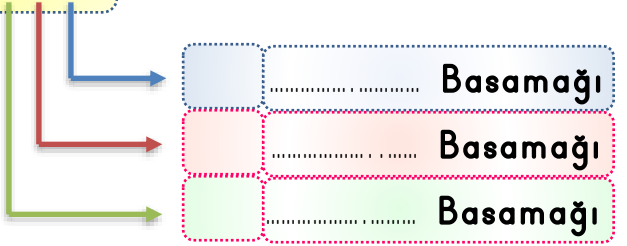
384



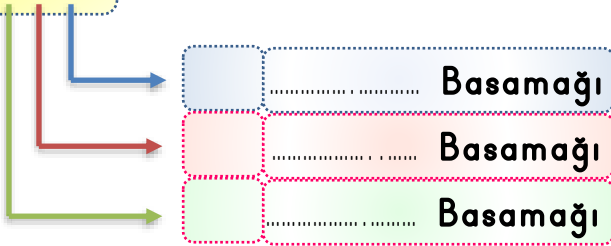
627



519



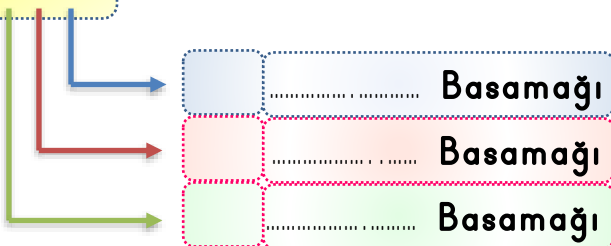
963



780



408



237



Adı :

Soyadı:

3. Sınıf
Matematik

Doğal Sayılar
Basamaklar-1

Basamak isimleri verilen doğal sayıları yazalım.



Birler Basamağı= 6

Onlar Basamağı=9

Yüzler Basamağı=4



Onlar Basamağı= 3

Yüzler Basamağı=5

Birler Basamağı=0



Birler Basamağı= 8

Yüzler Basamağı=2

Onlar Basamağı=0



Onlar Basamağı= 4

Yüzler Basamağı=5

Birler Basamağı=2



Yüzler Basamağı= 9

Onlar Basamağı=9

Birler Basamağı=4



Birler Basamağı= 0

Onlar Basamağı=9

Yüzler Basamağı=8



Yüzler Basamağı= 7

Onlar Basamağı=3

Birler Basamağı=7



Onlar Basamağı= 5

Yüzler Basamağı=2

Birler Basamağı=1



Birler Basamağı= 3

Yüzler Basamağı=8

Onlar Basamağı=7



Onlar Basamağı= 4

Yüzler Basamağı=5

Birler Basamağı=2



Yüzler Basamağı= 2

Onlar Basamağı=6

Birler Basamağı=0



Birler Basamağı= 0

Onlar Basamağı=0

Yüzler Basamağı=4