

Adı :

Soyadı:

3. Sınıf
Matematik

Doğal Sayılar
Basamaklar-3

Verilen doğal sayıların basamak adını, sayı değerini ve basamak değerini yazınız.

627

Basamak Adı	Sayı Değeri	Basamak Değeri

905

Basamak Adı	Sayı Değeri	Basamak Değeri

384

Basamak Adı	Sayı Değeri	Basamak Değeri

700

Basamak Adı	Sayı Değeri	Basamak Değeri

Adı :

Soyadı:

3. Sınıf
Matematik

Doğal Sayılar
Basamaklar-3

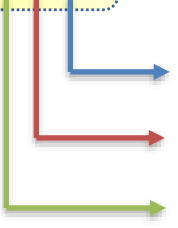
Verilen doğal sayıların basamak adını, sayı değerini ve basamak değerini yazınız.

850

Basamak Adı

Sayı Değeri

Basamak Değeri

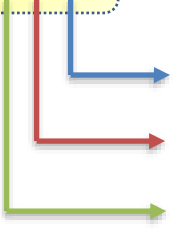


408

Basamak Adı

Sayı Değeri

Basamak Değeri

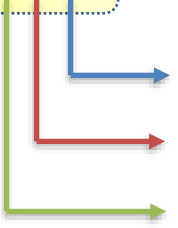


726

Basamak Adı

Sayı Değeri

Basamak Değeri



432

Basamak Adı

Sayı Değeri

Basamak Değeri

