




Adı :

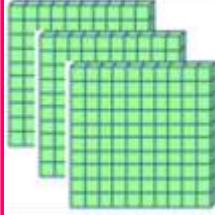


Soyadı:

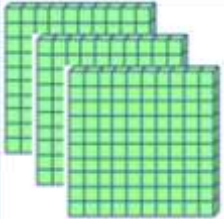


3. Sınıf
Matematik



Doğal Sayılar
Basamaklar-4

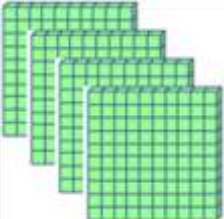


Verilen bloklara göre tabloyu doldurunuz.

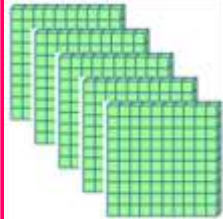


		
Yüzler Basamağı	Onlar Basamağı	Birler Basamağı
100	30	3
133		
Yüz otuz üç		

		
..... Basamağı Basamağı Basamağı

		
..... Basamağı Basamağı Basamağı

		
..... Basamağı Basamağı Basamağı

		
..... Basamağı Basamağı Basamağı

		
..... Basamağı Basamağı Basamağı

Adı :

Soyadı:

3. Sınıf Matematik

Doğal Sayılar Basamaklar-4

Verilen doğal sayıların sayı değerlerini ve basamak değerlerini yazınız.

256	Sayı Değeri	Basamak Değeri

458	Sayı Değeri	Basamak Değeri

927	Sayı Değeri	Basamak Değeri

579	Sayı Değeri	Basamak Değeri

706	Sayı Değeri	Basamak Değeri

662	Sayı Değeri	Basamak Değeri

447	Sayı Değeri	Basamak Değeri

129	Sayı Değeri	Basamak Değeri

308	Sayı Değeri	Basamak Değeri

607	Sayı Değeri	Basamak Değeri

760	Sayı Değeri	Basamak Değeri

371	Sayı Değeri	Basamak Değeri