










- 1)  Kütüphaneye birlikte gidelim.
 Boncuk'u kafeste göremeyince korktum.
 Dün havuzda çok yüzdünüz mü?
- Yukarıdaki cümlelerden hangisi **duygu** bildirmektedir?
- A)  B)  C) 

- 2) Sağlıklı yaşamın birinci şartı spor yapmaktır.
- Yukarıdaki cümle aşağıdakilerden hangisini bildirmektedir?
- A) düşünce B) duygu C) istek

- 3)  Kitap okurken çok mutlu oluyorum.
 Gaye
 Bu problemi ancak Oya çözebilir.
 Ozan
 Üç saat sonra beni uyandır.
 Yaren

Yukarıdaki ifadelerden hangi çocuğun ifadesi **istek** bildirmektedir ?

- A) Ozan B) Gaye C) Yaren

- 4) paragrafları oluşturur.

Yukarıdaki ifadede noktalı yere aşağıdakilerden hangisi gelmelidir?

- A) heceler B) cümleler C) metinler

- 5) Aşağıdakilerden hangisi metin türlerinden hikâyeye ait bir özellik **değildir**?
- A) Karakterler, olay , yer ve zaman vardır.
 B) Dizeler halinde yazılır.
 C) Okuyucular hikâyeden ders çıkarabilir.

- 6) 524

Yukarıdaki sayının onlar basamağındaki rakam 3 artırılırsa aşağıdaki sayılardan hangisi elde edilir?

- A) 554 B) 824 C) 527

- 7) 878

Yukarıdaki sayının yüzler ve birler basamağındaki rakamların farkı aşağıdakilerden hangisidir?

- A) 72 B) 702 C) 792

- 8) Taner "dört yüz sekiz" diye okunan sayıyı 480 şeklinde yazıyor.

Cevabın doğru olabilmesi için Taner hangi rakamların yerini değiştirmelidir?

- A) Birler ve onlar basamağındaki
B) Birler ve yüzler basamağındaki
C) Yüzler ve onlar basamağındaki

- 9) Suna, onlar basamağı 6 olan üç basamaklı en büyük sayıyı en yakın onluğa yuvarlamış.

Suna'nın yuvarlama sonucu bulduğu sayı aşağıdakilerden hangisidir?

- A) 960 B) 970 C) 980

- 10)




700

En yakın yüzlüğe yuvarlandıklarında aşağıdaki sayılardan hangisi yukarıdaki sayıya **yuvarlanamaz**?

- A) 654 B) 720 C) 750

- 11) Arkadaşı , Kerem'in topunu yanlışlıkla patlatınca Kerem kötü sözler söylemiş.

Yukarıdaki durumda Kerem'in arkadaşında oluşacak duygu durumu aşağıdakilerden hangisidir?

- A)  B)  C) 

- 12) Aşağıdakilerden hangisi **olumsuz** bir davranıştır?

- A) Deniz'in hata yapan arkadaşına bağırması.
B) Umut'un beslenmesini arkadaşıyla paylaşması.
C) Ela'nın izin alarak arkadaşının silgisini alması.

- 13) Arkadaşları, Pelin'i oynadıkları oyuna almamışlar.

Yukarıdaki durumda Pelin aşağıdaki duygu durumlarından hangisini **yaşamaz**?

- A) Mutlu olur
B) Küser
C) Üzülür

- 14) Arkadaşı, Can'ın kalemligindeki eşyaları izinsiz almaktadır.

Yukarıdaki durumda Can nasıl davranırsa olumlu bir davranış yapmış olur?

- A) Onunla kavga eder.
B) Hiçbir eşyasını ona vermez.
C) İzinsiz almaması için onu uyandır.

- 15)  Üzülürüz
 Mutlu oluruz
 Sinirleniriz

Arkadaşlarımızın olumsuz davranışları sonucunda yaşayabileceğimiz duygu durumları hangisinde doğru verilmiştir?

- A)   B)   C)  

- 16) Dünya'nın katmanlarından biri de yer kabuğudur.

Yer kabuğunun diğer adı aşağıdakilerden hangisidir?

- A) Atmosfer
B) Kara katmanı
C) Magma

- 17) I – Çekirdek
II – Su katmanı
III – Manto

Yukarıda verilen Dünya'nın katmanlarından hangilerinde yaşam **yoktur**?

- A) I ve III B) Hepsi C) I ve II

- 18) Dünya üzerindeki kara ve suların kapladığı yer dikkate alındığında aşağıdaki bilgilerden hangisi doğrudur?

- A) Karaların ve suların kapladığı yer eşittir.
B) Karalar sulardan daha çok yer kaplar.
C) Karalar sulardan daha az yer kaplar.

- 19) Dünya'yı en dıştan saran katmana katmanı denir.

Yukarıdaki ifadedeki noktalı yere aşağıdakilerden hangisi gelmelidir?

- A) manto B) su C) hava

- 20) Dünya'nın katmanlarından manto ile ilgili aşağıdaki bilgilerden hangisi **yanlıştır**?

- A) Yer kabuğunun altında bulunur.
B) Bu katmanda yaşam vardır.
C) Magma denilen akışkan bir madden oluşur.

CEVAP ANAHTARI

TÜRKÇE	MATEMATİK	HAYAT BİL.	FEN BİLİM.
1) C	6) A	11) B	16) B
2) A	7) C	12) A	17) A
3) C	8) A	13) A	18) C
4) B	9) B	14) C	19) C
5) B	10) C	15) B	20) B