



LEYLEKLER

Leylekler, boyunları, gagaları ve ayakları uzun kuşlardır. Gagaları ve bacakları çoğunlukla kırmızı renktedir. Leylekler 20-30 yıl kadar yaşayabilirler. Birbirleriyle gagalarını takırdatarak anlaşılır.

Nehir, göl ve bataklık kenarlarında dolaşırlar. Yüksek ağaçlara ve binaların çatılarına yuva kurarlar. Leylekler göç eden canlılardır. Sıcak yerleri severler. Genellikle kurbağa, balık, küçük sürüngenler, kabuklular ve böceklerle beslenirler.

Not: İlk 3 soruyu metne göre cevaplayınız.

1) Leyleklerin gagaları çoğunlukla hangi renktedir?

- A) Turuncu B) Kırmızı
C) Sarı

2) Aşağıdaki yerlerden hangisi leyleklerin çoğunlukla dolaştıkları yerlerden birisi değildir?

- A) Göl B)Deniz C)Okyanuslar

3) Leylekler nereleri sevmektedir?

- A) Sıcak yerleri B) Soğuk yerleri
C) Yağış alan yerleri

4) Aşağıdaki kelimelerin hangisinde dört harfli bir hece vardır?

- A) Ormanlar
B) Ağaçlar
C) Parklar


5) Aşağıda hece bilgisi ile verilen ifadelerden hangisi yanlıştır?

- A) Her hecede bir ünlü harf vardır.
B) Hece, bir harften oluşabilir.
C) Bir hecede iki sesli harf bulunabilir.

6) Aşağıdaki canlılardan hangisinin adı tek hecelidir?



C)







7) Yukarıda verilen resimdeki varlığın adının hecelenışine göre dođru olarak ayrılışı ařađıdakilerden hangisidir?

- A) Hel - i - kop - ter
B) He - li - kop - ter
C) He - l - i - kop - ter

8) Ařađıdaki çocukların söyledikleri cümlelerin hangisinde hece sayısı daha fazladır?

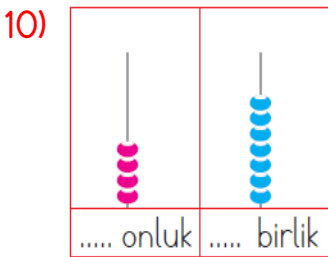
A)  Kitap okumayı seviyorum.

B)  Her gün düzenli spor yaparım.

C)  Bugün yağmur yağacakmış.

9) 7 birlik 3 onluktan oluşan doğal sayı ařađıdakilerden hangisidir?


- A) 73 B) 37 C) 77




Yanda abaküs modeli ile gösterilen doğal sayı ařađıdakilerden hangisidir?

- A) 46 B) 47 C) 74

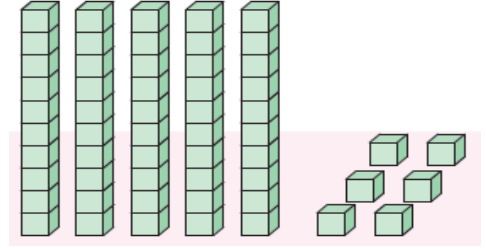
11) Hangi öğrencinin 57 sayısı ile ilgili verdiği bilgi yanlıştır?

A)  5 onluđu vardır.

B)  7 birliđi vardır.

C)  7 onluđu vardır.


12)



Yukarıdaki onluk ve birlik modeli ile gösterilen sayı ařađıdakilerden hangisidir?

- A) 5 birlik 6 onluk
B) 6 onluk 5 birlik
C) 5 onluk 6 birlik

13)



Yukarıdaki civciv sayıları bir düzineden kaç fazladır?

- A) 4 B) 3 C) 2


14)



İki deste fındık yiyen bir sincap kaç tane fındık yemiřtir?

- A) 24 B) 20 C) 22

15)



Yukarıdaki ekmek sayısını hangi hayvan doğru tahmin etmiştir?

A)



36

B)



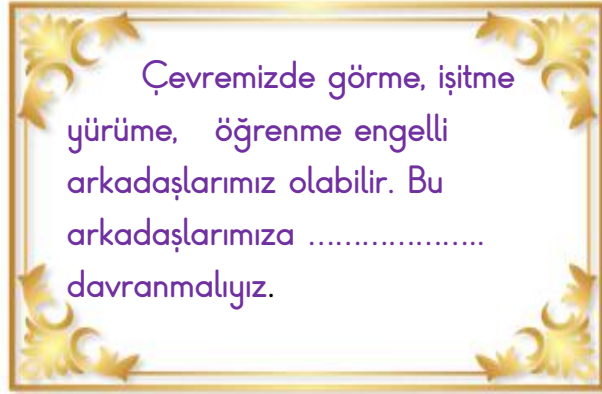
35

C)



37

16)



Bu açıklamada boş bırakılan yere aşağıdakilerden hangisi yazılmalıdır?

A) Hoşgörülü

B) Saygısız

C) Umursamaz

17) Aşağıda bireysel farklılıklarla ilgili verilen ifadelerden hangi yanlıştır?

A) İnsanlar arasında farklılıkların olması doğaldır.

B) Bireysel farklılıklara saygı duymalıyız.

C) Herkesin duygu ve düşünceleri birbirine benzer.

18)



Okan

Sen çok şişmansın bizimle oynayamazsın.



Okan'ın arkadaşına olan davranışı için hangisi söylenemez?

A) Oyunu kazanmak için gerekeni yapmıştır.

B) Arkadaşına olumsuz davranışta bulunmuştur.

C) Bu davranışı ile arkadaşını üzümüştür.

19) Bireysel farklılıkları olan arkadaşlarımıza karşı yaptığımız aşağıdaki davranışlardan hangisi yanlıştır?

A) Zihinsel engelli kişilere karşı hoşgörülü davranıyorum.

B) İşitme cihazı takan arkadaşımdan uzak duruyorum.

C) Engelli arkadaşımın onun katılabileceği oyunlar oynuyorum.

20)



Çok güzel resim çalışmalarını yapabiliyorum.



Tenis oyununda çok başarılıyım.

Yukarıdaki açıklamalar çocuklar arasındaki hangi farklılığı açıklamaktadır?

A) Yetenek

B) Duygusal

C) Fiziksel

Cevap Anahtarı

1)B 2)C 3)A 4)C 5)C
6)A 7)B 8)A 9)B 10)B
11)C 12)C 13)A 14)B 15)B
16)A 17)C 18)A 19)B 20)A