



Adı Soyadı :

Numarası :

Çalışma Kağıdı 1




Konu: Okulumuzda Hayat Ünite Değerlendirme

- Anlayışlı olmak ▲ Kavgacı olmak
● Güler yüzlü olmak ✨ Sabırlı olmak




1 Olumlu davranışların bulunduğu seçeneği işaretleyelim?

- A) ■ ● ▲ B) ✨ ■ ▲ C) ■ ✨ ●

2 Aşağıdaki görsellerin hangisinde arkadaşlık ilişkilerini olumsuz yönde etkileyen bir davranış vardır?

- A)  B) 
C) 

3 Aşağıdaki çocuklardan hangisi becerilerden söz edilmemiştir?

- A)  Televizyon izlemeyi seviyorum.
B)  Çok güzel resim yapabiliyorum.
C)  Müzik dersinde gitar çalabiliyorum.

4 Aşağıdakilerden hangisi sosyal yardımlaşmayı seven birinin özelliği olamaz?

- A) Yardım sever B) Duyarlı C) Sorumsuz

5 Aşağıdaki ifadelerden hangisi doğru davranışa örnektir?

- A) Her zaman yardım sever olmalıyız.
B) Arkadaşlarımızın fiziksel özellikleriyle dalga geçmeliyiz.
C) Ödünç aldığımız eşyaları geri vermemeliyiz.

6 Aşağıdakilerden hangisi okulumuzda yapacağımız sosyal çalışmalara örnek verilemez?

- A) Kütüphane için kitap kampanyası düzenlemek.
B) Arkadaşlarla birlikte hafta sonu denize gitmek.
C) Okulumuzun etrafına çiçek dikme kampanyası düzenlemek.

Arkadaşlarımla oyun oynamayı severim. Planlı ders çalışırım. Geç saatlere kadar televizyon izlerim.

7 Yukarıdaki paragrafta verilenlerden hangisi bir öğrencinin zayıf yönü olabilir?

- A) Oyun oynamak
B) Planlı olmak
C) Geç saatlere kadar oturmak

8 Meslek ve özellikleri hangi seçenekte yanlış verilmiştir?

- A) Doktor: İnsan sağlığıyla ilgilenmesi
B) Veteriner: Doğal çevre düzenlenmesi
C) Mimar: Evin planının çizilmesi

9

Okulda kaynakların verimli ve etkili kullanmak için aşağıdakilerden hangisini yapmamalıyız?

- A) Suyu ve sabunu israf eden arkadaşları uyarmalıyız.
- B) Gereksiz yere yanan lambaları kapatmalıyız.
- C) Okuldaki suyu sadece teneffüslerde kullanmalıyız.

10

Aşağıdaki davranışlardan hangisinin arkadaşlarımızda bulunmasını istemeyiz?

- A) Bencillik
- B) Naziklik
- C) Düzenlilik

11

Aşağıdaki görsellerden hangisi sorumluluğunun dışında bir iş yapmaktadır?

A)



B)



C)



-düzenli- yardım sever- cimri – bencil – kavgacı – planlı – duyarlı – anlayışlı – tutumlu – güler yüzlü

12

Yukarıdakilerden davranışların kaç tanesini arkadaşlarda bulunmasını isteriz?

- A) altı
- B) yedi
- C) sekiz

13

Aşağıdaki ifadelerden hangisi doğrudur?

- A) Sınavdan düşük not alan arkadaşımızla alay etmeliyiz.
- B) Yardıma ihtiyaç duyan arkadaşlarımıza yardım etmeliyiz.
- C) Kısa boylu arkadaşlarımızla alay etmeliyiz.

14

Aşağıdakilerden hangisi okulda tasarruf yapma yöntemi değildir?

- A) Kağıt israfı yapmamak.
- B) Kalorifer yanarken pencereleri açık bırakmak.
- C) Gereksiz yere tahtayı karalamamak.

15

Duyarlı kişiler aşağıdakilerden hangisini yapar?

- A) Engelli arkadaşı ile dalga geçer alay eder.
- B) Arkadaşlarına karşı bencil olur.
- C) Sınavdan düşük not alan arkadaşını teselli eder ona destek olur.

16

Aşağıdakilerden hangisi bir çocuğun yapabileceği işlerden değildir?

- A) Arabayı tamir etmek
- B) Sofrayı hazırlamak
- C) Bahçeyi temizlemek

17

Aşağıdaki mesleklerden hangisi güvenliğini sağlamaktadır?

- A) Doktor
- B) Polis
- C) Öğretmen