
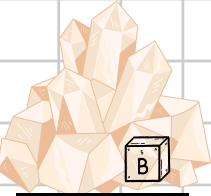


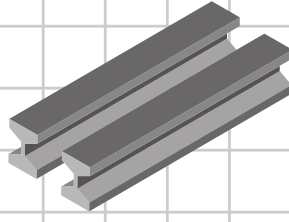



2. HAFTA

- Verilen görsellere göre madenlerinin isimlerini yazalım.



- Aşağıdaki kutucuklara numaralar vererek fosillerin oluşumunu doğru olarak sıralayalım.

- Canlı kalıntısı sertleşerek kayaç hâlini alır ve fosil oluşur.
- Milyonlarca yıl içinde canlının üzerindeki tabakaların kalınlığı artar.
- Ölen canlılar sel ve toprak kayması gibi dış etkenler ile kum ve çamurun altında kalır.
- Canlılar doğar, yaşar ve ölür.
- Yer kabuğunun hareketleri sonucu fosiller açığa çıkar.
- Canlının yumuşak dokuları yavaş yavaş çürür ve oluşan boşluklara su ile mineraller dolar.

