

OKUL TÜRKÜSÜ

Çok severiz biz okulu,
Kitabımız bilgi dolu.
Okur, yazar her Türk oğlu,
Yükselmenin budur yolu.

Biz okullu çocuklarız;
Hem çalışır, hem oynarız.

Kağıt, kalem, kitap, defter;
Bizi bunlar adam eder.
Öğretmeni candan dinler,
Öğreniriz pek çok şeyler.

Hasan Ali YÜCEL



1. Şiire göre kitabımız ne ile doludur?

- a) yazı ile b) şiir ile c) bilgi ile

2. Şiire göre öğretmenimizi nasıl dinleriz?

- a) candan b) kulaktan c) yakından

3. Birinci dördlük kaç **heceden** oluşmaktadır?

- a)  30 b)  31 c)  32

4. Verilen bilgilerden hangisi **yanlıştır**?

- a) Nokta, meslek ve unvan gibi bazı kelimelerin kısaltılmasında kullanılabilir.
b) Nokta, rakamların sonuna getirildiğinde sayılara -ıncı -inci anlamı katar.
c) Nokta, birbiri ardınca sıralanan kelimeleri ayırmak için kullanılır.


5. Hangi seçenekteki harflerin tamamı **ünsüz** harftir?

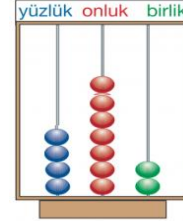
- a) ç-k-l-m-e b) t-r-d-v-p c) z-h-g-u-j

Yedi yüz üç

6.

Okunuşu yukarıda verilen sayı hangisidir?

- a)  703 b)  773 c)  733



Abakütle
modellenen
sayı kaçtır?

7.

- a) 482 b) 472 c) 742






8.

Yukarıda boş bırakılan yerlere sırayla hangi sayılar gelmelidir?

- a) 440 - 463 b) 443 - 463
c) 443-473

9. 125'ten başlayarak yüzer ileriye doğru sayarken **6. saymada** hangi sayıyı söyleriz?

- a)  525 b)  625 c)  725

Modellenen
sayı
hangisidir?

10.

- a) 349 b) 439 c) 943



11. Verilen rakamları birer kez kullanarak yazabileceğimiz en büyük üç basamaklı doğal sayı aşağıdakilerden hangisidir?

- a) 652 b) 762 c) 562

12. "Dört yüz altmış bir" doğal sayısının yüzler basamağıdaki rakamı 3 azaltıldığında yeni sayı hangisi olur?

- a) 431 b) 261 c) 161

13) Hangisi güçlü yönlerimizi bilmemizin faydalarından değildir?

- a) Doğru meslek seçimi
b) Doğru ders çalışma ve planlama
c) Doğru ve dengeli beslenme



Yandaki görsele göre Göktürk'ün güçlü yönü hangisidir?

- 14) a) Yüzme becerisi
b) Şiir becerisi
c) Resim becerisi

15) Aşağıdaki ifadelerden hangisinde Ayça, ilgi alanını ve becerisini belirtmektedir?

- a) Zayıf ve uzun boyluyum.
b) Saçlarım siyah, gözlerim kahverengidir.
c) Keman çalmayı çok seviyorum.

16. Verilen bilgilerden hangisi yanlıştır?

- a) Arkadaşlarımızla iletişim kurarken kibar ve güler yüzlü olmaya özen göstermeliyiz.
b) Arkadaşlarımızın zayıf yanlarıyla alay etmeliyiz.
c) Arkadaşlarımızla ders çalışırken iş birliği yapmalıyız.

17. Geçmişte yaşamış bazı insanlar Dünya'nın şeklinin küreye benzediğini ispatlamak için yolculuğa çıkmışlardır. Bu kişilerden biri de

Yukarıda verilen bilgiler ışığında boş bırakılan yere hangisi yazılmalıdır?

- a) Macellan b) Aristo c) Biruni

18) Dünya'mızın şekli aşağıdakilerden hangisine benzemektedir?

- a) kare b) dikdörtgen c) küre



19) Yaklaşmakta olan bir teknenin önce yelkeninin daha sonra tamamının görülmesinin sebebi nedir?

- a) Dünya'nın yuvarlak olması
b) Dünya üzerinde suların daha fazla olması
c) Denizdeki gemilerin küçük olması

20) Gök cisimleri ile uğraşan bilimin adı nedir?

- a) Astronomi b) Matematik c) Fizik

1. C
2. A
3. C
4. C
5. B
6. A
7. B
8. B
9. B
10. A

11. A
12. C
13. C
14. A
15. B
16. B
17. A
18. C
19. A
20. A