

Adı Soyadı:

4. SINIF 2. HAFTA KAZANIM DEĞERLENDİRME ETKİNLİĞİ

1. Aşağıdaki cümlelerin hangisinde zıt anlamlı sözcükler bir arada verilmiştir?

- A) Lambanın ışığı yüzüne vurduğu için gözlerini kısıtı.
- B) Sağlığı günden güne iyiye gidiyordu.
- C) Zor soruları kolay bir şekilde çözüyordu.
- D) İster bizimle gel ister gelme, sen bilirsin.

2. Aşağıdaki cümlelerin hangisinde "seyrek" sözcüğünün zıt anlamlısı kullanılmıştır?

- A) Ders programım çok karmaşık.
- B) Güzel günlere olan inancım her geçen gün artıyor.
- C) Kapıyı aralayıp dışarı çıkarken arkasına bakmadı.
- D) Bahçenin zemini sık otlarla kaplanmıştı.

3. Aşağıdaki cümlelerin hangisinde altı çizili sözcüğün zıt anlamlısı yoktur?

- A) Siyah elbisesine yemek damlatınca çok üzüldü.
- B) Annesi soğuk su içme diyerek onu uyardı.
- C) Doğal güzellikleri seyrederek yolculuk yapıyordu.
- D) Rüyamda gördüklerimi bir an gerçek sandım.

4. Aşağıdakilerden hangisi noktanın kullanım alanlarından birisi değildir?

- A) Eş görevli sözcüklerin arasında
- B) Kısaltmalardan sonra
- C) Saat ve dakika aralarında
- D) Tamamlanmış cümlelerin sonunda



düş arzu imkan
dil rüya lisan
istek olanak yaş

5.

Yukarıdaki tabloda verilen kelimeler eş anlamları ile eşleştirildiğinde hangisi açıkta kalır?

- A) düş B) yaş C) dil D) istek

6. 4 on binlik + 7 onluk + 5 yüzlük + 2 birlik

Yukarıda çözümlenmesi verilen sayı aşağıdakilerden hangisidir?

- A) 4572 B) 40572
- C) 4752 D) 40752

7. Aşağıda verilen matematiksel ifadelerden yanlış olan hangisidir?

- A) 386 217 sayısının basamaklarındaki rakamların sayı değerleri toplamı 27'dir.
- B) 305 169 sayısının on binler basamağındaki rakamın basamak değeri 0'dır.
- C) 159 753 sayısının binler basamağındaki sayının basamak değeri 9'dur.
- D) 200 002 sayısının basamaklarındaki rakamların sayı değerleri toplamı 4'tür.

4650 - 4750 - 4850 - 4950 - ?

8. Ece'nin yaptığı yüzer ritmik saymada soru işareti yerine gelmesi gereken sayı aşağıdakilerden hangisidir?

- A) 5050 B) 5150
- C) 5250 D) 5350



9. 2002'den başlayarak biner ritmik sayma yapan Kemal, aşağıdaki sayılardan hangisini söyleyemez?

- A) 3003
- B) 6002
- C) 8002
- D) 9002



10. Verilen yüzer ritmik saymaların hangisi hatalıdır?

- A) 287 - 387 - 487 - 587 - 687
- B) 195 - 295 - 395 - 495 - 595
- C) 534 - 634 - 734 - 834 - 934
- D) 360 - 460 - 560 - 666 - 760

11. Olayları anlatırken, olayları oluş tarihine göre sıralarız. Olayların oluş tarihine göre sıraya konulmasına ne ad verilir?

- A) dizilim
B) kronoloji
C) sıralama
D) histoloji

12. Hale, öğretmenine bugüne kadar yaşadığı önemli olayları oluş sırasına göre söylemektedir. Buna göre aşağıdakilerden hangisi, Hale'nin okula başlamasından sonra söyleyeceği cümlelerden biri olamaz?

- A) Okuma yazmayı öğrendim.
B) Emeklemeye başladım.
C) Cumhuriyet Bayramı'nda şiir okudum.
D) 4. sınıfa başladım.



13. I. 29 Ekim 1923
II. 23 Nisan 1920
III. 30 Ağustos 1922
IV. 19 Mayıs 1919



Yukarıda verilen milli bayramlarımızın tarihsel sıralamasının doğru olması için, hangi ikisi yer değiştirmelidir?

- A) I ve II
B) I ve III
C) II ve III
D) I ve IV

14. Aşağıda verilenlerden hangisi yaşamımızdaki önemli olaylardan biri olamaz?

- A) Kardeşimizin doğumu
B) Ablamızın evlenmesi
C) Okula başlamam
D) Akşamları erken uyumam

15. Aşağıdakilerden hangisi kimlik kartımızı kullandığımız yer veya durumlardan biri değildir?

- A) Hastanede muayene olurken
B) Polis kontrolü sırasında
C) Pazarda alışveriş yaparken
D) Okula kayıt olurken

16. Aşağıda verilen maden ve kullanım alanı eşleştirmelerinden hangisi yanlıştır?

- A) gümüş → ayna ve süs eşyası
B) bakır → kablo ve mutfak eşyaları
C) mermer → ulaşım ve elektrik
D) linyit → ısınma ve elektrik üretimi

17.

Milyonlarca yıl önce yaşamış hayvan ve bitkilerin kayaç, buzul ve ağaç reçineleri içindeki kalıntılara veya izlerine denir.

Erdem'in tanımını yaptığı kavram aşağıdakilerden hangisidir?

- A) fosil
B) toprak
C) taş
D) tabaka







18. Fosiller ile ilgili verilen bilgilerden hangisi doğrudur?

- A) Fosilleşmenin olması için kalıntıların tamamen hava ile teması kesilmiş olmalıdır.
B) Milyonlarca yıl önce kullanılmış bir aletin de fosili olabilir.
C) Fosiller geçmiş zaman hakkında bilgi vermez.
D) Fosil oluşumu için yüz yıl yeterlidir.

19. "Fosilleri inceleyen bilim dalına¹ denir. Bu bilim dalı ile uğraşan bilim insanlarına da² denir." cümlesinde boş bırakılan yerlere sırası ile hangi kelimeler yazılmalıdır?

- A) psikoloji psikolog
B) paleontoloji paleontolog
C) zooloji zoolog
D) biyoloji biyolog

20. Verilen görsellerden hangisi bir fosile ait olamaz?

- A)  B) 
C)  D) 

4. SINIF 2. HAFTA KAZANIM DEĞERLENDİRME ETKİNLİĞİ

CEVAP ANAHTARI

1.	C	11.	B
2.	D	12.	B
3.	B	13.	D
4.	A	14.	D
5.	B	15.	C
6.	B	16.	C
7.	C	17.	A
8.	A	18.	A
9.	A	19.	B
10.	D	20.	C