

## ANKA

Bir varmış bir yokmuş, evvel zaman içinde kalbur saman içinde Anka adında bir tavşan yaşarmış. Bu tavşanın bembeyaz tüyleri, masmavi gözleri varmış. Anka, annesi ve babasıyla birlikte küçük tatlı bir evde yaşarmış.

Anka, bilgisayar oyunlarını çok severmiş. Her gün saatlerce bilgisayar başında oturur, sadece zorunlu ihtiyaçlarını gidermek için kalkar, daha sonra tekrar oturmuş. Annesi ve babası Anka'yı sürekli uyarır, gözlerinin bozulacağını söylemiş. Ama gelin görün ki Anka onları hiç dinlemez hatta gece uykusundan uyanır oyun oynamaya devam edermiş...

1. Anka, nerede yaşarmış?

- a) ormanda      b) evde      c) parkta




2. Anka'yı annesi ve babası neden uyarırmış?

- a) Gözleri bozulacağı için  
b) Sağlıklı beslenmesi için  
c) Kitap okuması için

3. "Kütüphane" kelimesinin doğru hecelenişi hangisidir?

- a) Küt-üp-ha-ne      b) Kü-tüp-ha-ne  
c) Kü-tüp-hane




4. Aşağıdaki görsellerden hangisinde sesli harf daha fazladır?

- a)       b)       c) 

5. Aşağıdaki noktalama işaretlerinden hangisi cümle sonunda bulunmaz?

- a) Soru işareti      b) Ünlem işareti  
c) Virgöl

6. Onlar basamağındaki rakamın basamak değeri 70, yüzler basamağındaki rakamın basamak değeri 800, birler basamağındaki rakamın basamak değeri 5 olan sayı hangisidir?

- a)       b)       c) 

7. Yüzler basamağı 6 olan rakamları farklı en büyük üç basamaklı sayı kaçtır?

- a) 965      b) 698      c) 699

8. 578 ve 767 sayılarındaki "7" rakamlarının basamak değerleri toplamı kaçtır?

- a)       b)       c) 

9. Aşağıdaki verilen sayılardan hangisinin en yakın olduğu onluk 450'dir?

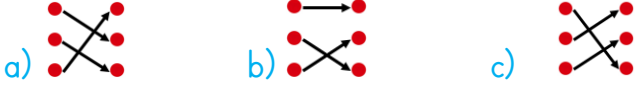
- a) 454      b) 455      c) 456

10. 7□5 sayısı 700 sayısına yuvarlandığına göre □ yerine hangi rakam gelmelidir?

- a) 6      b) 5      c) 4

249	●	●	400
345	●	●	200
351	●	●	300

11. Yukarıdaki sayılar en yakın yüzlüğe yuvarlanıp eşleştirildiğinde hangisini **doğru** olur?



12.

7 onluk + 6 birlik + 3 yüzlük

Yukarıda çözümlenmesi verilen sayı ile aşağıdaki sayılardan hangisinin en yakın onluğu **aynıdır**?

- a) 384                      b) 374                      c) 385

13. Hangisi ülkemizin kurucusu Mustafa Kemal Atatürk'ün güçlü yönlerinden biri **değildir**?

- a) Disiplinli olması                      b) Planlı çalışması  
c) İyi resim yapması

14. Aşağıdakilerden hangisi iyi bir arkadaşta olması gereken özelliklerden **değildir**?

- a) Yardımlaşmak                      b) Saygılı olmak  
c) Bencil olmak




15. Aşağıdaki bilgilerden hangisi **yanlıştır**?

- a) İyi bir arkadaş, paylaşımcıdır.  
b) İyi bir arkadaş, taraflı davranır.  
c) İyi bir arkadaş, verdiği sözü zamanında yerine getirir.

16. Aşağıdakilerden hangisi Dünya'mızın **gözlemlenemeyen** katmanlarından?

- a) su katmanı                      b) çekirdek                      c) kara katmanı

17. Aşağıdakilerden hangisi Dünya'mızın iç katmanlarından **değildir**?

- a)  atmosfer                      b)  manto  
c)  çekirdek



Yandaki model ile ilgili olarak aşağıdakilerden hangisi **söylenemez**?

18.

- a) Dünya katmanlardan oluşur.  
b) Dünya'nın şekli küreye benzer.  
c) Dünya'nın en iç kısmında su katmanı bulunur.

19. Verilen bilgilerden hangisi **yanlıştır**?

- a) En sıcak katman kara katmanıdır.  
b) Taş, toprak ve kaya gibi maddeler Dünya'nın kara katmanını oluşturur.  
c) Hava katmanı kara ve su katmanı ile temas hâlinindedir.

20. Dünya'mızı Güneş'in zararlı ışınlarından koruyan katman hangisidir?

- a) kara katmanı                      b) su katmanı  
c) hava katmanı

## CEVAPLAR

Adı Soyadı: .....

- |    |   |   |   |    |   |   |   |
|----|---|---|---|----|---|---|---|
| 1  | A | B | C | 11 | A | B | C |
| 2  | A | B | C | 12 | A | B | C |
| 3  | A | B | C | 13 | A | B | C |
| 4  | A | B | C | 14 | A | B | C |
| 5  | A | B | C | 15 | A | B | C |
| 6  | A | B | C | 16 | A | B | C |
| 7  | A | B | C | 17 | A | B | C |
| 8  | A | B | C | 18 | A | B | C |
| 9  | A | B | C | 19 | A | B | C |
| 10 | A | B | C | 20 | A | B | C |

## CEVAPLAR

Adı Soyadı: .....

- |    |   |   |   |    |   |   |   |
|----|---|---|---|----|---|---|---|
| 1  | A | B | C | 11 | A | B | C |
| 2  | A | B | C | 12 | A | B | C |
| 3  | A | B | C | 13 | A | B | C |
| 4  | A | B | C | 14 | A | B | C |
| 5  | A | B | C | 15 | A | B | C |
| 6  | A | B | C | 16 | A | B | C |
| 7  | A | B | C | 17 | A | B | C |
| 8  | A | B | C | 18 | A | B | C |
| 9  | A | B | C | 19 | A | B | C |
| 10 | A | B | C | 20 | A | B | C |

## CEVAPLAR

Adı Soyadı: .....

- |    |   |   |   |    |   |   |   |
|----|---|---|---|----|---|---|---|
| 1  | A | B | C | 11 | A | B | C |
| 2  | A | B | C | 12 | A | B | C |
| 3  | A | B | C | 13 | A | B | C |
| 4  | A | B | C | 14 | A | B | C |
| 5  | A | B | C | 15 | A | B | C |
| 6  | A | B | C | 16 | A | B | C |
| 7  | A | B | C | 17 | A | B | C |
| 8  | A | B | C | 18 | A | B | C |
| 9  | A | B | C | 19 | A | B | C |
| 10 | A | B | C | 20 | A | B | C |

## CEVAPLAR

Adı Soyadı: .....

- |    |   |   |   |    |   |   |   |
|----|---|---|---|----|---|---|---|
| 1  | A | B | C | 11 | A | B | C |
| 2  | A | B | C | 12 | A | B | C |
| 3  | A | B | C | 13 | A | B | C |
| 4  | A | B | C | 14 | A | B | C |
| 5  | A | B | C | 15 | A | B | C |
| 6  | A | B | C | 16 | A | B | C |
| 7  | A | B | C | 17 | A | B | C |
| 8  | A | B | C | 18 | A | B | C |
| 9  | A | B | C | 19 | A | B | C |
| 10 | A | B | C | 20 | A | B | C |

## CEVAPLAR

1.	B	6.	B	11.	A	16.	B
2.	A	7.	B	12.	A	17.	A
3.	C	8.	C	13.	C	18.	C
4.	A	9.	A	14.	C	19.	A
5.	C	10.	C	15.	B	20.	C