



Adı Soyadı : .....

Numarası : .....

Konu: Onluk ve Birliklere Ayrılım

Aşağıda onluk ve birlik taban blokları verilen sayıları yazalım.

..... Onluk .....birlik

Sayının okunuşu: .....

.....onluk ..... birlik

Sayının okunuşu : .....

..... Onluk .....birlik



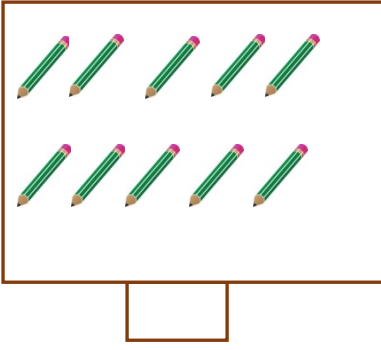
Sayının okunuşu : .....

.....onluk ..... birlik



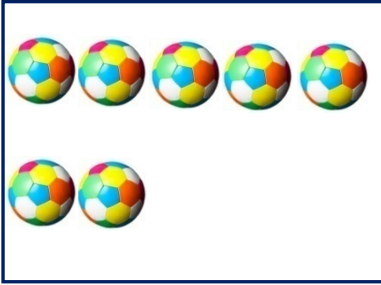
Sayının okunuşu : .....

Aşağıdaki nesne gruplarından **deste** olanlarının altındaki kutucuğu işaretleyiniz.


Aşağıdaki nesne gruplarından **düzine** olanlarının altındaki kutucuğu işaretleyiniz.



Aşağıdaki nesne gruplarını **1 desteye** tamamlayın.



Aşağıdaki nesne gruplarını **1 düzineye** tamamlayın.



Kurbağaya bir deste benek, uğurböceğine ise bir düzine benek çizelim.

