

Adı :
Soyadı :

1. Sınıf
Matematik

Tartma-1

Daha ağır olanı işaretleyiniz. Cümle kurarak söyleyiniz.



Daha hafif olanı işaretleyiniz. Cümle kurarak söyleyiniz.







Adı :
Soyadı:

1. Sınıf
Matematik

Tartma-1

Daha ağır olanları boyayınız.



Daha hafif olanları boyayınız.

