

Adı : .....  
Soyadı: .....

## 2. Sınıf Matematik

## Basamak Değerleri Yaprak Test-1



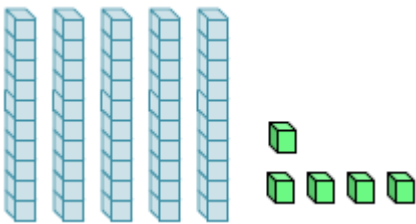
1- Yukarıda verilen kalemlerin sayısında kaç tane birlik vardır?

- A) 3      B) 4      C) 5



2- Yukarıda verilen arabaların sayısı için hangisi doğrudur?

- A) 1 onluk 5 birlik  
B) 1 onluk 6 birlik  
C) 3 onluk 1 birlik



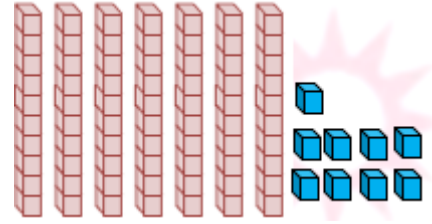
3- Yukarıda onluk ve birlikleri verilen sayı kaçtır?

- A) 55      B) 56      C) 54



4- Yukarıdaki her kalem kutusunda 10 tane kalem vardır. Bütün kalemlerin sayısı kaçtır?

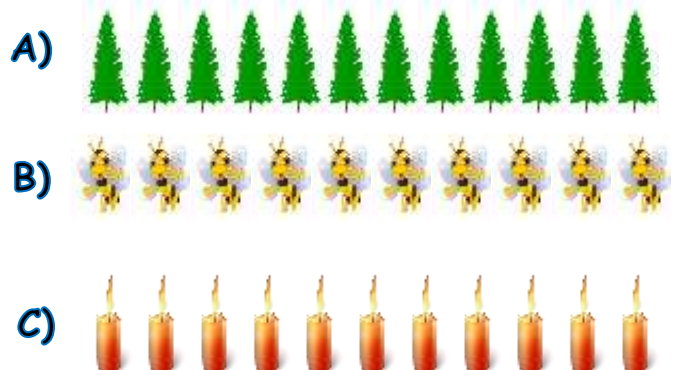
- A) 4 onluk 2 birlik  
B) 4 onluk 8 birlik  
C) 8 onluk 4 birlik



5- Yukarıda verilen kutuların sayısı kaçtır?

- A) 79      B) 68      C) 88

6- Aşağıdaki nesnelere hangisinin sayısı bir düzineye eşittir?

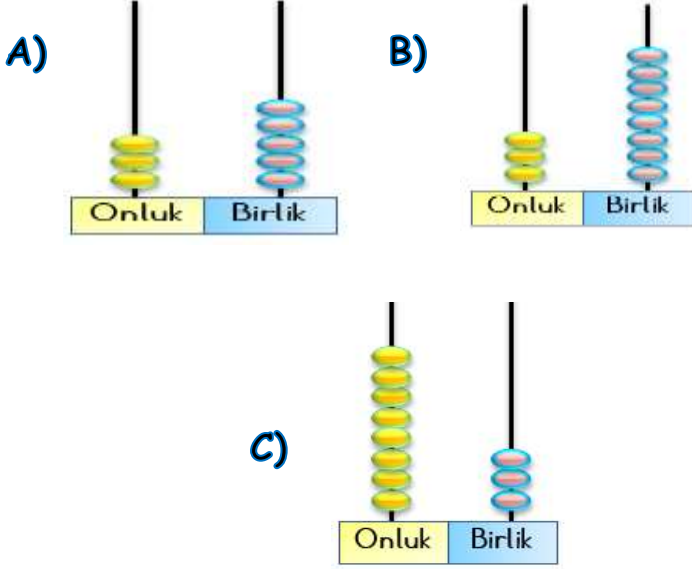


Adı : .....  
Soyadı: .....

## 2. Sınıf Matematik

## Basamak Değerleri Yaprak Test-1

7- Aşağıdakilerden hangisi 38 sayısını göstermektedir?



8- Aşağıdaki sayılardan hangisinin birler basamağının basamak değeri 5'tir?

- A) 25      B) 53      C) 50

9- Aşağıdakilerden hangisi yanlıştır?

- A) **15**      5 onluk 1 birlik
- B) **50**      5 onluk 0 birlik
- C) **43**      4 onluk 3 birlik



10- Yukarıdaki sayılardan hangisinin onlar basamağındaki sayı diğerlerinden büyüktür?

- A) 57      B) 82      C) 45

$$10 + 10 + 10 + 10 + 10 + 10 + 1 + 1 + 1 + 1 + 1$$

11- Yukarıdaki onluk ve birlik sayıları verilen sayı kaçtır?

- A) 56      B) 65      C) 51

Doğru :.....

Yanlış:.....

- |   |   |   |   |    |   |   |   |
|---|---|---|---|----|---|---|---|
| 1 | A | B | C | 8  | A | B | C |
| 2 | A | B | C | 9  | A | B | C |
| 3 | A | B | C | 10 | A | B | C |
| 4 | A | B | C | 11 | A | B | C |
| 5 | A | B | C | 12 | A | B | C |
| 6 | A | B | C | 13 | A | B | C |
| 7 | A | B | C | 14 | A | B | C |