

RİTMİK SAYMA ETKİNLİKLERİ-1

Bilgi kutusundakileri defterimize yazalım ve soruyu cevaplayalım.






Aşağıdaki görseli boyayalım. Kesip defterimize yapıştıralım.

Belirli bir kurala göre sayı aralıklarını değiştirmeden ileri veya geri saymaya "ritmik sayma" denir.

Örneğin, ileriye doğru ikişer sayarken sayıları ikişer artırır, geriye doğru sayarken de ikişer azaltırız.

SORU: 5'ten 25'e kadar ikişer sayarak yazalım.


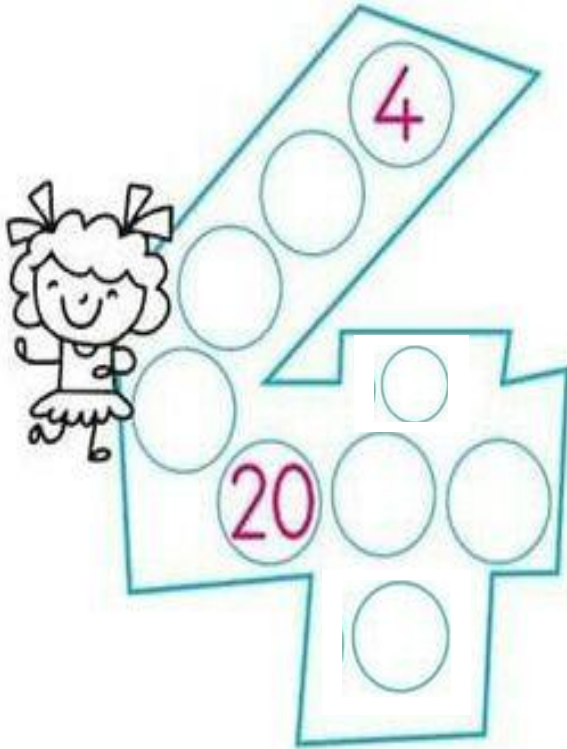


CEVAP:

				
2	3	4	5	10
4	6	8	10	20
6	9	12	15	30
8	12	16	20	40
10	15	20	25	50
12	18	24	30	60
14	21	28	35	70
16	24	32	40	80
18	27	36	45	90
20	30	40	50	100



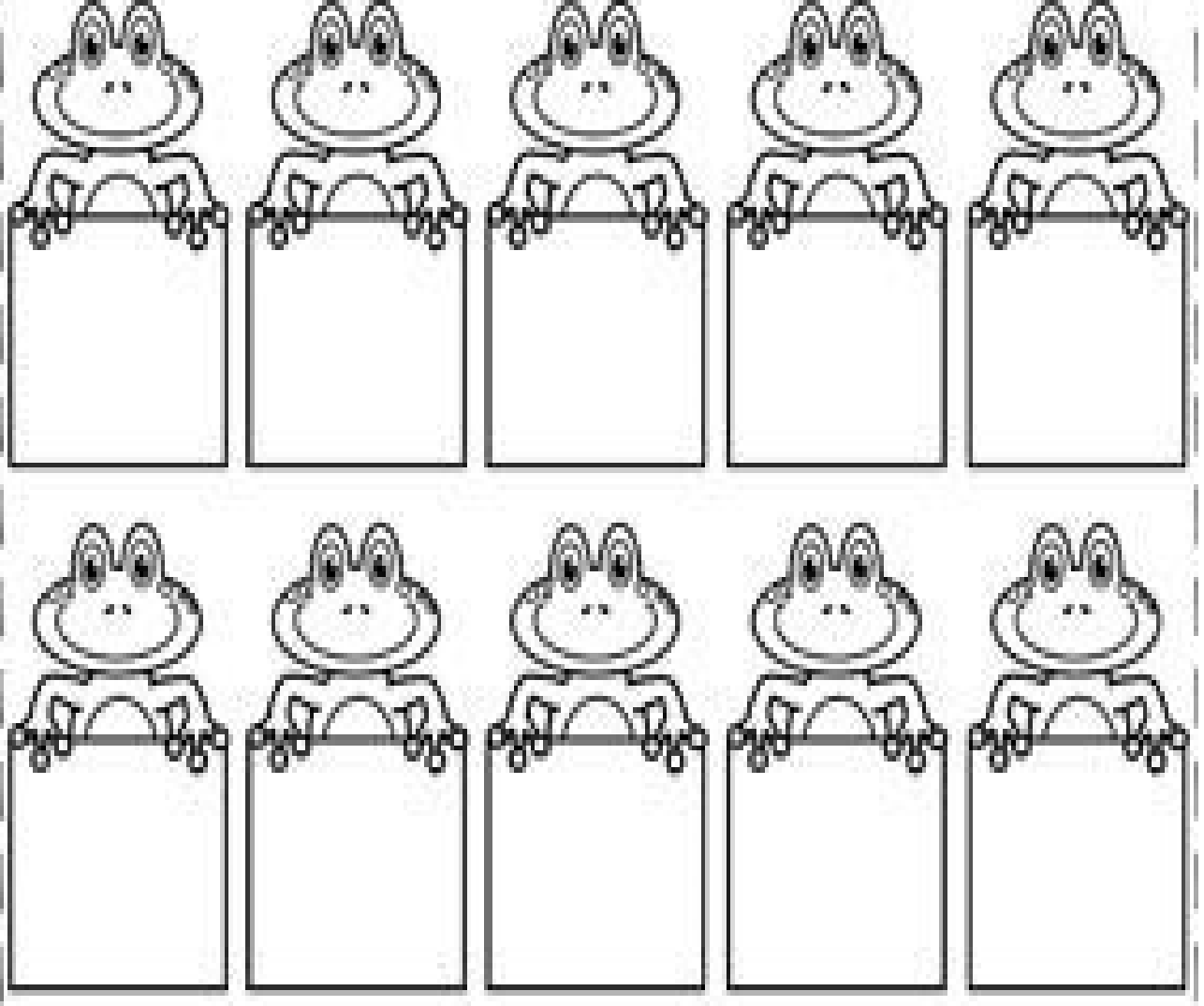
RİTMİK SAYMA ETKİNLİKLERİ-2

Ritmik saymalarda yer alan boşlukları dolduralım ve görseli boyayalım.



RİTMİK SAYMA ETKİNLİKLERİ-3

Kurbağaların ellerindeki kutulara üçer ritmik sayma kartlarını ileriye doğru sayarak yapıştıralım. Kurbağaları boyayalım.




12	21	27	6	24
30	15	9	18	3



RİTMİK SAYMA ETKİNLİKLERİ-4

Dörder ritmik sayma kartlarını 40'tan geriye sayarak yapıştıralım.




16	40	4	32	20
12	24	9	28	8



RİTMİK SAYMA ETKİNLİKLERİ-5



- Aşağıdaki soruları cevaplayalım.



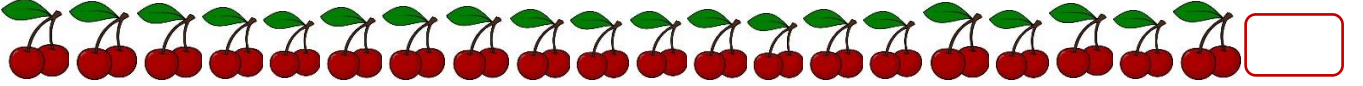
Yandaki raflara toplar dörderli olarak yerleştirilmiştir.

Raflardaki top sayısını dörder sayarak bulalım.


Kitapları üçer sayarak kitap sayısını bulalım.



Pasta şefinin yaptığı pastayı süslemek için kullanacağı kirazları ikiser sayarak kiraz sayısını bulalım.



Öğretmenimizin yıldız öğrenciler tablosuna yapıştırdığı yıldızları beşer sayarak yıldız sayısını bulalım.




Küçük arabalarla koleksiyon yapan dayımın koleksiyonunda kaç araba olduğunu bulmak için arabaları onar sayalım.




- Ritmik saymaların kuralını örnekteki gibi belirleyelim ve boşluklara gelmesi - gereken sayıları bulalım.

 18 - 16 - 14 - 12 - - 8 - 6 - - 2 - 0

Kural: İkişer geriye sayma

 - 8 - 12 - - 20 - 24 -


Kural:

 6 - 9 - 12 - - 18 - 21 - 24 - 27 -


Kural:

 55 - - 35 - 25 - 15

Kural:

 45 - - 35 - 30 - 25 - 20 - - 10 - 5

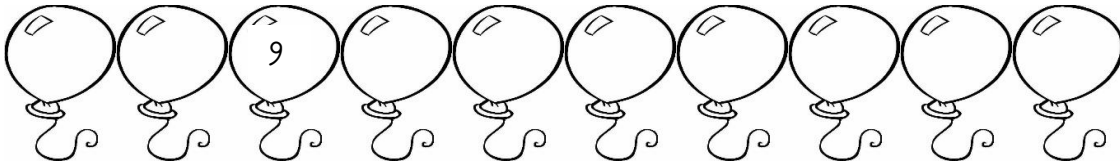
Kural:

 13 - 15 - 17 - - 21 - 23 -


Kural:

- Verilen kurala göre ritmik saymaları sürdürüelim.


Kural: Üçer ileriye sayma




Kural: Dörder geriye sayma



Kural: İkişer geriye sayma



Kural: Beşer ileriye sayma



Kural: Onar geriye sayma

