

Adı :
Soyadı:

2. Sınıf
Matematik

Doğal Sayılar
Örüntüler-2

Örüntünün kuralını bularak boşlukları tamamlayalım.



★ =
♥ =

Örüntünün Kuralı :



★ =
♥ =

Örüntünün Kuralı :



★ =
♥ =

Örüntünün Kuralı :



★ =
♥ =

Örüntünün Kuralı :



★ =
♥ =



Örüntünün Kuralı :

Adı :
Soyadı:

2. Sınıf Matematik



Doğal Sayılar Örüntüler-2



 =
 =


Örüntünün Kuralı :



 =
 =

Örüntünün Kuralı :



 =
 =

Örüntünün Kuralı :



 =
 =



Örüntünün Kuralı :



 =
 =

Örüntünün Kuralı :



 =
 =

Örüntünün Kuralı :