



Adı Soyadı :

Numarası :

Çalışma Kağıdı 1

Konu: Basamak Değeri

Kazanım 1: Üç basamaklı doğal sayıların basamak adlarını, basamaklarındaki rakamların basamak değerlerini belirler.

Tabloda taban blokları verilen sayıyı aşağıdaki noktalı yerlere yazalım.

Yüzlük	Onluk	Birlik

Sayı:		
Sayının okunuşu:		
Basamak Adları:
Rakamın Basamak Değeri:

Aşağıdaki abaküslerde gösterilen sayıları bularak noktalı yerleri uygun şekilde doldurunuz.

		<u>Basamak Adları</u>	<u>Basamak Değeri</u>
	
	
	

		Basamak Adları	Basamak Değeri
	
	
	

Aşağıda basamak değerleri verilen sayıları yazalım.

600	40	1
.....		

300	10	9
.....		

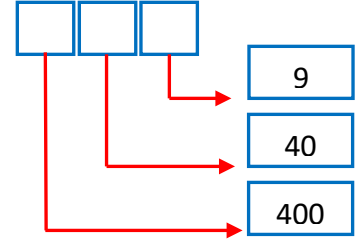
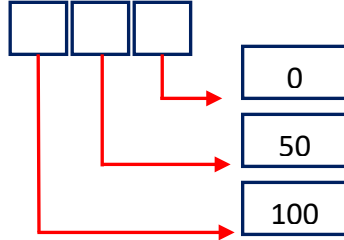
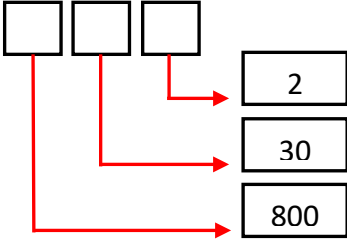
900	80	6
.....		

200	20	2
.....		

700	90	3
.....		

500	70	5
.....		

Aşağıda basamak değerleri verilen sayıları yazınız.



Aşağıdaki tablodaki noktalı yerleri tamamlayalım.

.....	4 onluk
600
.....	iki
642		

.....	6 birlik
.....	70
Sekiz yüz
876		

Aşağıdaki verilen doğal sayının basamak adlarını ve basamak değerlerini yazalım.

