

Adı : .....

Soyadı: .....

2. Sınıf  
Matematik

Doğal Sayılar  
Örüntüler-4

Örüntünün kuralına göre örüntüyü devam ettiriniz.

+2 → 37

+3 → 56

+5 → 44

-2 → 78

+3 → 69

+5 → 24

+2 → 35

-4 → 100

-5 → 84

-4 → 93

-2 → 81

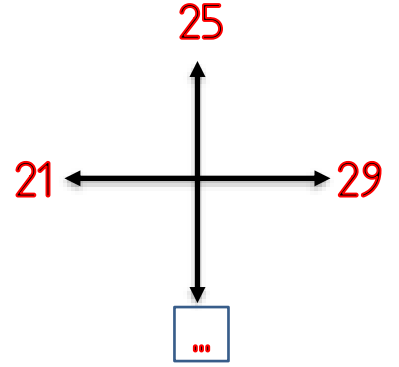
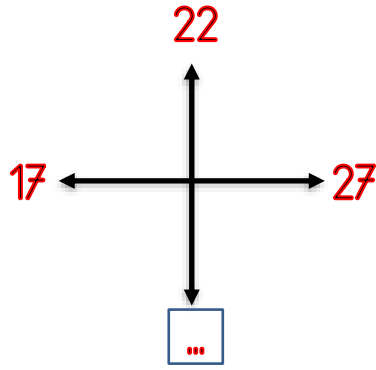
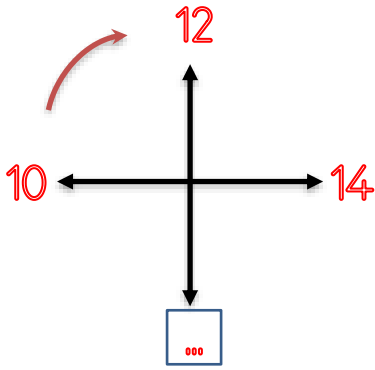
-3 → 62

Adı : .....  
Soyadı: .....

2. Sınıf  
Matematik

Doğal Sayılar  
Örüntüler-4

Örüntünün kuralına göre boşlukları tamamlayınız.



|      |    |
|------|----|
| 25   | 23 |
| .... | 21 |

|      |    |
|------|----|
| 42   | 45 |
| .... | 48 |

|      |    |
|------|----|
| 71   | 68 |
| .... | 65 |

|      |    |
|------|----|
| 65   | 60 |
| .... | 55 |

|      |    |
|------|----|
| 100  | 98 |
| .... | 96 |

