

Adı :

Soyadı:


3. Sınıf
Matematik

Doğal Sayılar
Örüntüler-2


Verilen kurala göre örüntüyü tamamlayınız.

 **Kural**
3'er artıyor → 52

☁ ☁ ☁ ☁ ☁ ☁

 **Kural**
5'er azalıyor → 52


☁ ☁ ☁ ☁ ☁ ☁

 **Kural**
8'er artıyor → 52

☁ ☁ ☁ ☁ ☁ ☁

 **Kural**
4'er azalıyor → 52


☁ ☁ ☁ ☁ ☁ ☁

 **Kural**
9'ar azalıyor → 81


☁ ☁ ☁ ☁ ☁ ☁

 **Kural**
10'ar azalıyor → 81

☁ ☁ ☁ ☁ ☁ ☁

 **Kural**
4'er artıyor → 81

☁ ☁ ☁ ☁ ☁ ☁

 **Kural**
3'er azalıyor → 81

☁ ☁ ☁ ☁ ☁ ☁

Adı :
Soyadı:

3. Sınıf
Matematik

Doğal Sayılar
Örüntüler-2

Görsellerdeki sayılar belli bir kurala göre yazılmıştır. Verilmeyen sayıyı bulunuz.

