

Adı : .....

Soyadı: .....


3. Sınıf  
Matematik

Doğal Sayılar  
Tek ve Çift Sayılar-1


*Nesnelerin sayısını ikişer ikişer gruplandırarak tek mi çift mi olduğunu yazınız.*




Sayı: .....



Sayı: .....




Sayı: .....



Sayı: .....



Sayı: .....




Sayı: .....



Sayı: .....




Sayı: .....



Sayı: .....




Sayı: .....




Sayı: .....




Sayı: .....



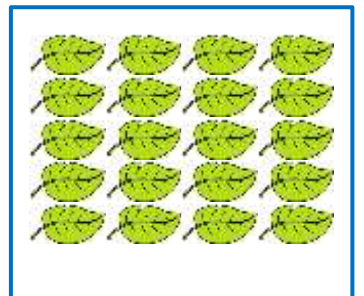
Sayı: .....



Sayı: .....



Sayı: .....



Sayı: .....

Adı : .....

Soyadı: .....

3. Sınıf  
Matematik

Doğal Sayılar  
Tek ve Çift Sayılar-1

Birler basamağı

1-3-5-7-9 olan doğal sayılar TEK

0-2-4-6-8- olan doğal sayılar ÇİFT

Aşağıdaki sayılardan tek olanlarını yuvarlak içine alınız.

5	8	9	17	24	29	33	38	40	47	52	56	69
100	115	126	137	248	569	473	168	863	555	357	781	220
765	391	7	685	466	641	554	997	588	345	531	456	793
257	473	199	333	653	546	575	851	1	523	254	359	395
884	995	651	458	617	219	440	435	356	577	355	991	198
111	386	0	179	448	3	566	359	684	10	726	437	386
335	210	417	453	654	70	887	450	685	567	582	281	668
768	864	477	82	545	399	462	361	53	999	653	91	259

Aşağıdaki sayılardan çift olanlarını yuvarlak içine alınız.

10	11	7	106	14	808	115	550	206	385	332	2	666
997	414	143	668	476	600	121	784	1	353	92	469	714
516	6	619	470	473	351	472	573	52	500	105	390	209
100	663	6	448	102	0	785	490	76	88	302	877	558
651	444	5	763	52	433	252	618	741	614	346	3	351
447	750	627	22	455	504	6	309	300	496	10	567	192
998	343	406	810	836	8	108	612	627	92	533	552	927
97	640	535	376	73	722	38	954	186	9	328	621	900