

Adı :
Soyadı:

2. Sınıf Matematik

Karşılaştırma Yaprak Test-1

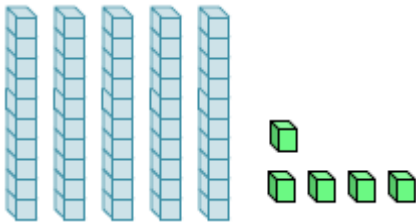
1- Aşağıdaki sayılardan hangisi diğerlerinden daha büyüktür?

- A) 56 B) 49 C) 28

35 40 31 41

2- Yukarıda verilen sayılardan en küçük ve en büyük olanı hangisinde yazılmıştır?

- A) En büyük 41 En küçük = 35
B) En büyük 41 En küçük = 31
C) En büyük 40 En küçük = 31



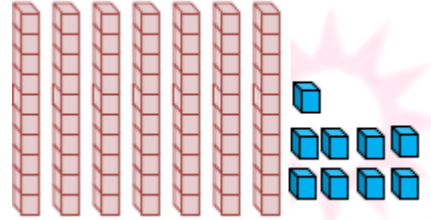
3- Aşağıdaki sayılardan hangisi yukarıdaki modelden küçüktür?

- A) 53 B) 58 C) 57

51 58 55 53

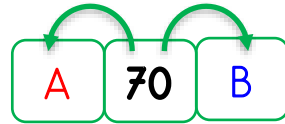
4- Yukarıdaki sayılardan hangileri 5 onluk 4 birlikten fazladır?

- A) 58 ve 55
B) 51 ve 53
C) 55 ve 53



5- Yukarıda verilen sayı hangi sayıların arasında yer alır?

- A) 77-79
B) 78-80
C) 68-80



6- Yukarıdaki sıralamada A ve B yerine hangi sayılar yazılmalıdır?

- A) A = 71 B=72
B) A = 69 B=71
C) A = 59 B=71

Adı :
Soyadı:

2. Sınıf
Matematik

Karşılaştırma
Yaprak Test-1

57

63

A

76

7- Yukarıdaki sayılar küçükten büyüğe doğru sıralanmıştır. A yerine hangi sayı yazılamaz?

- A) 68 B) 74 C) 56

39

27

84

61

8- Yukarıda verilen sayıların büyükten küçüğe doğru sıralaması hangisinde doğru yazılmıştır?

- A) 27-39-61-84
B) 84-61-39-27
C) 61-39-81-27

9- Aşağıdaki sayılardan hangisi en küçüktür?

- A) Üç onluk beş birlik
B) Üç birlik beş onluk
C) Sıfır birlik altı onluk

77 77

10- Yukarıdaki boşluğa hangisi yazılmalıdır?

- A) büyüktür
B) eşittir
C) küçüktür

11- İki basamaklı en büyük sayı aşağıdakilerden hangisidir?

- A) 99 B) 100 C) 90

12- İki basamaklı en küçük sayının birler basamağında bulunan rakam hangisidir?

- A) 1 B) 0 C) 9

Doğru :.....

Yanlış:.....

1 A B C

2 A B C

3 A B C

4 A B C

5 A B C

6 A B C

7 A B C

8 A B C

9 A B C

10 A B C

11 A B C

12 A B C

13 A B C

14 A B C