

Adı :

Soyadı:

2. Sınıf
Matematik

Doğal Sayılar
Onluğa Yuvarlama-1

Tabloyu doldurunuz.

←					→					
0										10
10										20
20										30
30										40
40										50
50										60
60										70
70										80
80										90
90										100

Tabloya bakarak aşağıdaki sayılar hangi onluğa yakın olduğunu yazınız.

12 →

21 →

49 →

11 →

28 →

73 →

19 →

23 →

84 →

16 →

37 →

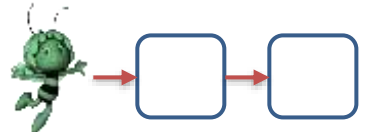
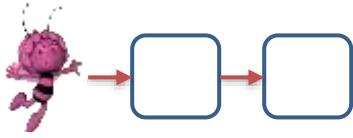
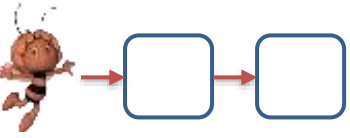
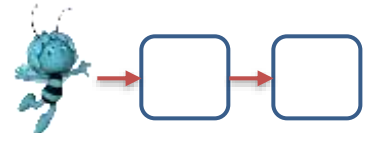
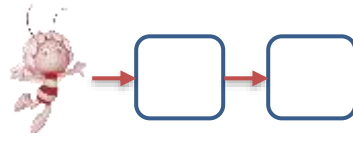
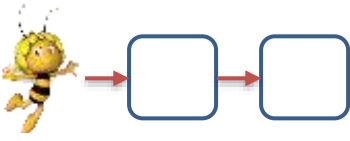
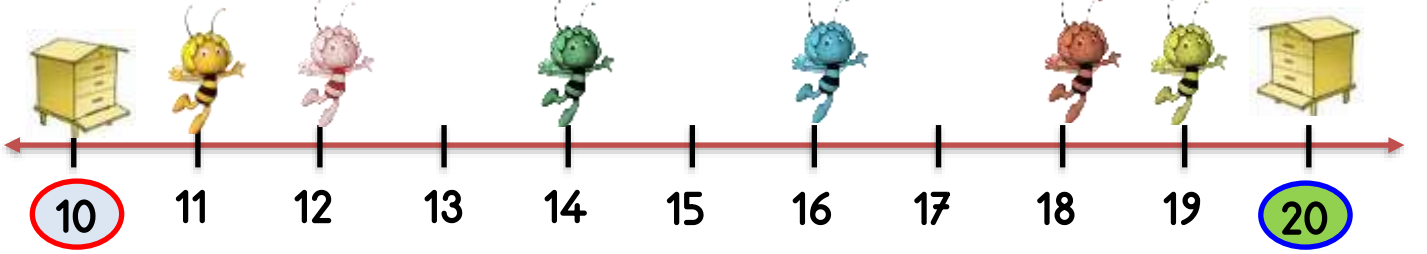
65 →

Adı :
Soyadı:

2. Sınıf
Matematik

Doğal Sayılar
Onluğa Yuvarlama-1

Arıların bulunduğu yeri yazınız ve gideceği en yakın kovana işaretleyiniz.



Neredeki köpek neredeki kemiğe daha yakındır?

