



Yavru martı, kumlukta yalnız kalınca durumunu düşündü. Önünde bol yiyecek vardı. Kumluk sıcak, rahatı iyiydi. Sadece karşı kayalıklardan gelen martı çığlıkları tedirgin ediyordu onu. Orayı ve oradakileri seviyordu. Ama, uçmaya başladığından beri, annesi dirlik vermiyordu. İki bir:

- Hadi uç, denize dal, balık avla, diyerek başının etini yiyordu.

Not: İlk 3 soruyu metne göre cevaplayınız.

1) Yavru martı **nerede** yalnız kalmıştır?

- A) Denizde
- B) Yuvasında
- C) Kumlukta

2) Yavru martıyı tedirgin eden **nedir**?

- A) Yalnız kalması
- B) Martı çığlıkları
- C) Kumluğun sıcaklığı

3) Annesi yavru martıdan **ne** istiyor?

- A) Uçup, denize dalıp balık avlamasını
- B) Gezip eğlenmesini
- C) Kumlukta yalnız kalmasını

4) Aşağıdaki renk isimlerinden **hangisinin zıt (karşıt)** anlamlısı vardır?

- A) Kırmızı
- B) Beyaz
- C) Sarı



Nil'in söylediği kelimelerin zıt anlamlıları sırasıyla hangi seçenekte **verilmiştir**?

- A) Yüksek - Doğu - Pinti
- B) Yukarı - Batı - Pinti
- C) Yukarı - Güney - Cömert

6) "Araba yoldaki **tümsekten** çok hızlı geçti."

Yukarıdaki cümlede altı çizili sözcüğün **zıt anlamlısı** hangi seçenekte verilmiştir?

- A) Engel
- B) Çukur
- C) Uçurum

- 7) **çalışkan** **yaşlı** **fakir**

Aşağıdaki kelimelerden hangisinin **zıt anlamlısı**, yukarıdakiler arasında **yoktur**?

- A) ihtiyar
B) zengin
C) tembel



Hangi cümlede "**yavaş**" sözcüğünün **karşıt anlamlısı** kullanılmıştır?

- A) Arda koşarak içeriye girdi.
B) Ömer bu oyunda hızlı davrandı.
C) Aslı soruları çabuk çözdü.

- 9)

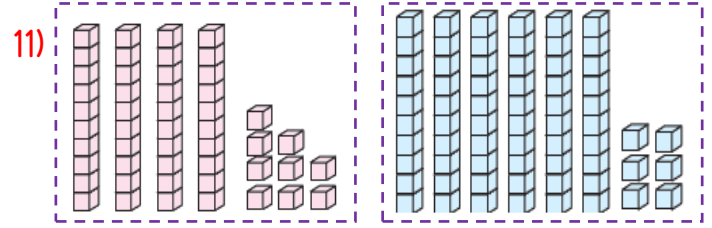
54	70
68	82

Yukarıda verilen sayıların **büyükten küçüğe** doğru sıralanışı hangi seçenekte doğru olarak verilmiştir?

- A) 82-68-70-54
B) 70-82-68-54
C) 82-70-68-54

- 10) "..... **küçüktür 39'dan**" ifadesinde noktalı yere aşağıdaki sayılardan hangisi **gelmelidir**?

- A)41 B) 40 C) 38



Yukarıda modellenen iki sayının karşılaştırılması hangi seçenekte **doğru** olarak verilmiştir?

- A) 66, 49'dan büyüktür.
B) 49, 66'dan büyüktür.
C) 66, 49'dan küçüktür.

- 12) Aşağıdaki doğal sayılardan hangisi 7 onluk 9 birlikten küçüktür?

- A) 81 B) 80 C)78

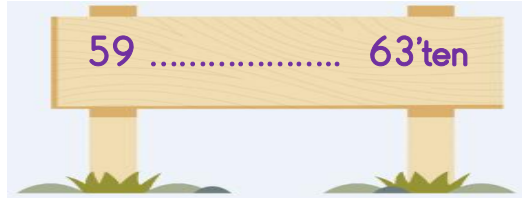
- 13)

37	84	21	56	44
----	----	----	----	----

Yukarıdaki sayıları **küçükten büyüğe** doğru sıraladığımızda **3.sıradaki** sayı aşağıdakilerden hangisidir?

- A) 56 B) 44 C) 21

14)



Yukarıdaki boşluğa aşağıdakilerden hangisini yazarsak ifade doğru olur?

- A) Büyüktür B) Eşittir
C) Küçüktür



15) Bahçede oyun oynamak için sıralanan öğrencilerden Efe baştan 7.sırada, sondan 6.sıradadır. Bu oyunda kaç kişi vardır?

- A) 12 B) 13 C) 14

16) Okulumuzdaki kaynakların kullanımı ile ilgili ifadelerden hangisi **yanlıştır**?

- A) Gereksiz yanan lambaları söndürmeliyiz.
B) Okul musluklarını boş yere açmamalıyız.
C) Her mevsim kaloriferleri kullanmalıyız.

17) Aşağıda görsellerde hangi öğrenci kaynakları doğru bir şekilde kullanmıştır?



18) Okul araç ve gereçlerini neden özenli ve dikkatli kullanmalıyız?

- A) Okul müdürünün kızmaması için
B) Arkadaşlarımızın da kullanabilmesi için
C) Öğretmenimiz uyardığı için

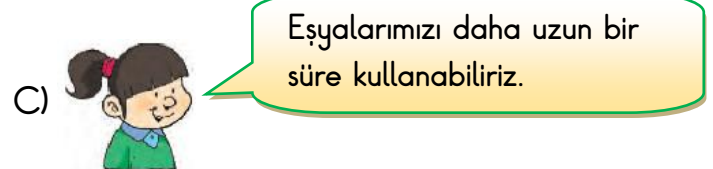
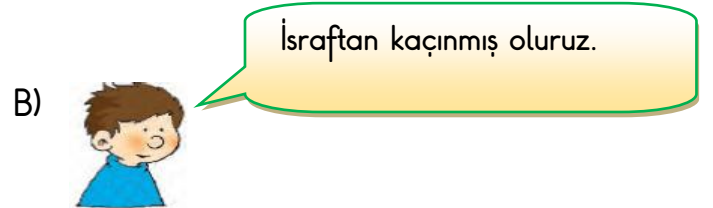
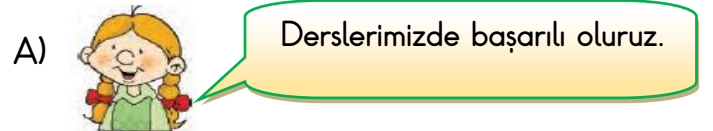
19)



Görseldeki öğrencinin yaptığı davranışlar ile ilgili **ne söylenebilir**?

- A) Okul kurallarına uyuyor
B) Eşyalarını özenli kullanıyor.
C) Kaynakları bilinçli olarak kullanmıyor

20) Kişisel eşyalarını özenli kullanan bir öğrenci aşağıdakilerden hangisini **söyemez**?



Cevap Anahtarı

1)C 2)B 3)A 4)B 5)C
6)B 7)A 8)B 9)C 10)C
11)A 12)C 13)B 14)C 15)A
16)C 17)B 18)B 19)C 20)A