


Adı :
Soyadı:

3. Sınıf
Fen Bilimleri

Kuvveti Tanıyalım
Yaprak Test-1



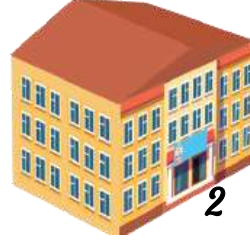
1 Pencerenin kenarında bulunan çiçeklerden biri şiddetli rüzgâr nedeniyle aşağıya düşmektedir. Düşen saksı hangi hareketi yapmaktadır?

- A) Düşme
- B) Hızlanma
- C) Dönme

2 Aşağıdakilerden hangisi yön değiştirme hareketi yapmaktadır?

- A) Koşuya başlayan sporcu
- B) Sahile yaklaşan vapur
- C) Kale direğine çarpan top

3 Aşağıdakilerden hangisinin hareket etmesi için rüzgâra ihtiyacı **yoktur?**



4 Okula geç kalan Murat koşarak okula gider. Murat 1 ve 2 numaralı bölgelerde hangi hareketi yapar?

	1 Numara	2 Numara
A	Hızlanma	Yer değiştirme
B	Koşma	Durma
C	Hızlanma	Yavaşlama

5 Yüksekten aşağıya bırakılan bir top için hangisi **söylenemez?**

- A) İnerken ve çıkarken hızı hiç değişmez.
- B) Yere değdiğinde zıplayarak yukarı çıkar.
- C) Top hızlanarak aşağıya doğru iner.

6 Aşağıdaki oyunlardan hangisini oynayan çocuk daha çok dönme hareketi yapar?

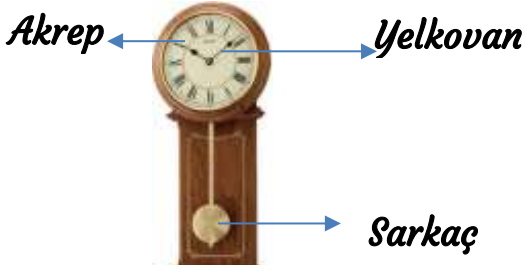

- A) Köşe kapmaca
- B) Yağ satarım bal satarım
- C) Körebe

Adı :
Soyadı:

3. Sınıf
Fen Bilimleri

Kuvveti Tanıyalım
Yaprak Test-1

7 Aşağıdakilerden hangisi arabaların yön değiştirmesini sağlayan araçtır?



8 Yukarıdaki saatte 3 bölüm sürekli hareket etmektedir. Bunların hareket türleri hangisinde doğru yazılmıştır?

	Akrep	Yelkovan	Sarkaç
A	Dönme	Hızlanma	Sallanma
B	Yavaşlama	Hızlanma	Dönme
C	Dönme	Dönme	Sallanma

9 Aşağıdaki varlıklardan hangisi diğerinden **farklı** hareket eder?

- A Salıncak
B Topaç
C Tekerlek



10 Kayakçılar karda kayarken zaman zaman yana doğru yatarlar. Yukarıdaki görseldeki kayakçı yana doğru yatarak ne yapmak istemektedir?

- A Hızını arttırma
B Yönünü değiştirme
C Sallanma

11 Aşağıdaki canlılardan hangisi diğerlerinden daha hızlı hareket etmektedir?

- A Kuş B Karınca C Ağaç

- 1- Sandal = Sallanma
2- Pervane = Dönme
3- Matkap ucu = Yön değiştirme
4- Yarışı bitiren sporcu = Yavaşlama
5- İnişe geçen uçak = Hızlanma

12 Yukarıdakilerden hangilerinin hareketleri doğru eşleştirilmiştir?

- A 2-3-5 B 1-3-4 C 1-2-4

Adı :
Soyadı:

3. Sınıf
Fen Bilimleri

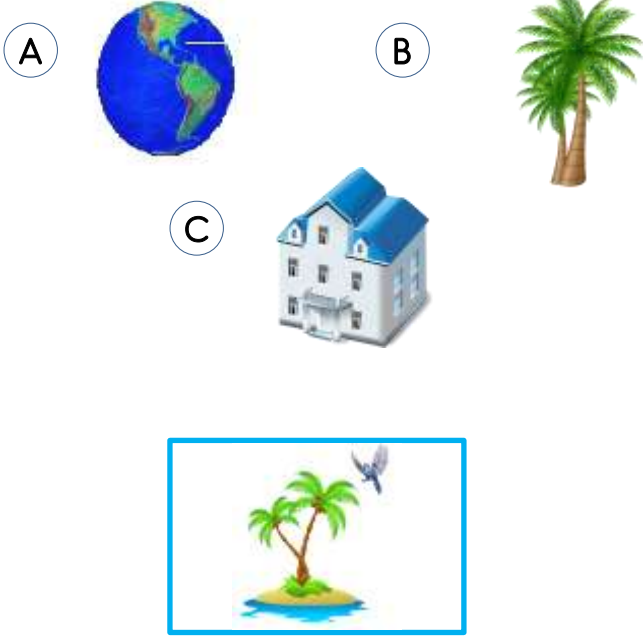
Kuvveti Tanıyalım
Yaprak Test-1



13 Yukarıdaki trafik levhalarını gören sürücü hangi hareketi yapmamalıdır?

- A Yavaşlama
- B Hızlanma
- C Yön değiştirme

14 Aşağıdakilerden hangisi sürekli hareketsiz duran varlıktır?



15 Yukarıdaki görselde kuş ağaçtaki yuvasına konmak istiyor. Kuşun yaptığı hareket hangisidir?

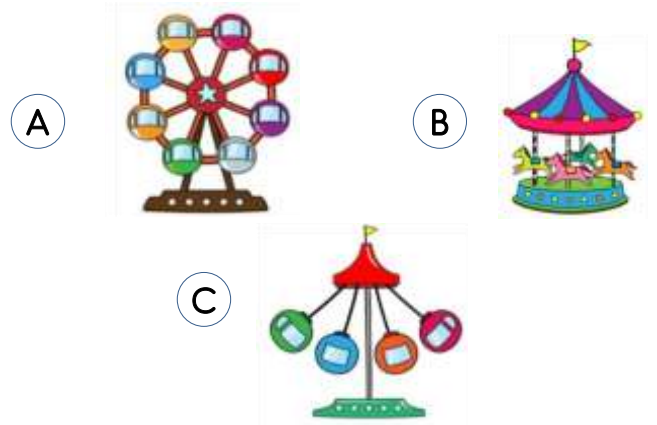
- A Hızlanma
- B Yavaşlama
- C Yön değiştirme



16 Yukarıdaki gondol ile aşağıdakilerden hangisinin hareketi aynıdır?

- A Beşik
- B Rüzgâr gülü
- C Uçak

17 Aşağıdaki lunapark oyuncaklarından hangisi diğerlerinden **farklı** hareket etmektedir?



18 Hareket halindeki bir varlığın durabilmesi için ilk yapması gereken hangisidir?

- A Hızlanma
- B Yön değiştirme
- C Yavaşlama

Adı :
Soyadı:

3. Sınıf
Fen Bilimleri

Kuvveti Tanıyalım
Yaprak Test-1

- 1 A B C
2 A B C
3 A B C
4 A B C
5 A B C
6 A B C
7 A B C
8 A B C

- 9 A B C
10 A B C
11 A B C
12 A B C
13 A B C
14 A B C
15 A B C
16 A B C

- 17 A B C
18 A B C
19 A B C
20 A B C
21 A B C
22 A B C
23 A B C
24 A B C

- 25 A B C
26 A B C
27 A B C
28 A B C
29 A B C
30 A B C
31 A B C
32 A B C



Sitemdeki tüm etkinlikler özgün çalışmalar olup logo kaldırılarak başka sitelerde yayınlanamaz, paylaşılamaz, ticari amaçla basılamaz, çoğaltılamaz.

