

Adı :

Soyadı:

3. Sınıf
Matematik

Toplama İşlemi
Verilmeyenleri Bulma-3

Aşağıdaki toplama işlemlerinde verilmeyen sayıları çıkarma işlemi yaparak bulunuz.

$$\begin{array}{r} B \ 2 \ 8 \\ + 2 \ C \ A \\ \hline 5 \ 6 \ 2 \end{array}$$

$$\begin{array}{r} 4 \ 5 \ D \\ + F \ E \ 2 \\ \hline 8 \ 3 \ 3 \end{array}$$

$$\begin{array}{r} D \ E \ A \\ + F \ B \ C \\ \hline . \ . \ . \end{array}$$

$$\begin{array}{r} 2 \ 4 \ P \\ + S \ R \ 9 \\ \hline 6 \ 7 \ 1 \end{array}$$

$$\begin{array}{r} 3 \ K \ L \\ + M \ 1 \ 8 \\ \hline 9 \ 0 \ 0 \end{array}$$

$$\begin{array}{r} L \ P \ K \\ + M \ R \ S \\ \hline . \ . \ . \end{array}$$

$$\begin{array}{r} \triangle 2 \bullet \\ + 3 \square 4 \\ \hline 7 \ 2 \ 1 \end{array}$$

$$\begin{array}{r} 4 \heartsuit 6 \\ + \star 5 \spadesuit \\ \hline 7 \ 5 \ 4 \end{array}$$

$$\begin{array}{r} \star \spadesuit \bullet \\ + \triangle \square \heartsuit \\ \hline . \ . \ . \end{array}$$

$$\begin{array}{r} 4 \bullet \bullet \\ + \bullet 8 \ 5 \\ \hline 7 \ 0 \ 0 \end{array}$$

$$\begin{array}{r} \bullet 5 \ 6 \\ + 2 \bullet \bullet \\ \hline 8 \ 4 \ 2 \end{array}$$

$$\begin{array}{r} \bullet \bullet \bullet \\ + \bullet \bullet \bullet \\ \hline . \ . \ . \end{array}$$

Aşağıdaki bilgilere göre "hangi sayıları" örnekteki gibi bulunuz.

Hangi sayının 25 fazlası 45 eder?

$$\square + 25 = 45$$
$$45 - 25 = 20$$

Hangi sayının 35 fazlası 96 eder?

Hangi sayının 125 fazlası 250 eder?

20 ile hangi sayı toplanırsa 55 eder?

$$20 + \square = 55$$
$$55 - 20 = 35$$

48 ile hangi sayı toplarsak 99 eder?

150 ile hangi sayı toplarsak 350 eder?

200 ile hangi sayı toplanırsa 500 eder?

Hangi sayıyı 300 ile toplarsak 800 eder?

333 sayısını hangi sayı ile toplarsak 555 eder?

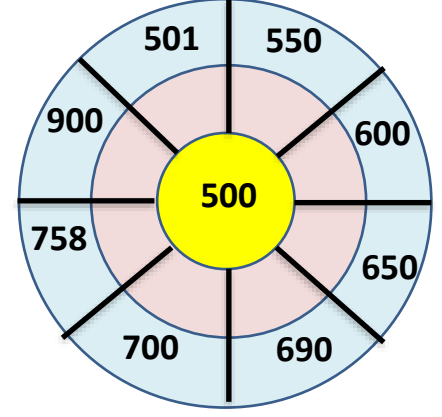
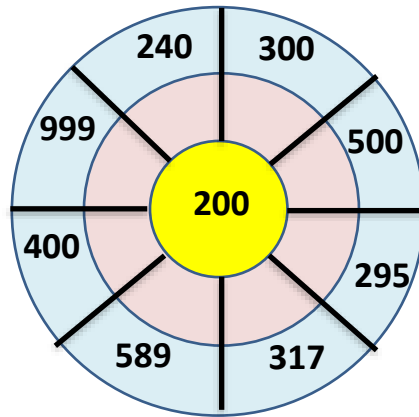
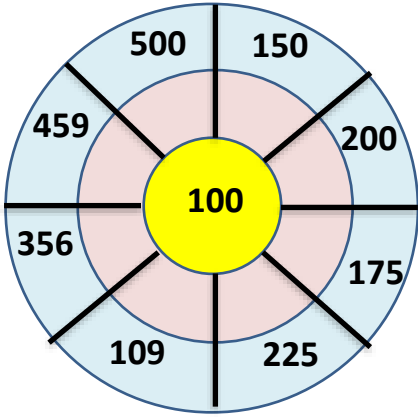
Adı :

Soyadı:

3. Sınıf
Matematik

Toplama İşlemi
Verilmeyenleri Bulma-3

Aşağıdaki sayı çarkında verilmeyen sayıları bulunuz.



Aşağıdaki terazileri dengeleyelim.

