

Adı : .....  
Soyadı: .....

3. Sınıf  
Fen Bilimleri

**Kuvveti Tanıyalım**  
Kuvvet-Yaprak Test-1

**1** Aşağıdakilerden hangisini hareket ettirmek için çok az bir itme ya da çekme kuvveti uygulamalıyız?



**2** Aşağıdakilerden hangisinde çekme kuvveti uygulanmaktadır?

- (A) Bebek arabasını kullanan anne  
(B) Kaleye şut çeken futbolcu  
(C) Askıda duran elbisesini alan çocuk.



**3** Yukarıdaki görseldeki kadın ipe çekme kuvveti uygularsa hangisi meydana gelir?

- (A) Köpek kaçmaya başlar.  
(B) Köpek yavaşlar.  
(C) Köpek hızlanır.

**4** Aşağıdakilerden hangisinde diğerlerinden **farklı** bir kuvvet uygulanmıştır?

- (A) Buzdolabının kapağını açmak  
(B) Ağaca tırmanmak  
(C) Kapının ziline basmak



**5** Yukarıdaki görselde adam kamyonu hareket ettirmek istiyor. Ancak bir türlü başaramıyor. Bunun nedeni hangisidir?

- (A) Kamyonu önünden itmelidir.  
(B) Kamyonu ipe çekmelidir.  
(C) Yeterli kuvvet uygulamalıdır.

Bir varlığa itme ya da çekme kuvveti uyguladığımızda varlığın ..... ve ..... değiştirebiliriz.

**6** Yukarıdaki cümlede boşluklara hangisinin yazılması uygun **değildir**?

- (A) şeklini ve hızını  
(B) rengini ve kokusunu  
(C) yönünü ve yerini

Adı : .....  
Soyadı: .....

3. Sınıf  
Fen Bilimleri

**Kuvveti Tanıyalım**  
Kuvvet-Yaprak Test-1

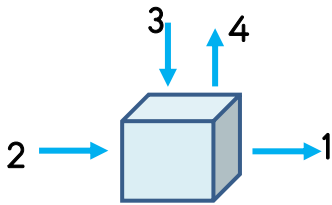
**7** Depremden korunmak için evimizdeki eşyaların hareket etmemesi için sabitlemek gerekir. Hangi ev eşyasını sabitlemek **gereksizdir**?



- 1- Kırık ve çıkık oluşabilir.
- 2- Acı ve morluk oluşur.
- 3- Yaralanmaya neden olur.

**8** Aşağıdakilerden hangisinin sonucunda yukarıdaki olaylar meydana gelebilir?

- (A) Duvarı itmeye çalışmak.  
(B) Koridorlarda dikkatsizce koşmak.  
(C) Şemsiyeyi açıp kapatmak.



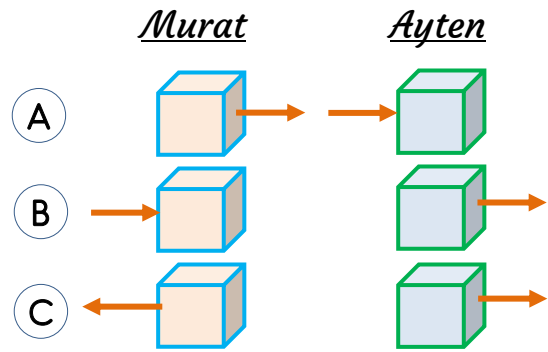
**9** Yukarıdaki kutuya hangi oklar çekme kuvvetini göstermektedir?

- (A) 1-2 (B) 3-4 (C) 1-4

**10** Aşağıdaki eşyalardan hangisini dikkatsiz kullandığımızda tehlikeli sonuçlara neden olabilir?



**11** Murat kutuya çekme kuvveti, Ayten de kutuya itme kuvveti uygulayarak hareket ettirmiştir. Aşağıdakilerin hangisinde çocukların kuvvet türleri gösterilmiştir?



**12** İleri doğru hareket eden bir cismi durdurmak için hangisini yapmalıyız?

- (A) Ters yönünde kuvvet uygulamak  
(B) Aynı yönde kuvvet uygulamak  
(C) Yönünü değiştirmek

Adı : .....  
Soyadı: .....

3. Sınıf  
Fen Bilimleri

**Kuvveti Tanıyalım**  
Kuvvet-Yaprak Test-1



**13** Yukarıdaki görselde üç kişi büyük bir kasayı itmektedir. Bu durumda hangi bilgi doğrudur?

- A) Kasa A'ya doğru ilerler.
- B) Kasa B'ye doğru ilerler.
- C) Kasa ilerlemez.



**14** Naim Süleymanoğlu'nun halteri kaldırmak için uyguladığı kuvvet aşağıdakilerden hangisinin uyguladığı kuvvetle aynıdır?


- A) Arabanın kapısını kapatmak
- B) Prizde fişi takmak
- C) Çantadan kitap çıkarmak

**15** Aşağıdakilerden hangisi varlığın şeklini değiştirebilen bir kuvvettir?

- A) Bisikletin pedalını çevirmek
- B) Bisikletin tekerleğini şişirmek
- C) Bisikletin frenine basmak



**16** Yukarıdaki görseldeki çocuk sandalı hareket ettirmek için itme ve çekme kuvvetini artarda kullanmaktadır. Aşağıdakilerden hangisi buna örnek değildir?



**17** Salıncakta sallanan bir kişinin salıncaktan inmesi için ne yapmalıdır?

- A) Salıncığın kendi kendine durmasını beklemelidir.
- B) Bir kişi arkasından yavaşça asılmalıdır.
- C) Yavaşladığı zaman salıncaktan atlamalıdır.

**18** Varlıkları hareket ettirmek için hangi kuvvetleri uygulamalıyız?

- A) Sıkma - Asılma
- B) Yavaşlama - Hızlanma
- C) İtme - Çekme

Adı : .....  
Soyadı: .....

3. Sınıf  
Fen Bilimleri

Kuvveti Tanıyalım  
Kuvvet-Yaprak Test-1

- 1 A B C  
2 A B C  
3 A B C  
4 A B C  
5 A B C  
6 A B C  
7 A B C  
8 A B C

- 9 A B C  
10 A B C  
11 A B C  
12 A B C  
13 A B C  
14 A B C  
15 A B C  
16 A B C

- 17 A B C  
18 A B C  
19 A B C  
20 A B C  
21 A B C  
22 A B C  
23 A B C  
24 A B C

- 25 A B C  
26 A B C  
27 A B C  
28 A B C  
29 A B C  
30 A B C  
31 A B C  
32 A B C



Sitemdeki tüm etkinlikler özgün çalışmalar olup logo kaldırılarak başka sitelerde yayınlanamaz, paylaşılamaz, ticari amaçla basılamaz, çoğaltılamaz.

- 1 A B C  
2 A B C  
3 A B C  
4 A B C  
5 A B C  
6 A B C  
7 A B C  
8 A B C

- 9 A B C  
10 A B C  
11 A B C  
12 A B C  
13 A B C  
14 A B C  
15 A B C  
16 A B C

- 17 A B C  
18 A B C  
19 A B C  
20 A B C  
21 A B C  
22 A B C  
23 A B C  
24 A B C

- 25 A B C  
26 A B C  
27 A B C  
28 A B C  
29 A B C  
30 A B C  
31 A B C  
32 A B C

