





- 1) Yeni aldığın hikaye kitabını okudunmu?
 Henüz okuyup bitiremedim.

Yukarıdaki yay ayraç içerisinde aşağıdaki noktalama işaretlerinden hangisi gelmelidir?

- A) Uzun çizgi B) Tırnak işareti
 C) Kısa çizgi D) Üç nokta işareti

- 2) Aşağıdaki cümlelerin hangisinde yazım yanlışı yapılmıştır?

- A) Köpeğin kediyi kovalayışını gördün mü?
 B) Can yüzmeye gidecek miydi?
 C) Bu üzümü pazardan mı aldın?
 D) Akşam size Ayşe demi geldi?

- 3)  Soruları cevapladın mı () Eda
 Annenizin adı () Mert
 Uzun mu uzun saçları var () Cem
 Şapkanı okulda mı unuttun () Oya

Yukarıdaki çocuklardan hangisinin söylediği cümlenin sonuna soru işareti **konmaz**?

- A) Mert B) Oya
 C) Eda D) Cem

- 4) Kütüphaneye gidelim mi () Fatih ()
 Pelin ve Sinem de gelecek ()
 Annemden izin almalıyım ()

Yukarıdaki yay ayraç içerisinde aşağıdaki noktalama işaretlerinden hangisi **gelmez**?

- A) Soru işareti B) Tırnak işareti
 C) Nokta D) Virgül

- 5) Sabahları yürüyüş yapıyor musun ()
 Bahçedeki çiçekleri mi suladın ()
 Bugün sıcak mı sıcak bir hava var ()
 Hangisi senin bisikletin ()


Yukarıdaki cümlelerin hangisinin sonuna farklı bir noktalama işareti konulmalıdır ?

- A) B)
 C) D)

- 6) Demet ve Deniz'in yaşları toplamı 28'dir.

14 yıl sonra ikisinin yaşları toplamı kaç olur?

- A) 42 B) 56
 C) 54 D) 43

- 7)  Bir çıkarma işleminin sonucunu 600 olarak tahmin ettim.

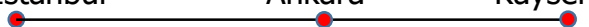
Buna göre Ozan'ın tahmin ettiği işlem aşağıdakilerden hangisi olabilir?

- A) $5757 - 5291 = ?$
 B) $2934 - 2226 = ?$
 C) $972 - 319 = ?$
 D) $4842 - 4165 = ?$

- 8) Bir manav 1. hafta 1200 kg domates satmış. 2. hafta 1. haftadan 350 kg fazla satmış. 3. hafta ise 1. haftadan 248 kg daha az satmış.

Buna göre üç haftada toplam kaç kg domates satılmıştır?

- A) 3702 B) 2152
 C) 2750 D) 3500

- 9) İstanbul Ankara Kayseri
- 

Kayseri-İstanbul arası 764 km'dir. Kayseri-Ankara arası ise 350 km'dir.

Buna göre İstanbul'dan Ankara'ya gidip dönen bir araba kaç km yol almış olur?

- A) 414 B) 828
 C) 728 D) 614

- 10) Aşağıdaki çıkarma işlemlerin sonucu en yakın onluğa yuvarlanarak tahmin edildiğinde hangisinin sonucu diğerlerinden farklıdır?

- A) $668 - 626 = ?$
 B) $1885 - 1853 = ?$
 C) $2462 - 2429 = ?$
 D) $891 - 847 = ?$

- 11) \triangle Düşmana boyun eğdiler.

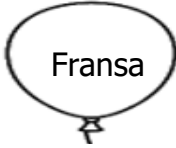



Vatanlarını çok seviyorlardı.

Kanlarının son damlasına kadar savaşmışlardır.

Ümitsizliğe kapılmışlardır.

Yukarıdakilerden hangisi Milli Mücadele kahramanlarının özelliklerinden değildir?

- A) B) \triangle
 C) \triangle D) \triangle

- 12) I  II 
 III  IV 

Taner üzerinde 1. Dünya Savaşı sonrasında yurdumuzu işgal eden devletlerin yazılı olduğu balonları patlatacak. Buna göre kaç numaralı balon patlatılmaz?

- A) III B) I C) II D) IV

- 13) Kazım Karabekir Doğu Cephesi kahramanlarındandır.
 İzmir'de düşmana ilk kurşunu atan Sütçü İmam'dır .
 Ege bölgesinde halk Yunanlıların saldırılarına karşı birlik oldu.

Yukarıdaki ifadelerden doğru olanlara "D" , yanlış olanlara "Y" yazarsak hangi sonuç ortaya çıkar?

- A)

D
Y
D

 B)

D
D
Y

 C)

Y
Y
D

 D)

D
D
D

- 14) Milli Mücadele (Kurtuluş Savaşı) hangi olay ile başlamıştır?

- A) Çanakkale Savaşı'yla
 B) Atatürk'ün Samsun'a çıkmasıyla
 C) Atatürk'ün Ankara'ya gelmesiyle.
 D) Atatürk'ün Sivas'ta kongre yapmasıyla.

- 15) Kastamonu'ya kağnısıyla cephane taşıyan Milli Mücadele kahramanı kimdir?

- A) Tayyar Rahmiye Hanım
 B) Kara Fatma
 C) Halide Edip Adivar
 D) Şerife Bacı

- 16) Öğretmen Gaye'ye vücudumuzda yaşamsal faaliyetleri düzenleyici olarak görev yapan besin içeriklerini sormuş. Gaye her doğru cevap için 10 puan almış.



Proteinler
Su
Vitaminler
Yağ

Buna göre Gaye kaç puan almıştır?

- A) 40 B) 10 C) 20 D) 30

- 17) Sadece bitkisel besinler yiyorum. Ebru
 Sadece hayvansal besinler yiyorum. Ata
 Sevdiğim yemekleri yiyorum. Kenan
 Dengeli besleniyorum. İrem

Yukarıdaki çocuklardan hangisi sağlıklı besleniyor ?

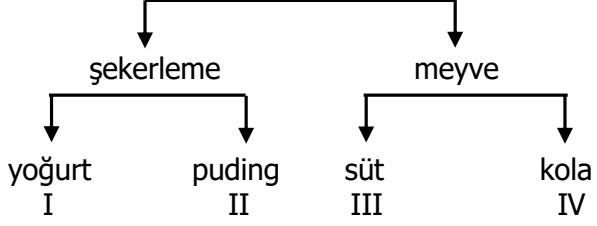
- A) Eda B) Kenan
 C) İrem D) Ata

- 18) ● Sebze ve meyveleri mevsiminde yemeliyiz.
 ■ İçinde katkı maddesi olan besinleri tercih etmeliyiz.
 ▲ Paketli besinlerin son kullanma tarihine dikkat etmeliyiz.
 ◆ Besinlerin tazeliğine dikkat etmeliyiz.

Yukarıdaki ifadelerden hangisi **yanlıştır**?

- A) ▲ B) ◆
 C) ● D) ■

19) Sağlıklı beslenmek için tercih ederim.



Sağlıklı beslenen bir kişi doğru tercihleri yaparsa hangi numaradan çıkış yapar?

- A) IV B) III C) II D) I

20)



Dengeli beslenen bir kişi hangi sembollerle gösterilen yiyeceklerden uzak durmalıdır?

- A) ● △ B) ● □
C) △ ◇ D) △ □

CEVAP ANAHTARI

TÜRKÇE	MATEMATİK	SOSYAL BİL.	FEN BİLİM.
1) A	6) B	11) C	16) C
2) D	7) D	12) A	17) C
3) D	8) A	13) A	18) D
4) B	9) B	14) B	19) B
5) C	10) C	15) D	20) A