

KIZILAY

Yardım elini açar,
Yoksullara koşarsın.
Şefkat, merhamet saçan,
Muhtaçlara sen varsın.

Deprem olsa bir yerde,
Veya yansa bir ocak,
Her acıya, her derde,
Yine sensin koşacak.

Seni bulur yanında,
Her felaket, her olay,
Zengin, fakir olanlar,
Sana muhtaç Kızılay.
İ. Hakkı Talas

1. Şiirin konusu nedir?

.....

.....

2. Şiirdeki eş sesli kelimeleri farklı cümlelerde iki değişik anlamıyla kullanalım.

a)

a)

b)

b)

3. 2. dördlük kaç heceden oluşmaktadır?

.....

4. Aşağıdaki sözcüklerin hangisinde "dal" hecesi vardır?

a) dalındaki b) dalgıç c) mandalina

5. Hangisinde yazım hatası yapılmamıştır?

a) 9'uncu b) 7 aralık c) 8'ci

6. "Babam arabayı yarın tamire götürecektir."


Verilen cümlede aşağıdaki sorulardan hangisinin cevabı yoktur?


a) Kim?

b) Neyi?

c) Nerede?

7. $400 + 7 + 80$ işleminin sonucu kaçtır?

a)  874

b)  487

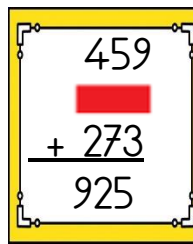
c)  478

8. Atakan, 40 ile 30'u topladıktan sonra üzerine 8 ile 7'yi toplayıp ekliyor. Atakan'ın zihinden yaptığı toplama işlemi hangisidir?

a) $48 + 37$

b) $70 + 20$

c) $40 + 37$

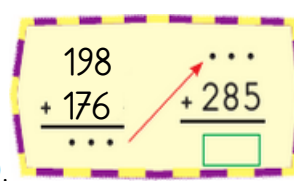
9. 

Yandaki işlemde yerine hangi sayı yazılmalıdır?

a) 732

b) 193

c) 295

10. 

Yandaki toplama işleminde yerine hangi sayı gelmelidir?

a) 549

b) 659

c) 374

11.

$$\begin{array}{r} 25 \square \\ + \triangle 38 \\ \hline 788 \end{array}$$

Yandaki verilen toplama işlemine göre \square ve \triangle yerine gelecek rakamların toplamı kaçtır?

- a) 9 b) 7 c) 5

12. Bir fırıncı pişirdiği 285 ekmeğin 138'ini sabah, 46 tanesini akşam satmıştır. Buna göre fırıncının satılmayan kaç ekmeği kalmıştır?

13. Merve, 193 sayfalık kitabın bir kısmını okudu. Geriye okuyacağı 86 sayfası kaldı. Merve, kitabın kaç sayfasını okumuştur?

14. Mesleklerle ilgili aşağıdakilerden hangisi yanlıştır?

- a) Herkes her mesleği yapabilir.
b) İnsanlar ilgi ve yeteneklerine göre meslek seçmelidir.
c) Tüm mesleklere saygı duymalıyız.

15. "İnsanların sağlığını korumak için önlemler alırlar. Hastalıkları teşhis ve tedavi ederler. Merhametli, anlayışlı ve sevgi doludurlar."

Yukarıda özellikleri verilen meslek hangisidir?

- a) Doktor b) Öğretmen
c) Veteriner

16. "İnsanların iş bölümü yapmak ve geçimlerini sağlamak için yaptıkları işe denir."

Verilen bilgide boş bırakılan yere aşağıdakilerden hangisi gelmelidir?

a) Tamir

b) Meslek

c) Plan

17. Aşağıdakilerden hangisi yanlıştır?

- a) Kalemiği kapama İtme
b) Dolabın çekmecesini kapama İtme
c) Buzdolabının kapağını kapama İtme

18. Aşağıda verilenlerden hangisi yavaşlama hareketine örnektir?

- a) Pistten ayrılan uçak
b) Yeşil ışık yandığında harekete geçen taksi
c) Frene basan bisiklet



Tahtaya çivi çakmak için hangi kuvveti uygularız?

19.

- a) İtme b) Çekme c) Döndürme

20. Aşağıdaki öğrencilerden hangisinin söylediği davranış tehlikeye yol açmaz?

a) Çalışan vantilatöre dokunmak

b) Okul koridorunda koşmak

c) Spor salonunda yürümek

CEVAPLAR

Adı Soyadı:

- | | | | | | | | |
|----|---|---|---|----|---|---|---|
| 1 | A | B | C | 11 | A | B | C |
| 2 | A | B | C | 12 | A | B | C |
| 3 | A | B | C | 13 | A | B | C |
| 4 | A | B | C | 14 | A | B | C |
| 5 | A | B | C | 15 | A | B | C |
| 6 | A | B | C | 16 | A | B | C |
| 7 | A | B | C | 17 | A | B | C |
| 8 | A | B | C | 18 | A | B | C |
| 9 | A | B | C | 19 | A | B | C |
| 10 | A | B | C | 20 | A | B | C |

CEVAPLAR

Adı Soyadı:

- | | | | | | | | |
|----|---|---|---|----|---|---|---|
| 1 | A | B | C | 11 | A | B | C |
| 2 | A | B | C | 12 | A | B | C |
| 3 | A | B | C | 13 | A | B | C |
| 4 | A | B | C | 14 | A | B | C |
| 5 | A | B | C | 15 | A | B | C |
| 6 | A | B | C | 16 | A | B | C |
| 7 | A | B | C | 17 | A | B | C |
| 8 | A | B | C | 18 | A | B | C |
| 9 | A | B | C | 19 | A | B | C |
| 10 | A | B | C | 20 | A | B | C |

CEVAPLAR

Adı Soyadı:

- | | | | | | | | |
|----|---|---|---|----|---|---|---|
| 1 | A | B | C | 11 | A | B | C |
| 2 | A | B | C | 12 | A | B | C |
| 3 | A | B | C | 13 | A | B | C |
| 4 | A | B | C | 14 | A | B | C |
| 5 | A | B | C | 15 | A | B | C |
| 6 | A | B | C | 16 | A | B | C |
| 7 | A | B | C | 17 | A | B | C |
| 8 | A | B | C | 18 | A | B | C |
| 9 | A | B | C | 19 | A | B | C |
| 10 | A | B | C | 20 | A | B | C |

CEVAPLAR

Adı Soyadı:

- | | | | | | | | |
|----|---|---|---|----|---|---|---|
| 1 | A | B | C | 11 | A | B | C |
| 2 | A | B | C | 12 | A | B | C |
| 3 | A | B | C | 13 | A | B | C |
| 4 | A | B | C | 14 | A | B | C |
| 5 | A | B | C | 15 | A | B | C |
| 6 | A | B | C | 16 | A | B | C |
| 7 | A | B | C | 17 | A | B | C |
| 8 | A | B | C | 18 | A | B | C |
| 9 | A | B | C | 19 | A | B | C |
| 10 | A | B | C | 20 | A | B | C |

		6.	C		11.	C		16.	B
		7.	B		12.	101		17.	A
		8.	A		13.	107		18.	C
4.	B	9.	B		14.	A		19.	A
5.	A	10.	B		15.	A		20.	C