

Kimse Sana Benzemez

Mustafa Kemal Atatürk, Çankaya sırtlarında arkadaşlarıyla gezmeye çıkmıştı. Gazi Paşa, yanına sokulan bir çocuğu yakaladı. Çelik bakışlarıyla alemi büyüleyen gözlerini onun yüzüne dikip gülümseyerek sordu:

- Adın ne senin bakayım?
- Cemil
- Çankaya'da mı oturuyorsun?
- Yok. Ayrancı'da

-Mektebe gidiyor musun?

Çocuk başını öne doğru hızla eğdi.

- E... Ne okuyorsun mektepte?
- Her bir şey okuyoruz.
- Peki ben kimim Cemil?

Çocuk zeki bakışlarını Ata'nın üzerinde gezdirdi:

- Sen Gazi Paşasın.

Ata gülümsedi.

- Olmadı . Cemil ben senin Gazi Paşa değilim.

Beni benzettin sen.

- Yok benzetmedim iyi biliyorum, sen Gazi Paşasın.

- Nereden biliyorsun?

- Nereden biliyorsun?

Çocuk kendinden emin bir tavırla:

- Çünkü, dedi sana hiç kimse benzemez...

1. Mustafa Kemal Atatürk, nerede gezmeye çıkmış?

- a) Samsun'da
- b) Çankaya sırtlarında
- c) Ayrancı'da

2. Gazi, çocuğa ne sormuş?

- a) Kaç yaşındasın?
- b) Kaça gidiyorsun?
- c) Ben kimim?

3. Aşağıdakilerden hangisi **yanlış** yazılmıştır?

- a) yada
- b) herkes
- c) tren

4. Aşağıdaki cümlelerin hangisi **sevinç** belirtmektedir?

- a) Eyvah, cüzdanım yok!
- b) Yaşasın, teyzem geliyor!
- c) Tüh, kapıda kaldık!


"Annem mutfakta kurabiye yaptı."

5.

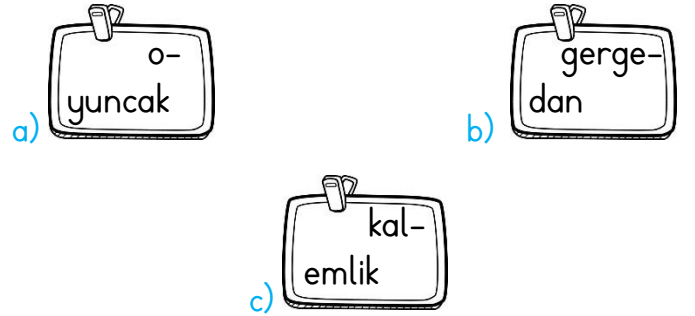
Yukarıda verilen cümlede aşağıdakilerden hangisi belli **değildir**?

- a) Kişi
- b) Yer
- c) Zaman

6. Aşağıdaki mesleklerden hangisi **eş anlamlı** bir isme sahip **değildir**?



7. Aşağıdakilerden hangisinde satır sonuna sığmayan kelime **doğru** bölünmüştür?



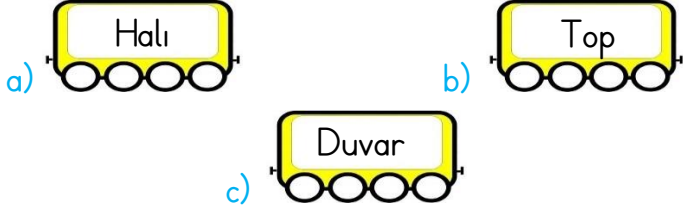
8. Aşağıda verilenlerden hangisi itme ve çekme hareketlerinin ikisini birlikte **yapmamıştır**?

- a) Testere ile ağaç kesme
- b) Kapıyı açıp kapatma
- c) Bebek arabasını ileri doğru sürme

9. Dağlardaki kar kütlelerinin aşağıya doğru hareket etmesi sonucu oluşan doğal afet aşağıdakilerden hangisidir?

- a) Çığ
- b) Sel
- c) Deprem

10. Aşağıdakilerden hangisini insan gücüyle iterek veya çekerek hareket ettiremeyiz?



11. Aşağıdaki örneklerden hangisi hareket halindeki bir cismi durdurmaya çalışmanın tehlikeli olacağına örnek bir durum **olamaz**?

- a) Uçurtmayı ipinden çekmek.
b) Koşan arkadaşımızı arkasından itmek
c) Vantilatörün pervanesini elimizle durdurmaya çalışmak

12. Ailesinin tarihini araştırmak isteyen Mehmet, en doğru bilgileri aşağıdaki kaynakların hangisinden edinebilir?

- a) Ders kitaplarından b) İnternette
c) Aile büyüklerinden

13. Dedem: "Bizim zamanımızda evimizde elektrik yoktu. Gaz lambası ile aydınlanırdık. Şimdi, binalar çok katlı ve asansörlü yapıyor. Elektrikle aydınlanıyor."

Buna göre aşağıdakilerden hangisinin değiştiği söylenemez?

- a) Aydınlatma şekli b) Binaların büyüklüğü
c) Evlerin rengi

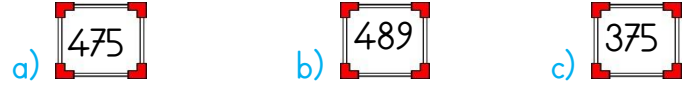
14. Aşağıdakilerden hangisi aile büyüklerimizin oynadığı oyunlardan birisi **olamaz**?

- a) Körebe b) Bilgisayar oyunları
c) Saklambaç


15. Ailemizin tarihini araştırırken aşağıdakilerden hangisinden **faydalanırız**?

- a) Fotoğraf albümünden b) Ansiklopediden
c) Sözlükten

16. Bir voleybol maçını 289 kız, 186 erkek öğrenci izlemiştir. Maçı izleyenlerin sayısı kaçtır?



17. Üç sayının toplamı 495'tir. Sayılardan biri 198, diğeri 239 olduğuna göre üçüncü sayı kaçtır?



18. Sınıfımızın 45 kitabı vardı. Sınıfımıza 3 deste ve 2 düzine daha kitap aldık. Sınıfımızın **toplam** kaç kitabı oldu?

- a) 75 b) 99 c) 106

19.

$$398 - 275$$

Verilen işlemin onluğa yuvarlanarak tahmini ile gerçek sonucu arasındaki fark kaçtır?

- a) 3 b) 4 c) 5

20. Asel Duru 15 yaşında, Ravza ise 13 yaşındadır. İkisinin 3 yıl sonraki yaşları **toplamı** kaç olur?

- a) 28 b) 34 c) 38

CEVAPLAR

Adı Soyadı:

- | | | | | | | | |
|----|---|---|---|----|---|---|---|
| 1 | A | B | C | 11 | A | B | C |
| 2 | A | B | C | 12 | A | B | C |
| 3 | A | B | C | 13 | A | B | C |
| 4 | A | B | C | 14 | A | B | C |
| 5 | A | B | C | 15 | A | B | C |
| 6 | A | B | C | 16 | A | B | C |
| 7 | A | B | C | 17 | A | B | C |
| 8 | A | B | C | 18 | A | B | C |
| 9 | A | B | C | 19 | A | B | C |
| 10 | A | B | C | 20 | A | B | C |

CEVAPLAR

Adı Soyadı:

- | | | | | | | | |
|----|---|---|---|----|---|---|---|
| 1 | A | B | C | 11 | A | B | C |
| 2 | A | B | C | 12 | A | B | C |
| 3 | A | B | C | 13 | A | B | C |
| 4 | A | B | C | 14 | A | B | C |
| 5 | A | B | C | 15 | A | B | C |
| 6 | A | B | C | 16 | A | B | C |
| 7 | A | B | C | 17 | A | B | C |
| 8 | A | B | C | 18 | A | B | C |
| 9 | A | B | C | 19 | A | B | C |
| 10 | A | B | C | 20 | A | B | C |

CEVAPLAR

Adı Soyadı:

- | | | | | | | | |
|----|---|---|---|----|---|---|---|
| 1 | A | B | C | 11 | A | B | C |
| 2 | A | B | C | 12 | A | B | C |
| 3 | A | B | C | 13 | A | B | C |
| 4 | A | B | C | 14 | A | B | C |
| 5 | A | B | C | 15 | A | B | C |
| 6 | A | B | C | 16 | A | B | C |
| 7 | A | B | C | 17 | A | B | C |
| 8 | A | B | C | 18 | A | B | C |
| 9 | A | B | C | 19 | A | B | C |
| 10 | A | B | C | 20 | A | B | C |

1.	B	6.	C	11.	A	16.	A
2.	C	7.	B	12.	C	17.	C
3.	A	8.	C	13.	C	18.	B
4.	B	9.	A	14.	B	19.	A
5.	C	10.	C	15.	A	20.	B