

1) Hasan mahalledeki dik yoluyla bisikletle çıkamadı.

Yukarıdaki cümlede hangi kelime eş sesli kelimedir?

- A) dik B) yolu C) mahalle

2) Bugünkü yaşananlara kim **sebebi** oldu?

Yukarıdaki cümlede altı çizili kelimenin yerine aşağıdakilerden hangisi yazılırsa cümlenin anlamı bozulmaz?

- A) yaşamış B) yardımcı C) neden

3) Şeyma, kalemliğindeki boyaları sayınca **eksik** olduğunu fark etti.

Yukarıdaki cümlede altı çizili kelimenin zıt anlamlısı hangi cümlede kullanılmıştır?

- A) Babam bugün fazla ekmek almış.
B) Taner yaz tatilinde çok kitap okumuş.
C) Annem yemeğe az tuz atmış.

4) Aşağıdaki kelimelerden hangisinin birden fazla sözlük anlamı **yoktur**?

- A) asma B) zor C) bel

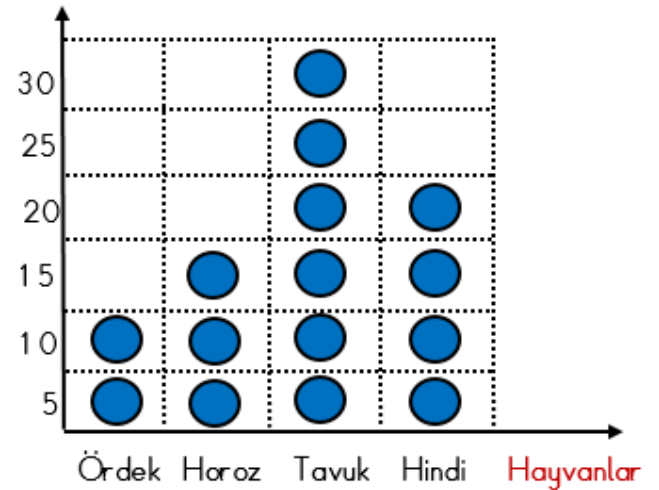
5) Parkın sağ tarafına çeşme yapılacaktı.

Yukarıdaki cümlede hangi kelime eş sesli kelimedir?

- A) park B) çeşme C) sağ

Grafik: Kümesteki Hayvan Sayıları

Hayvan Sayısı



6 ve 7. soruları yukarıdaki grafiğe göre cevaplayınız.

6) Kümeste toplam kaç hayvan vardır ?

- A) 75 B) 80 C) 70

7) Tavukların sayısı ördek ve horozların toplamından kaç tane fazladır?

- A) 10 B) 5 C) 15

Tablo: Okunan Kitap Sayısı

İsimler	Sayısı
Sinem	
Arda	
Kenan	
Aslı	

Tabloda her  4 kitabı göstermektedir.

8, 9 ve 10. soruları yukarıdaki tabloya göre cevaplayınız.

8) En çok kitap okuyan çocuk toplam kaç tane kitap okumuştur?

- A) 16 B) 24 C) 20

9) Aslı , Kenan'dan kaç tane fazla kitap okumuştur?

- A) 4 B) 8 C) 6

10) Kenan kaç tane daha kitap okusaydı Arda ile aynı sayıda kitap okumuş olurdu?

- A) 10 B) 8 C) 12

11) Bir krokide aşağıdakilerden hangisi **bulunmaz**?

- A) Telefon numarası
B) Cadde adı
C) Sokak adı

12) Kroki hangi amaç için çizilir?

- A) Ders çalışmak için.
B) Resim yapmak için.
C) Bir adresin kolayca bulunması için.


13) I – Kroki çizilirken komşularımızın isimleri yazılmalıdır.


II – Kroki belli bir ölçüye göre çizilir.


Yukarıdaki bilgilerle ilgili aşağıdakilerden hangisi doğrudur?

- A) I yanlış , II doğru
B) İkisi de yanlış
C) İkisi de doğru

A) sarımsak B) tuz C) kolonya

14)  Kabataslak yapılan bir çizimdir.
Oya

 Sadece güzel resim yapabilenler çizebilir.
Taner

 Bir yerin kuş bakışı çizimidir.
Sinan

Yukarıdaki ifadelerden hangisi kroki için **yanlış** bir bilgidir?

A) Taner B) Sinan C) Oya

15) Bir yerin kuş bakışı , kabataslak çizimine denir.

Yukarıdaki ifadede noktalı yere aşağıdakilerden hangisi yazılmalıdır?

A) harita B) kroki C) resim

16) Bir maddenin sert veya yumuşak olduğu hangi duyu organımızla algılarız?

A) kulak B) göz C) deri

17) Aşağıdaki maddelerden hangisini burnumuzu kullanarak ayırt **edemeyiz**?

18) Aşağıdakilerden hangisi cam bardağı niteleyen özelliklerden biri **değildir**?

A) Esnek B) Kırılğan C) Pürüzsüz

19) tahta – sünger – yastık – kaşık – yün çivi – pamuk – taş – bilye - havlu

Yukarıdaki maddelerden kaç tanesi yumuşak maddedir?

Yukarıdaki ifadelerden kaç tanesi doğrudur?

A) 6 B) 4 C) 5

- 20) Boşlukta yer kaplayan her varlık maddedir.
 Maddelerin özelliklerini duyu organlarımızla algılarız.
 Tüm maddeleri niteleyen özellikler aynıdır.

Yukarıdaki ifadelerden kaç tanesi doğrudur?

A) 2 B) 1 C) 3

CEVAP ANAHTARI

TÜRKÇE	MATEMATİK	HAYAT BİL.	FEN BİLİM.
1) A	6) A	11) A	16) C
2) C	7) B	12) C	17) B
3) A	8) C	13) B	18) A
4) B	9) B	14) A	19) C
5) C	10) C	15) B	20) A