

Adı :
Soyadı:

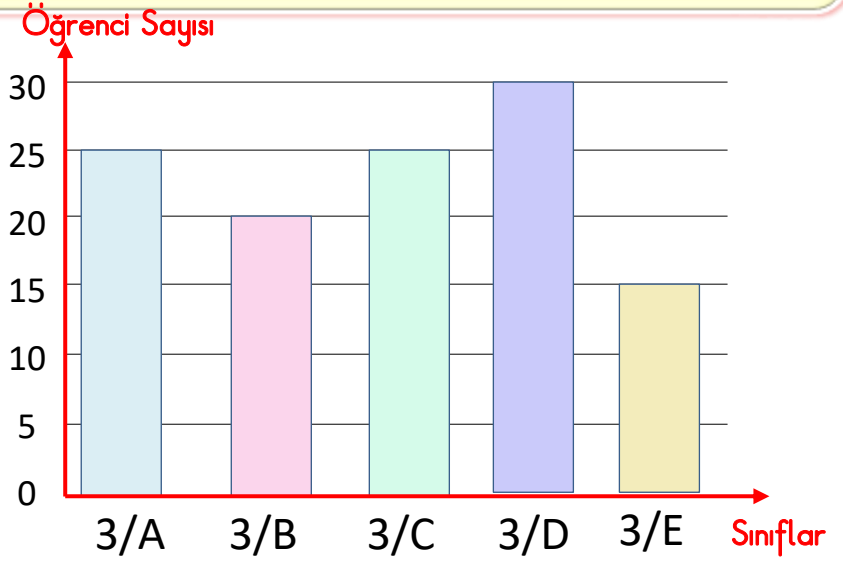
3. Sınıf Matematik

Veri Toplama ve
Değerlendirme-4

Geziye katılan öğrencilerin sayılarını sınıflara göre sıklık tablosuna yazınız.

Grafik: Geziye Katılan Öğrenciler

Sınıflar	Öğrenci Sayısı
3/A	
3/B	
3/C	
3/D	
3/E	

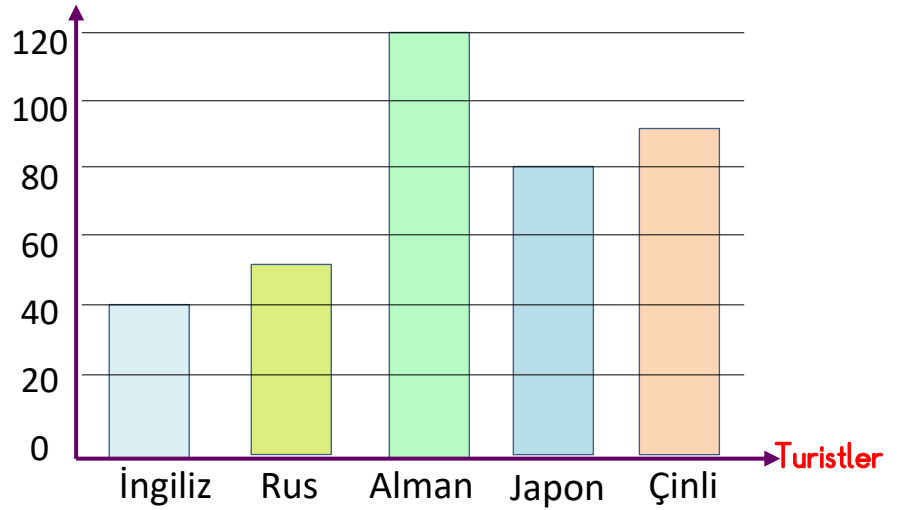


Müzei gezen turist sayılarını sıklık tablosuna yazınız.

Grafik: Müzei Gezen Turistler

Turistler	Turist Sayısı

Turist Sayısı



1 -Müzei gezen Çinlilerin sayısı, Ruslardan ne kadar fazladır?.....

2-Müzei gezen Almanların sayısı, İngilizlerden ne kadar fazladır?.....

3-Müzei toplam kaç turist gezmiştir?.....

4-Müzei en çok ve en az gezen turistler kimlerdir?.....

Adı :

Soyadı:

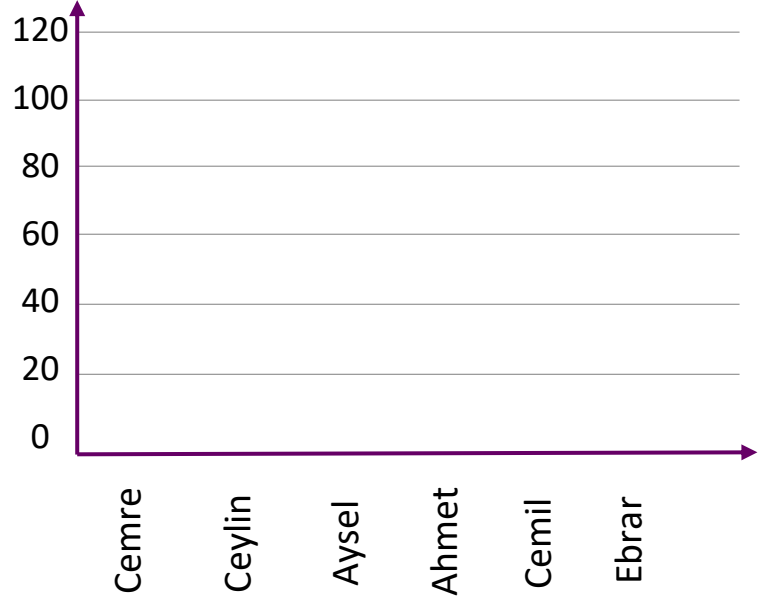
3. Sınıf Matematik

Veri Toplama ve
Değerlendirme-4

Okul başkanlığı seçimlerinde adayların aldıkları oyları gösteren sıklık tablosuna göre grafiği tamamlayınız.

Grafik: Okul Başkanlığı Seçimi

Adaylar	Aldığı Oy Sayısı
Cemre	110
Ceylin	80
Aysel	100
Ahmet	120
Cemil	90
Ebrar	70



Bir otoparkta bulunan arabaların renklerine gösteren sıklık tablosuna göre grafiği yapınız.

Arabaların Renkleri	Arabaların Sayısı
Beyaz	55
Siyah	45
Kırmızı	30
Mavi	50
Yeşil	30
Sarı	35

