

Adı :

Soyadı:

3. Sınıf Matematik

Veri Toplama ve Değerlendirme-5

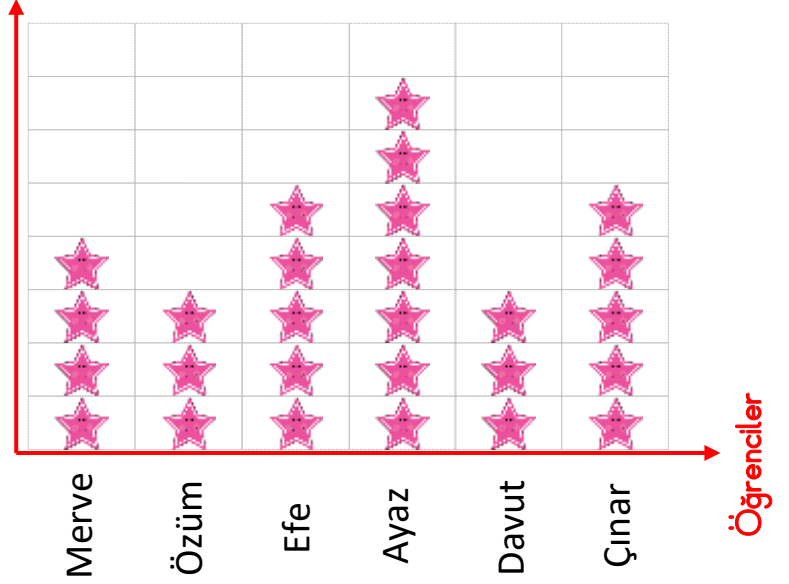
Öğrencilerin sahip olduğu kalem sayılarını gösteren grafiğe göre çetele tablosunu yapınız.

Grafik: Öğrencilerin Kalemleri

Kalem Sayısı

Öğrenciler	Kalem Sayısı
Merve	
Özüm	
Efe	
Ayaz	
Davut	
Çınar	

Çetele Tablosu



NOT: Her şekil 3 kalemi göstermektedir.

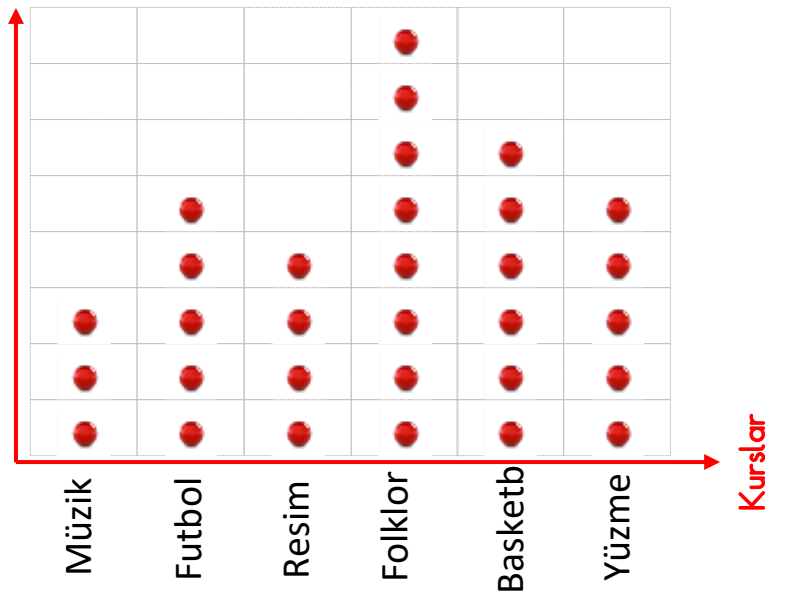
Sınıfımızda kursa giden öğrencilerin sayısına ait grafiğin çetele tablosunu yapınız.

Grafik: Kursa Giden Öğrenciler

Öğrenci Sayısı

Kurs	Kursa Giden Öğrenci Sayısı
Müzik	
Futbol	
Resim	
Folklor	
Basketbol	
Yüzme	

Çetele Tablosu



NOT: Her şekil 2 öğrenciyi göstermektedir.

Adı :

Soyadı:

3. Sınıf Matematik

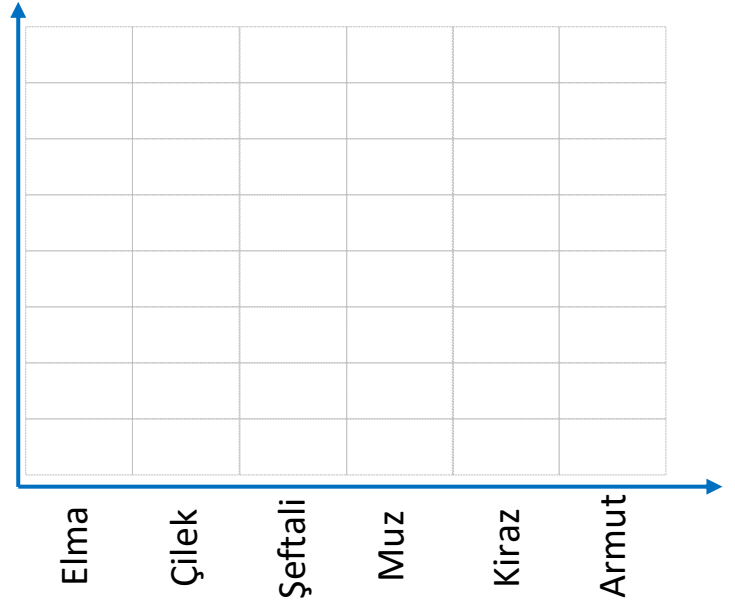
Veri Toplama ve
Değerlendirme-5

Öğrencilerin sevdiği meyvelere ait çetele tablosuna göre nesne grafiğini yapınız.

Grafik: Öğrencilerin Sevdiği Meyveler

Meyveler	Öğrenci Sayısı
Elma	HHH HHH II
Çilek	HHH HHH HHH I
Şeftali	HHH HHH IIII
Muz	HHH III
Kiraz	HHH I
Armut	HHH HHH

Çetele Tablosu



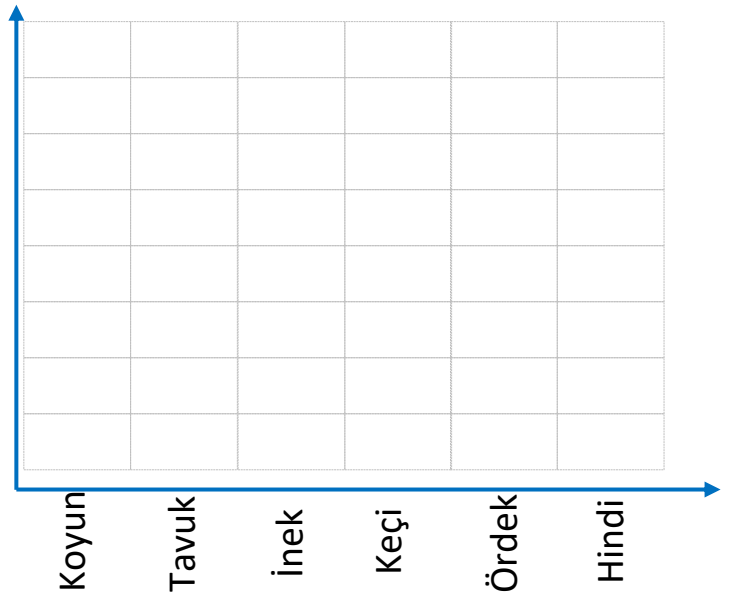
NOT: Her şekil 2 öğrenciyi göstermektedir.

Bir çiftlikteki hayvanlara ait çetele tablosuna göre nesne grafiğini tamamlayalım.

Grafik: Çiftlikteki Hayvanlar

Hayvanlar	Hayvan Sayısı
Koyun	HHH HHH HHH HHH HHH II
Tavuk	HHH HHH HHH III
İnek	HHH HHH HHH HHH I
Keçi	HHH HHH II
Ördek	HHH HHH HHH
Hindi	HHH IIII

Çetele Tablosu



NOT: Her şekil 3 hayvanı göstermektedir.