

Adı :

Soyadı:

3. Sınıf Matematik

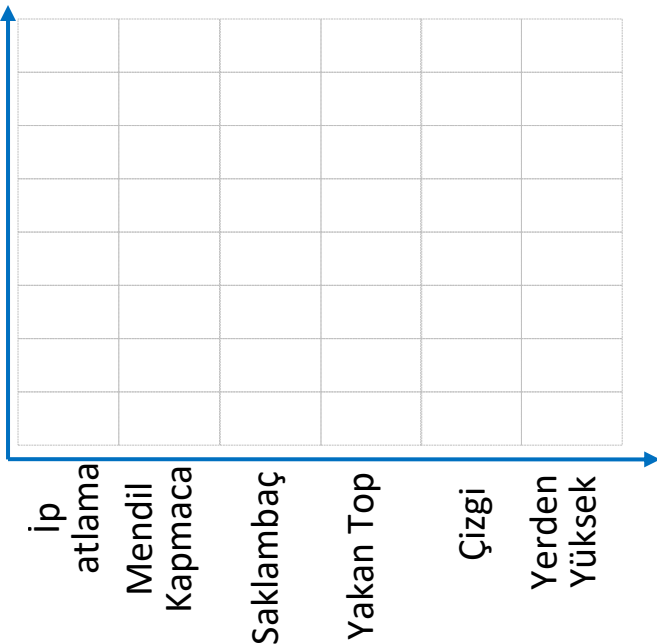
Veri Toplama ve
Değerlendirme-6

Sınıfımızdaki öğrencilerin sevdiği oyunlara ait sıklık tablosuna göre çetele tablosunu ve nesne grafiğini yapınız.

Oyunlar	Öğrenci Sayısı
Saklambaç	6
Yerden Yüksek	10
İp Atlama	4
Yakan Top	6
Mendil Kapmaca	14
Çizgi	6

..... Tablosu

..... Tablosu



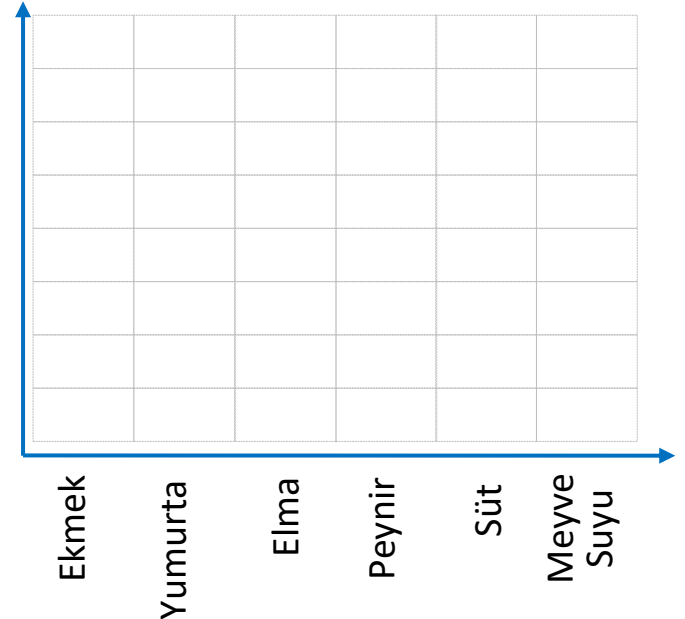
NOT: Her şekil 2 öğrenciyi göstermektedir.

Evimizde bir haftada tüketilen yiyeceklere ait sıklık tablosuna göre çetele ve nesne grafiğini yapınız.

Oyunlar	Öğrenci Sayısı
Ekmek	21
Süt	12
Meyve Suyu	15
Peynir	6
Yumurta	18
Elma	15

..... Tablosu

..... Tablosu



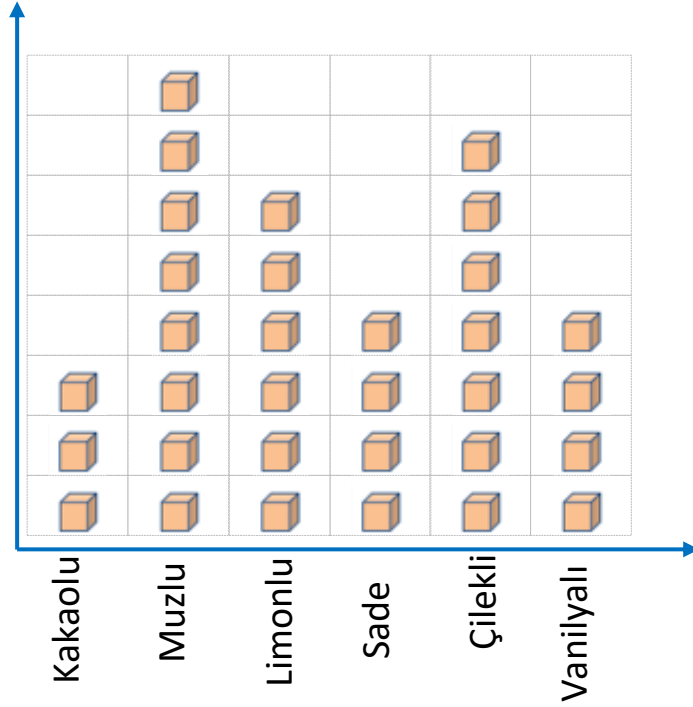
NOT: Her şekil 3 yiyeceği göstermektedir.

Adı :
Soyadı:

3. Sınıf Matematik

Veri Toplama ve
Değerlendirme-6

Pastanede satılan dondurmalara ait nesne grafiğine göre soruları cevaplandırınız.



NOT: Her şekil 3 dondurmayı göstermektedir.

- 1-En çok hangi tür dondurma kaç tane satılmıştır?.....
- 2-En az hangi tür dondurma kaç tane satılmıştır?.....
- 3-Muzlu , vanilyalı dondurmadan ne kadar fazla satılmıştır?.....
- 4-Her şekil 5 dondurmayı gösterseydi kaç tane çilekli satılmış olur?.....
- 5-Her şekil 4 dondurmayı gösterseydi kakaolu satışı ne kadar artardı?.....
- 6-Toplam kaç tane dondurma satılmıştır?.....
- 7-Her şekil 2 dondurmayı gösterseydi toplam kaç dondurma satılmış olurdu?.....
- 8-Limonulu ve vanilyalı dondurma hiç satılmasaydı kaç dondurma satılmış olurdu?.....
- 9-Pastanede 100 dondurma satılması için kaç dondurma daha satılmalıdır?