

Cehalet apaçık düşman diyerek  
Bilmeyi öğretti bize öğretmen  
Yalanı yanlış belleğimizden  
Silmeyi öğretti bize öğretmen

Geçmiş bilmemezse eğer bir millet  
Esir alır zihni karanlık, zillet  
Tarihte yaşanmış çok şeyden ibret  
Almayı öğretti bize öğretmen

Tomurcuk üstüne yağsada dolu  
Her daim iyimser hep umut dolu  
Çıkmazlar içinde bir çıkış yolu  
Bulmayı öğretti bize öğretmen

Coşkun Arslan

1. Şiirin başlığı ne olabilir?

- a) Atatürk      b) Öğretmen      c) Annem

2. Tomurcuk üstüne ne yağarmış?

- a)       b)       c) 

3. Aşağıdakilerden hangisinde kesme işareti ( ' ) doğru kullanılmıştır?

- a) Ordu'lu      b) Zeynep'ler      c) Beyza'nın

4. Aşağıdaki verilen cümlelerin hangisinde zıt anlamlı kelimeler birlikte kullanılmıştır?

- a) Beyza çok üşümüş.  
b) Sonbahar mevsimi geldi.  
c) Geç yatarsan erken kalkamazsın.

ş-för

5.




Yukarıda verilen kelimenin yazılışının doğru olabilmesi için boş bırakılan yere hangi harf gelmelidir?

- a) o      b) ö      c) ü

6.

"Dünkü fırtınada bahçedeki dallar kırıldı."

Yukarıdaki cümlede kaç tane eş sesli kelime vardır?

- a)       b)       c) 

7.

Bazı günler geç vakitlere kadar bilgisayar oyunu oynadığı için .....

Yukarıdaki cümlenin aşağıdakilerin hangisiyle tamamlanması uygun olur?

- a) Sabah, okula geç kalıyor.  
b) Öğretmenimiz onu beğeniyor.  
c) Okula zamanında gidiyor.

8. Ahmet Bey maaşının 346 lirası ile taksit, 125 lirası ile elektrik , 67 lirası ile su faturası ödemiştir.

Buna göre Ahmet Bey maaşından toplam kaç lira harcama yapmıştır?

- a) 538      b) 154      c) 439




9. Rakamları birbirinden farklı, en büyük üç basamaklı tek sayının 169 eksiği kaç yapar?

- a) 830      b) 818      c) 829




10. "543 sayısının yüzler ve birler basamağındaki rakamların yeri değiştirilirse sayının değeri nasıl değişir?"

- a) 198 azalır. b) 198 artar.  
c) 185 artar.

11. Bir bahçede 298 erik, 65 elma ve 76 tane de kiraz ağacı olduğuna göre bu bahçede kaç tane meyve ağacı vardır?

- a)  363 b)  412 c)  439

12. Bir okulda 365 kız öğrenci vardır. Erkek öğrencilerin sayısı kızlardan 109 kişi daha azdır. Bu okulda toplam kaç öğrenci vardır?

- a)  621 b)  256 c)  521

13. Fatma, 144 sayfalık bir kitabın 1.gün 48 sayfasını, 2.gün 36 sayfasını okudu. Geriye okumadığı kaç sayfa kaldı?

- a) 84 b) 72 c) 60

14. Bir manav pazara getirdiği 482 kilogram elmanın sabah 137 kilogramını, öğleden sonra da 95 kilogramını sattı. Geriye kaç kilogram elma kalır?

- a) 232 b) 250 c) 345

15. "Ev alma, komşu al." atasözü ile aşağıdakilerden hangisinin önemi belirtilmiştir?

- a) Ev almanın b) Akrabanın  
c) Komşunun

16. Aşağıdakilerden hangisi komşularımızı rahatsız etmez?

- a) Yüksek sele müzik dinlemek  
b) Kapımızın önünü temizlemek  
c) Evimizde top oynamak

17. Komşuluk ilişkileri ile ilgili aşağıdakilerden hangisi doğru değildir?

- a) İlişkiler karşılıklı sevgi, saygı, yardımlaşma içerisinde sürdürülür.  
b) Komşularla mutluluk, sevinç, sıkıntı ve keder paylaşılır.  
c) Komşuluk ilişkilerini güçlendirmek için iletişim kurmaktan kaçınılmalıdır.

18. Oyun oynamak için parka giden Ayşe'nin hangi davranışı tehlikeli bir duruma neden olabilir?

- a) Tahterevalliye binip oynaması  
b) Salıncakta sallanan arkadaşının önünde durması  
c) Kaydırdaktan kaymak için merdivenleri çıkması

19. Aşağıdakilerden hangisi hareketli cisimlerin neden olabileceği tehlikelerdendir?

- a) Açık duran bir pencereyi kapatmak  
b) Çalışan bir mikserin ucuna dokunmak  
c) Tornavida ile vida sökme

20. Yavuz Bey, duvardaki çiviği söküyor. Yavuz Bey bu işi yaparken kuvveti hangi şekilde uygular?

- a) İtme b) Döndürme c) Çekme

## CEVAPLAR

Adı Soyadı: .....

- |    |   |   |   |    |   |   |   |
|----|---|---|---|----|---|---|---|
| 1  | A | B | C | 11 | A | B | C |
| 2  | A | B | C | 12 | A | B | C |
| 3  | A | B | C | 13 | A | B | C |
| 4  | A | B | C | 14 | A | B | C |
| 5  | A | B | C | 15 | A | B | C |
| 6  | A | B | C | 16 | A | B | C |
| 7  | A | B | C | 17 | A | B | C |
| 8  | A | B | C | 18 | A | B | C |
| 9  | A | B | C | 19 | A | B | C |
| 10 | A | B | C | 20 | A | B | C |

## CEVAPLAR

Adı Soyadı: .....

- |    |   |   |   |    |   |   |   |
|----|---|---|---|----|---|---|---|
| 1  | A | B | C | 11 | A | B | C |
| 2  | A | B | C | 12 | A | B | C |
| 3  | A | B | C | 13 | A | B | C |
| 4  | A | B | C | 14 | A | B | C |
| 5  | A | B | C | 15 | A | B | C |
| 6  | A | B | C | 16 | A | B | C |
| 7  | A | B | C | 17 | A | B | C |
| 8  | A | B | C | 18 | A | B | C |
| 9  | A | B | C | 19 | A | B | C |
| 10 | A | B | C | 20 | A | B | C |

## CEVAPLAR

Adı Soyadı: .....

- |    |   |   |   |    |   |   |   |
|----|---|---|---|----|---|---|---|
| 1  | A | B | C | 11 | A | B | C |
| 2  | A | B | C | 12 | A | B | C |
| 3  | A | B | C | 13 | A | B | C |
| 4  | A | B | C | 14 | A | B | C |
| 5  | A | B | C | 15 | A | B | C |
| 6  | A | B | C | 16 | A | B | C |
| 7  | A | B | C | 17 | A | B | C |
| 8  | A | B | C | 18 | A | B | C |
| 9  | A | B | C | 19 | A | B | C |
| 10 | A | B | C | 20 | A | B | C |

1.	B	6.	C	11.	C	16.	B
2.	A	7.	A	12.	A	17.	C
3.	C	8.	A	13.	C	18.	B
4.	C	9.	B	14.	B	19.	B
5.	A	10.	A	15.	C	20.	C