



Adı Soyadı :

Numarası :

Konu: Romen Rakamları

Aşağıdaki sayıları romen rakamlarıyla karşınıza yazınız.

1 =	2 =	3 =	4 =	5 =
6 =	7 =	8 =	9 =	10 =
11 =	12 =	13 =	14 =	15 =
16 =	17 =	18 =	19 =	20 =

Aşağıdaki romen rakamlarını karşısına sayıları yazınız.

I = ...	III =	VI =	IX =	VII =
XV =	IV =	XI = ...	XIX =	XVI =
XX =	XIV =	XXI =	XXV = ...	XXIV =

Aşağıda verilen ayların kaçınıcı ay olduklarını Romen rakamları ile yazınız.

<input type="text"/>	Ocak	<input type="text"/>	Şubat	<input type="text"/>	Mart	<input type="text"/>	Nisan
<input type="text"/>	Mayıs	<input type="text"/>	Haziran	<input type="text"/>	Temmuz	<input type="text"/>	Ağustos
<input type="text"/>	Eylül	<input type="text"/>	Ekim	<input type="text"/>	Kasım	<input type="text"/>	Aralık

Aşağıdaki toplama işlemlerinin sonuçlarını romen rakamlarıyla yazınız.

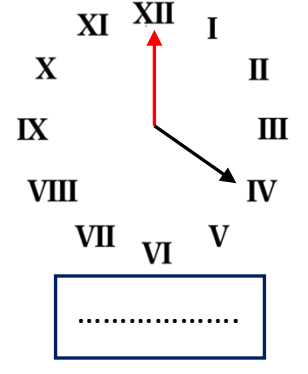
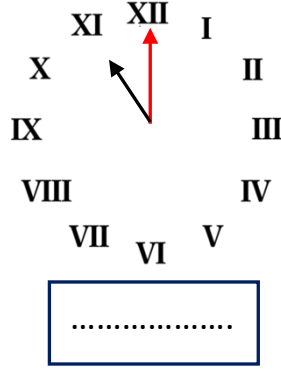
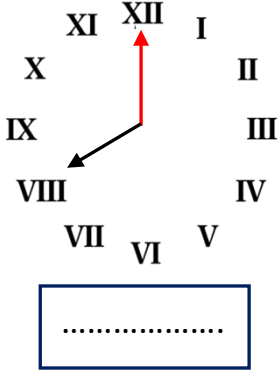
5 + 1 =	9 + 1 =	7 + 6 =	10 + 1 =	10 + 5 =
8 + 2 =	20 + 4 =	20 + 1 =	12 + 10 =	2 + 5 =
3 + 2 =	6 + 4 =	18 + 5 =	20 + 10 =	5 + 4 =

Aşağıdaki çıkarma işlemlerinin sonuçlarını romen rakamlarıyla yazınız.

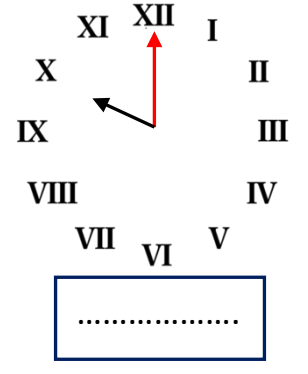
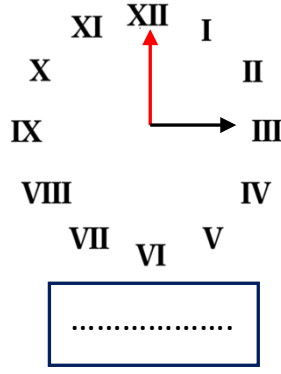
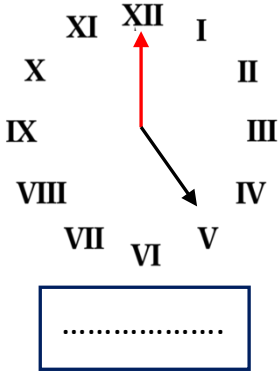
4 - 1 =	7 - 2 =	10 - 6 =	15 - 5 =	9 - 4 =
11 - 3 =	18 - 3 =	20 - 4 =	17 - 8 =	8 - 7 =
13 - 6 =	20 - 9 =	18 - 8 =	20 - 10 =	17 - 2 =

Aşağıdaki saatleri okuyalım altlarına saatlerin kaçı gösterdiğini yazınız.

Öğleden önce



Öğleden Sonra



Aşağıdaki varlıkların sayılarını, Romen rakamlarını kullanarak yazınız.



.....



.....



.....

Aşağıdaki Romen rakamlarının tek sayı olanlarını maviye, çift sayı olanlarını sarıya boyayınız.

XV

IV

XII

IX

VIII

XIX

XVI

III