

- 1) ● Sinem merdivenin birinci **basamağına** oturmuş.
 ■ Yazdığım sayının yüzler **basamağında** dört var.
 ▲ Defterime cetvelle bir **doğru** çizdim.
 ◆ Ömer soruyu **doğru** cevaplamış.

Yukarıdaki cümlelerin hangilerinde kelime-lerin terim anlamı kullanılmıştır?

- A) ● ▲ B) ▲ ■
 C) ◆ ■ D) ◆ ●

- 2) Aşağıdaki cümlelerin hangisinde "derin" kelimesi mecaz anlamda kullanılmıştır?
- A) Yusuf derin havuzda yüzemedi.
 B) Köyümüzdeki göl çok derin.
 C) Babam iş bulamayınca derin düşüncelere daldı.
 D) Mert denizin derin yerinde suya atladı.
- 3) Aşağıdaki cümlelerdeki altı çizili kelimelerden hangisi gerçek anlamda kullanılmıştır?
- A) Bahçeli evde **karanlık** işler çevriliyor.
 B) Yeni aldığımız bıçak çok **keskin**.
 C) Üst kattaki gürültüden dolayı uykum **kacı**.
 re daldı.
 D) Bu olaylar annemi çok **yıprattı**.

- 4) Salı günü sınıfta soğan hücresini inceledik.

Yukarıdaki cümlede aşağıdaki kelimelerden hangisi terim anlamda kullanılmıştır?

- A) hücresini B) salı
 C) soğan D) inceledik

- 5) I- Annem sert domateslerle salata yaptı.
 II- Yastık çok sert olduğu için rahat uyuyamadım.
 III- Komşumuzun sert tavırları babamın hoşuna gitmiyor.
 IV- Kek sert olunca yiyemedik .

Yukarıdaki cümlelerin hangisinde "sert" kelimesi mecaz anlamda kullanılmıştır?

- A) I B) II
 C) IV D) III

- 6)

$$32 \times 25 = ?$$

Yukarıdaki çarpma işleminde kısa yoldan yapıışı aşağıdakilerden hangisidir?

- A) $32 \div 2 = 16$ $16 \times 100 = 1600$
 B) $32 \div 8 = 4$ $4 \times 100 = 400$
 C) $32 \times 4 = 128$ $128 \times 100 = 12800$
 D) $32 \div 4 = 8$ $8 \times 100 = 800$


- 7) \triangle $86 \times 100 = 8600$
 \square $6 \times 4000 = 10000$
 \odot $800 \times 7 = 5600$
 \diamond $925 \times 1000 = 925000$
 Yukarıdaki kısa yoldan çarpma işlemlerinden hangisi **yanlış** yapılmıştır?

- A) \odot B) \diamond
 C) \square D) \triangle

8) $65 \times 10 = 650$ $650 \div 2 = 325$





Yukarıda kısa yoldan yapıldığı verilen çarpma işlemi aşağıdakilerden hangisidir?

- A) 65×50 B) 65×25
 C) 65×100 D) 65×5

9)  4×65 işleminin tahminini en yakın onluğa yuvarlayarak yaptım.

Yukarıdaki ifadeye göre tahmin ile gerçek işlem sonucu arasındaki fark kaçtır?

- A) 20 B) 16
 C) 24 D) 12

- 10)  700 Sıla
 560 Ertan
 630 Serkan
 650 Öykü

Yukarıdaki çocuklardan hangisi 7×92 işleminin tahminini doğru yapmıştır ?

- A) Öykü B) Serkan
 C) Ertan D) Sıla

11) , cisimlerin hareket durumlarını ya da şeklini değiştiren etkidir.

Yukarıdaki cümledeki noktalı yere yazılabilecek en uygun kelime aşağıdakilerden hangisidir?

- A) hız B) kuvvet
 C) itme D) çekme

12) A Kuvvet hareketsiz cisimleri hareket ettirir.

E Hareketli cismi durduramaz.

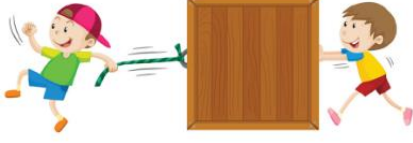
T Hareketli cismi hızlandırır.

S Cisimlerin yönünü değiştirir.

Doğru cümlelerin başındaki harflerle aşağıdaki kelimelerden hangisi **yazılamaz**?

- A) SAT B) TAS
 C) SET D) AST

13)



Yukarıdaki görselle ilgili aşağıdakilerden hangisi **söylenemez**?

- A) Kutuya itme kuvveti uygulanıyor.
- B) Kutuya çekme kuvveti uygulanıyor .
- C) Hareketli kutu durduruluyor.
- D) Kutu hareket ettiriliyor.

14) Yandaki resimle ilgili aşağıdakilerden hangisi söylenebilir?



- A) Kuvvet cisimlerin şeklini değiştirebilir.
- B) Kuvvet cisimlere etki etmez .
- C) Kuvvet cisimleri yavaşlatır.
- D) Kuvvet uygulanınca cisim yön değiştirir.

15) Aşağıdakilerden hangisinde yavaşlama hareketi gözlemlenir?

- A) Duraktan hareket eden otobüs.
- B) Onuncu kattan bırakılan top.
- C) Köpeği görüp kaçan kedi.
- D) Bisikletin frenine basılması.

16) Evimizi tarif ederken aşağıdakilerden hangisini kullanmamız **doğru değildir**?

- A) Evimizin karşısındaki park
- B) Evimizin önündeki kamyon
- C) Evimizin yanındaki okul
- D) Evimizin yakınındaki cami

17)

Bir yerin basit ve anlaşılır bir şekilde kuşbakışı kabataslak çizimine denir.

Yukarıdaki cümlede noktalı yere aşağıdakilerden hangisi yazılmalıdır?

- A) harita
- B) kroki
- C) plan
- D) resim

- 18) Bir yeri tarif ederken kroki çizebiliriz.
 Krokide gerçek uzunluklar belli bir oranda küçültülerek çizilir.
 Kroki çizerken genellikle kare, dikdörtgen, üçgen ve daire gibi şekiller kullanılır.

Yukarıda doğru cümlelere "D", yanlış cümlelere "Y" koyarsak hangi sonucu elde ederiz?

- A)

D
Y
D

 B)

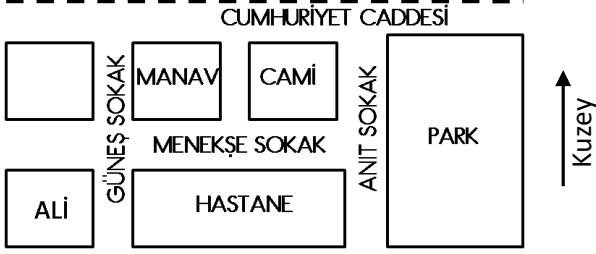
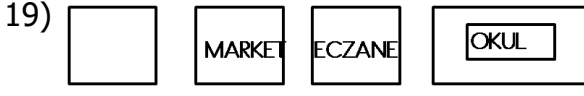
D
D
D

 C)

D
Y
Y

 D)

Y
Y
D



Yukarıdaki krokiye göre aşağıdakilerden hangisi yanlıştır?

- A) Caminin güneyinde hastane var.
- B) Manavın kuzeyinde market var.
- C) Manavın doğusunda Güneş Sokak var.
- D) Parkın batısında Anıt Sokak var.

20) Her yerin krokisi çizilemeyebilir.

Yukarıdaki ifadeye göre aşağıdakilerden hangisinin krokisi çizilemez?

- A) Evimizin yeri
- B) Okulumuz ve çevresi
- C) Sokağımız
- D) Şehrimiz

CEVAP ANAHTARI

TÜRKÇE	MATEMATİK	FEN BİLİM.	SOSYAL BİL.
1) B	6) D	11) B	16) B
2) C	7) C	12) C	17) B
3) B	8) D	13) C	18) A
4) A	9) A	14) A	19) C
5) D	10) B	15) D	20) D