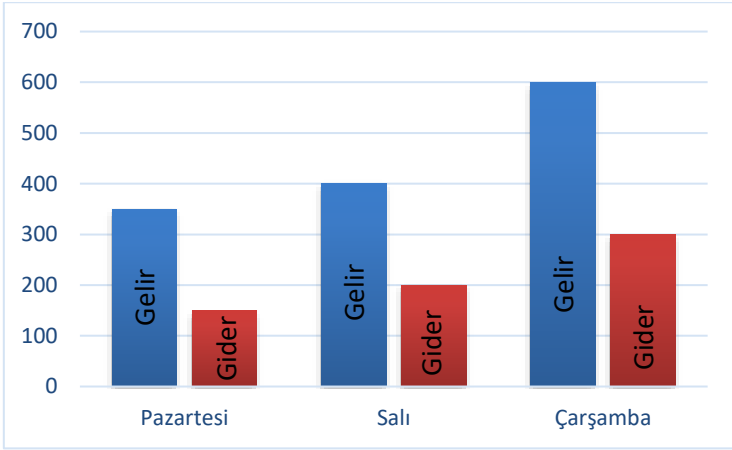


Adı :
Soyadı:

3. Sınıf Matematik

Veri Toplama Yeni Nesil Sorular-1



Yukarıdaki sütun grafiği bir kantinin 3 günlük gelir ve giderleri göstermektedir.

Gelir : Kazandığı para

Gider : Harcadığı para

Kâr : Kazandığı para ile harcadığı paranın farkı

Yukarıdaki grafiğe göre kantinci 3 günde toplam ne kadar kâr elde etmiştir?

- (A) 700 TL (B) 750 TL
(C) 650 TL (D) 850 TL

Yukarıdaki grafiğe göre aşağıdakilerden hangisi söylenemez?

- (A) En çok çarşamba günü kar elde etmiştir.
(B) En az pazartesi günü harcama yapmıştır.
(C) Salı günü gideri çarşamba günü giderinden 100 TL fazladır.
(D) Toplam üç günlük gideri 650 TL'dir.

Futbol	
Basketbol	
Voleybol	
Tenis	
Yüzme	

Not: Her şekil 5 kişiyi ifade eder.

Yukarıdaki nesne grafiğinde okulumuzdaki 3. sınıfa giden öğrencilerin en sevdiği sporları göstermektedir.

Okulumuzda 69 kız, 66 erkek öğrenci 3. sınıfa gitmektedir. Grafikte geriye kalan öğrenciler yüzmeyi sevdiğini söylemiştir. Grafikte kaç tane deniz topu çizilmelidir?

- (A) 4 (B) 6
(C) 5 (D) 7

Aşağıdaki çetele tablosundan hangisi yanlış verilmiştir?

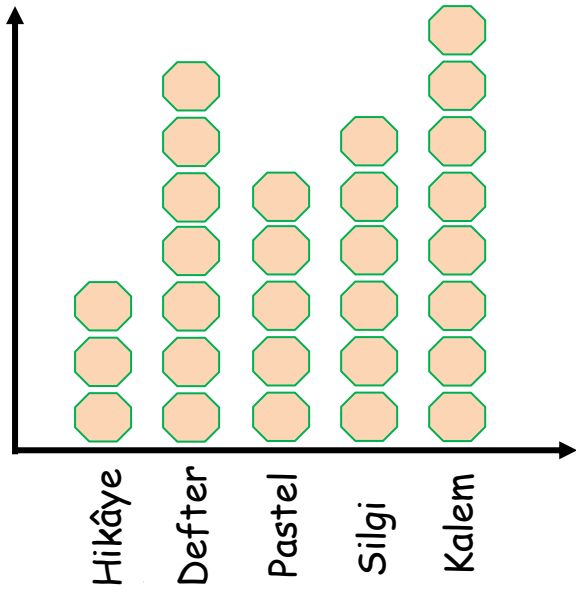
Spor	Öğrenci Sayısı
(A) Tenis	HHH HHH HHH HHH HHH
(B) Voleybol	HHH HHH HHH HHH
(C) Basketbol	HHH HHH HHH HHH HHH
(D) Yüzme	HHH HHH HHH HHH

Adı :

Soyadı:

3. Sınıf Matematik

Veri Toplama Yeni Nesil Sorular-1

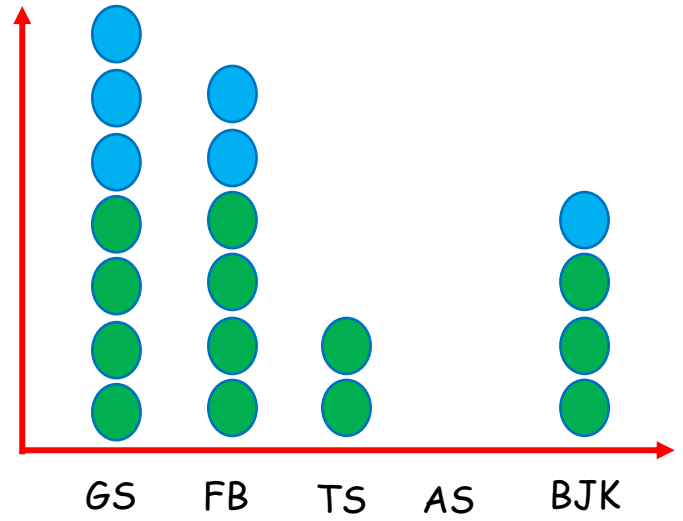


Not: Her şekil 2 ürünü göstermektedir.

Yukarıdaki grafik okul kantininde bir günde satılan ürünlerin sayısını göstermektedir.

Aşağıdaki bilgilerden hangisi yukarıdaki grafiğe göre doğrudur?

- (A) Kantinci defterlerin tanesini 3 liradan satarsa 52 TL para kazanır.
- (B) Kantinci iki günde 16 kalem satmıştır.
- (C) Kantinci tanesini 5 TL'den sattığı pastel boyalardan 50 TL kazanmıştır.
- (D) Satılan hikâye kitaplarının sayısı satılan silgilerin sayısından 3 eksiktir.



Not: Her şekil 5 kişiyi göstermektedir.

Okulumuzdaki 130 öğrenciye hangi takımı tuttuklarını sorduk. 15 öğrenci hiçbir takımı tutmadıklarını söylediler. Geri kalan öğrenciler Antalyaspor'u tuttuklarını söylediler. Antalyaspor'u tutan öğrencilerin hepsi erkektir. Mavi şekiller kız öğrencileri, yeşil şekiller erkek öğrencileri gösterir.

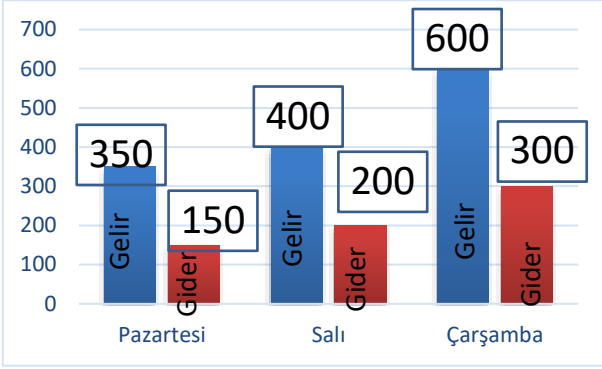
Aşağıdaki bilgilerden hangisi yukarıdaki grafiğe göre doğrudur?

- (A) Herhangi bir takımı tutan kız öğrencilerin toplam sayısı FB'yi tutanlardan daha azdır.
- (B) Trabzonspor ve Beşiktaş'ı tutanların toplam sayısı GS'yi tutanlardan azdır.
- (C) Antalyaspor'u tutanların sayısı GS'yi tutan kızların sayısına eşittir.
- (D) FB'yi tutan erkeklerin sayısı Trabzonspor ve Antalyaspor'u tutan erkeklerin toplam sayısından fazladır.

Adı :
Soyadı:

3. Sınıf Matematik

Veri Toplama Yeni Nesil Sorular-1



Pazartesi $350 - 150 = 200$
Salı $400 - 200 = 200$
Çarşamba $600 - 300 = 300$
Toplam $200 + 200 + 300 = 700$ kar

© Salı günü gideri çarşamba günü giderinden 100 TL fazladır.


Futbol		40
Basketbol		30
Voleybol		20
Tenis		25
Yüzme		

Not: Her şekil 5 kişiyi ifade eder.

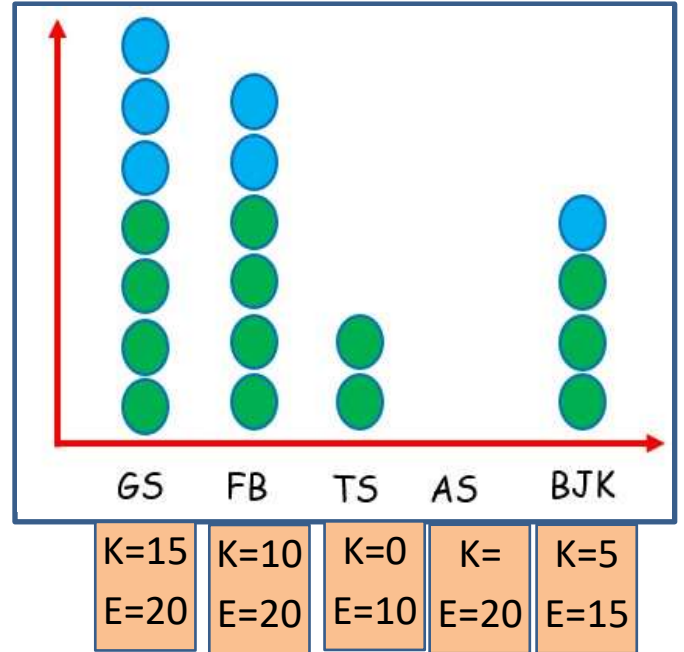
$69 + 66 = 135$ öğrenci
 $40 + 30 + 20 + 25 = 115$
 $135 - 115 = 20$ (4 top çizilmeli)

© Basketbol	
-------------	--

Basketbol 30 olmalıydı



Kantinci tanesini 5 TL'den sattığı pastel boyalardan 50 TL



$130 - 115 = 115$ öğrenci takım tutuyor.
 $35 + 30 + 10 + 20 = 95$
 $115 - 95 = 20$ öğrenci Antalyaspor tutuyor.

Trabzonspor ve Beşiktaş'ı tutanların toplam sayısı GS'ı tutanlardan azdır.