

Adı :
Soyadı:

2. Sınıf Matematik

Toplama İşlemi-Genel Yaprak Test-4

1- Aşağıdaki işlemlerden hangisinin sonucu doğrudur?


A)
$$\begin{array}{r} 38 \\ 39 \\ + 18 \\ \hline 85 \end{array}$$

B)
$$\begin{array}{r} 37 \\ 27 \\ + 29 \\ \hline 83 \end{array}$$

C)
$$\begin{array}{r} 29 \\ 29 \\ + 29 \\ \hline 87 \end{array}$$



2- Yukarıdaki elmaların değerlerine göre aşağıdaki işlemin sonucu kaçtır?



A) 45

B) 35

C) 60

3- Aşağıdaki işlemlerden hangisinin sonucu en büyüktür?

A)
$$\begin{array}{r} 20 \\ 30 \\ + 42 \\ \hline \dots \end{array}$$

B)
$$\begin{array}{r} 50 \\ 10 \\ + 25 \\ \hline \dots \end{array}$$

C)
$$\begin{array}{r} 30 \\ 30 \\ + 27 \\ \hline \dots \end{array}$$

Ben 12 yaşındayım. Babam benden 32 yaş büyüktür.

4- Yukarıda verilen bilgiye göre babam 5 yıl sonra kaç yaşına girecektir?

A) 44

B) 49

C) 37

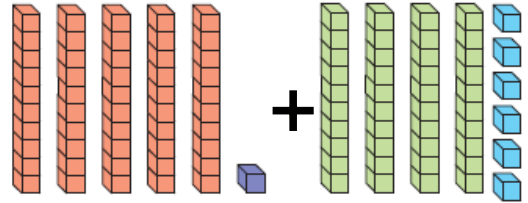
$$\begin{array}{r} \square \\ + 15 \\ \hline 59 \end{array}$$

5- Yukarıdaki işlemde verilmeyen sayı kaçtır?

A) 74

B) 64

C) 44



6- Yukarıdaki modellemenin toplama işlemi hangisidir?

A) $41 + 46 = 97$

B) $51 + 45 = 97$

C) $51 + 46 = 97$

Adı :
Soyadı:

2. Sınıf Matematik


Toplama İşlemi-Genel Yaprak Test-4

$$\begin{array}{r} 4 \text{ onluk } 3 \text{ birlik} \\ + 2 \text{ onluk } 7 \text{ birlik} \\ \hline \end{array}$$

.....

7- Yukarıdaki işlemin sonucu kaçtır?





- A) 60 B) 70 C) 80

5 - 10 - 15 - 20 - 25 -  - 35 - 40

10 - 20 - 30 -  - 50 - 60 - 70 - 80

8- Yukarıda verilen örüntülere göre at ile aslan yerine yazılan sayıların toplamı kaçtır?

- A) 65 B) 70 C) 75

9- Yukarıdaki en büyük sayının 27 fazlası hangisidir?

- A) 93 B) 80 C) 83

$$\begin{array}{r} 30 \\ + 25 \\ \hline \end{array} \quad \begin{array}{r} \text{A} \\ + 15 \\ \hline \end{array}$$

10- Yukarıdaki toplama işleminde A yerine hangi sayı yazılmalıdır?

- A) 55 B) 70 C) 60

11- 7 birlik ve 4 onluktan oluşan sayıya 25 eklersek sonuç kaç olur?

- A) 72 B) 99 C) 62

12- İki basamaklı en küçük sayının 15 fazlası kaç eder?

- A) 25 B) 26 C) 16

Doğru :.....

Yanlış:.....

- | | | | | | | | |
|---|---|---|---|----|---|---|---|
| 1 | A | B | C | 8 | A | B | C |
| 2 | A | B | C | 9 | A | B | C |
| 3 | A | B | C | 10 | A | B | C |
| 4 | A | B | C | 11 | A | B | C |
| 5 | A | B | C | 12 | A | B | C |
| 6 | A | B | C | 13 | A | B | C |
| 7 | A | B | C | 14 | A | B | C |