





Adı :
Soyadı:

2. Sınıf Matematik

Toplama İşlemi Yeni Nesil Sorular-2

3 kişi	?	
	?	7 kişi
6 kişi		4 kişi
4 kişi	7 kişi	



Biz 5 kişilik bir aileyiz. Bizim katta 13 kişi yaşamaktadır.

Apartmanın içindeki sayılar o dairede kaç kişinin oturduğunu göstermektedir. Davut, Emir, Aysel ve Nehir aynı apartmanda oturmaktadırlar.



Ben Aysel. Bizim katta 15 kişi yaşamaktadır.



Ben Davut Bizim katta 18 kişi yaşamaktadır.



Bizim katta 16 kişi yaşamaktadır.

Ayseller kaç kişilik bir ailedir?

- A** 3
C 5

- B** 4
D 6

Davutlar 5 kişilik bir aile olduğuna göre komşularında kaç kişi yaşamaktadır?

- A** 4
C 6

- B** 5
D 7

Emirlerin bitiğinde kaç kişi yaşamaktadır?

- A** 3
C 4

- B** 5
D 6

Nehirler kaç kişilik bir ailedir?

- A** 3
C 5

- B** 4
D 6