




## SORU KELİMELERİ

 Aşağıdaki soru cümlelerinde boş bırakılan yerlere örnekteki gibi uygun soru kelimesini yazınız.

kime

nereye

kimden

ne

niçin

nereden

nasıl

ne zaman

kimin

nerede

Yarın kütüphaneye gideceğiz.Yarın nereye gideceksiniz ?Hasan'ın silgisi kaybolmuş.

..... silgisi kaybolmuş ?

Yağmur yağdığı için dışarı çıkamadım .

..... dışarı çıkamadın ?

Selin hırkasını sınıfta unutmuş.

Selin hırkasını ..... unutmuş ?

Annem üzümlü kek yaptı .

Annen ..... yaptı ?

Deniz akşam bize geldi .

Deniz ..... size geldi ?

Selin, kardeşine toka almış .

Selin ..... toka almış ?

Babam akşam olanları gülerek anlattı .

Baban akşam olanları ..... anlattı ?

Koray bu topu Melih'ten almış .

Koray bu topu ..... almış ?

Kemal fırından iki ekmek aldı.

Kemal ..... ekmek aldı ?





## TÜRKÇE



 Aşağıdaki cümlelerin bildirdiği yargıyı işaretleyiniz.

Makarna çok güzel olmamış.

Haber  Düşünce  İstek

Maçtan sonra bize gidelim.

İstek  Düşünce  Duygu

Yarın apartmanda ilaçlama yapılacak.

İstek  Haber  Düşünce

Kardeşim doğunca onu çok kıskandım.

Haber  Duygu  Düşünce

Milli takım yenince çok sevindik.

İstek  Düşünce  Duygu

Öğretmen ödevleri salı günü kontrol edecek.

İstek  Haber  Düşünce

Bu kadar güzel bir resim görmedim.

İstek  Haber  Düşünce

Poşetleri Umut taşımış.

Haber  Düşünce  İstek

Eski mahallemdeki arkadaşlarımı çok özleyorum.

Duygu  Düşünce  Haber

Annemi arabada göremeyince çok korktum.

İstek  Düşünce  Duygu

Bu şiiri senin yazdığına inanmıyorum.

Haber  Düşünce  İstek

Kutuları eve birlikte taşıyalım.

İstek  Düşünce  Duygu

Kırmızı renk sana çok yakışıyor.

İstek  Haber  Düşünce

Babam bilgisayarımı tamir ettirecek.

İstek  Haber  Düşünce



## ASLAN VE TILKI MASALI

Uzun zaman önce bir ormanda bir çift aslan yaşıyordu. Bir sabah karısı ona nefesinin kötü ve nahoş olduğunu söyledi. Aslan bunu duyunca utandı ve öfkelendi, karısının söylediğine inanmadı ve ormandaki hayvanları nefesini kokup kokmadığını kontrol etmek için çağırdı.

Önce koyun geldi. Ağzını ardına kadar açan Aslan, "Koyun, söyle bana ağzım kötü kokuyor mu?" Dedi. Koyun, aslanın dürüst bir cevap istediğini düşündü ve koyun, "Evet dostum. Nefesinizde bir sorun var gibi görünüyor". Bu dürüstçe cevap aslanın pek de hoşuna gitmedi ve koyunun üzerine atlayıp pençeleriyle onu cezalandırdı.

Sonra kurt geldi ve aslan kurda sordu; "Ne düşünüyorsun? Nefesim kokuyor mu?" Kurt koyunun başına ne geldiğini gördüğü için soruyu cevaplarken çok dikkatli olması gerektiğini anladı. Kurt, "Nefesinizin kötü koktuğunu kim söylüyor?" dedi. Gül kokusu kadar tatlı bir nefesiniz var." dedi. Aslan, kurdun cevabını duyunca "Dalkavuk kurt!" deyip, öfkeyle kükredi ve koca pençeleriyle hemen kurda saldırdı, kurdu da cezalandırdı.

Sonunda sıra tilkiye geldi. Aslan tilkiye de aynı soruyu sordu. Tilki, koyun ve kurdun başına gelenleri gördü. Bu yüzden defalarca öksürüp boğazını temizledi ve sonra şöyle dedi, "Ah Sevgili Dostum, son birkaç gündür soğuk almışım, hastayım. Bu yüzden hoş ya da hoş olmayan hiçbir şeyin kokusunu alamıyorum." dedi.



Aşağıdaki soruları metne uygun bir şekilde cevaplayınız.

1. Bir sabah karısı , aslana ne söylemiş ?

.....

2. Aslan ormandaki hayvanları niçin çağırdı ?

.....

3. Aslan koyunu niçin cezalandırdı?

.....

4. Kurt aslanın sorusuna ne cevap verdi?

.....

5. Tilki niçin koku alamıyormuş?

.....

6. Kimlerin cevabı aslanın hoşuna gitmedi?

.....



## GÜNLÜK PLANIMI UYGULUYORUM

1.Etkinlik: Aşağıda verilen zamanlarla bir gün içerisinde yaptığımız işleri eşleştirelim.

A 1 saat

B 2 saat

Ç 4 saat

D 1 saat

E 6 saat

F 9 saat

C 1 saat

( .... ) Uykuya ayırmamız gereken zaman

( .... ) Ders çalışmaya ayırmamız gereken zaman

( .... ) Oyun oynamaya ayırmamız gereken zaman

( .... ) Televizyon izlemeye ayırmamız gereken zaman

( .... ) Kitap okumaya ayırmamız gereken zaman

( .... ) Yemek öğünlerine, dinlenmeye, ailemize yardım etmeye, okula hazırlanmaya ayırmamız gereken zaman

( .... ) Okulda geçireceğimiz zaman



1. Etkinlik: Aşağıdaki ifadelerin doğru olanlarının başına " D ", yanlış olanların başına " Y " yazınız.

( .... ) Gün içerisinde farklı etkinlikler yapabiliriz.

( .... ) Planlamada en fazla zamanı oyun oynama ayırmalıyız.

( .... ) Planlı çalışma başarılı olmamızı sağlar.

( .... ) Hayatımızın daha düzenli olması için günümüzü planlamayız.

( .... ) Gün içerisinde yapacaklarımızı planlarsak zamanımızı iyi kullanırız.

( .... ) Plansız olmak daha verimli olmamızı sağlar.

( .... ) Günlük ve haftalık planlama yapabiliriz.

( .... ) Planlama yaparken oyun oynamaya yer verilmez.

( .... ) Planlı olmak düzenli olmamızı sağlar.

( .... ) Ailemle geç saatlere kadar televizyon izlerim.





## İSTEK VE İHTİYAÇLARIMIZ


1. Etkinlik: Verilen resimlerin altına "ihtiyaç" ve "istek" kelimelerinden uygun olanını yazalım.



.....



.....



.....



.....



.....



.....



.....



.....



.....




.....



.....



.....



.....



.....




.....


2. Etkinlik: Aşağıdaki cümlelerin numaralarını doğru olanları doğrucu Davut'a, yanlış olanları yanlışçı Yavuz'a yazınız.

1. İstediklerimiz alınmazsa ısrarcı olmalıyız , ağlamalıyız.
2. Öncelikli olarak isteklerimizi almalıyız.
3. İhtiyaçlarım varken isteklerimi alamam.
4. Deftere ihtiyacım varken önce gofret alırım
5. Alışveriş sırasında her zaman ihtiyaçlarımız önce alınmalı.
6. İhtiyaçlarım alınmasa da olur.
7. İstekler aile bütçemize göre alınabilir.
8. Paten yerine kış geldiği için ihtiyacımız olan botu almalıyız.
9. İsteklerimi almak için para biriktirim.
10. Annem perdelerimiz olduğu halde perdeleri yenilemek istiyor.

Davut



Yavuz





## EŞİTLİK KAVRAMI

1. Etkinlik: Aşağıda verilen işlemleri inceleyiniz. "=" işaretinin doğru kullanıldığı işlemlerin çiçeklerini maviye , yanlış kullanılan işlemlerin çiçeklerini kırmızıya boyayalım.

$$5 + 3 = 6 + 2$$



$$7 + 6 = 9 + 4$$



$$10 + 8 = 11 + 6$$



$$9 - 4 = 8 - 3$$



$$8 - 7 = 10 - 8$$



$$14 - 6 = 18 + 9$$



$$10 + 7 = 17$$



$$13 + 14 = 28$$



$$25 + 15 = 40$$



$$29 - 13 = 15$$



$$10 - 7 = 3$$



$$30 - 10 = 20$$



$$9 + 6 = 20 - 5$$



$$14 - 6 = 4 + 4$$



$$20 + 20 = 90 - 40$$



2. Etkinlik: Aşağıda verilen işlemlerde eşitlik bozulmayacak şekilde "=" işaretinin sağını verilen işleme uygun olarak örnekteki gibi doldurunuz.

$$7 + 5 = \boxed{9} + \boxed{3}$$

$$6 + 8 = \boxed{\dots} + \boxed{\dots}$$

$$9 - 4 = \boxed{\dots} + \boxed{\dots}$$

$$12 - 7 = \boxed{\dots} - \boxed{\dots}$$

$$15 - 5 = \boxed{\dots} - \boxed{\dots}$$

$$9 + 6 = \boxed{\dots} + \boxed{\dots}$$

$$4 + 3 = \boxed{\dots} - \boxed{\dots}$$

$$2 + 6 = \boxed{\dots} - \boxed{\dots}$$

$$15 - 9 = \boxed{\dots} - \boxed{\dots}$$

$$40 + 20 = \boxed{\dots} + \boxed{\dots}$$

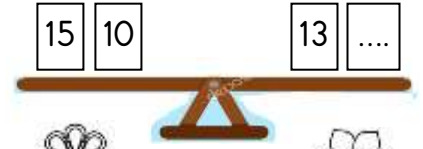
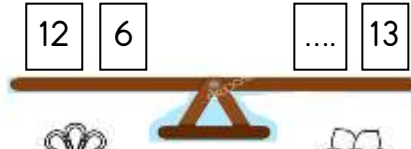
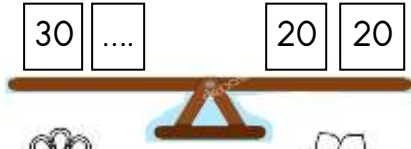
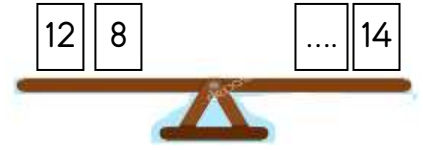
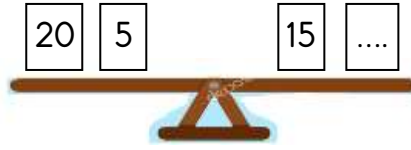
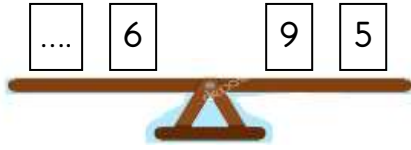
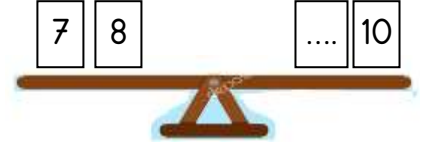
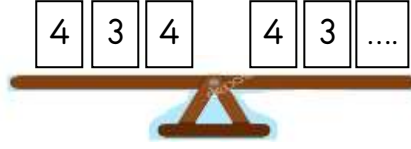
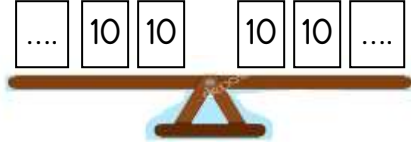
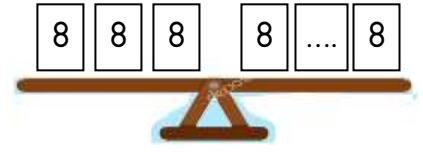
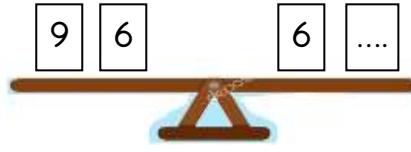
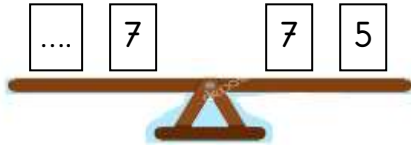
$$10 + 9 = \boxed{\dots} + \boxed{\dots}$$

$$8 + 6 = \boxed{\dots} + \boxed{\dots}$$



## EŞİTLİK KAVRAMI

1. Etkinlik: Aşağıdaki sayıların toplamı düşünüldüğünde tahterevallilerin dengede durabilmesi için noktalı yerlere gelecek sayıları bulalım.



2. Etkinlik: Aşağıda verilen işlemlerde eşliğin sağlanması için kutulara gelecek sayıları bulalım. Bulduğumuz sayıyı aşağıda boyyalım.

$$4 + 5 = 3 + \dots$$

5   6   9

$$6 + 7 = \dots + 3$$

10   13   9

$$\dots + 8 = 10 + 7$$

17   10   9

$$9 - 4 = 7 - \dots$$

5   2   3

$$12 - 6 = 8 - \dots$$

6   1   2

$$\dots - 5 = 10 - 2$$

13   8   12

$$\dots + 10 = 30 + 20$$

40   50   30

$$5 + 5 = 16 - \dots$$

10   7   6

$$\dots + 5 = 20 - 8$$

6   7   12

$$\dots - 20 = 10 + 30$$

40   60   50

$$15 + \dots = 50 - 30$$

5   20   4

$$\dots - 8 = 9 + 7$$

16   24   23



## EŞİTLİK KAVRAMI

Aşağıdaki eşitlikler yukarıdaki sayıyı vermektedir. Buna göre işlemlere dikkat ederek noktalı yerlere uygun sayıları yazalım.

8

$6 + 2 = 10 - 2$

6

$..... + ..... = ..... - .....$

7

$..... + ..... = ..... - .....$

10

$..... + ..... = ..... - .....$

9

$..... + ..... = ..... - .....$

5

$..... + ..... = ..... - .....$

12

$8 + 4 = 7 + 5$

9

$5 + ..... = 6 + .....$

8

$4 + ..... = 2 + .....$

16

$9 + ..... = ..... + 8$

20

$..... + 10 = 13 + .....$

14

$..... + 6 = ..... + 11$

5

$10 - 5 = 8 - 3$

4

$6 - ..... = 8 - .....$

3

$11 - ..... = 9 - .....$

7

$..... + 3 = ..... - 1$

9

$..... - 4 = ..... + 6$

6

$..... - 6 = ..... - 2$





## TOPLAMA VE ÇIKARMA İŞLEMİ PROBLEMLER

1. Otobüste 26 yolcu vardı. Durakta 15 kişi bindi , 9 kişi indi. Otobüste kaç tane yolcu vardır?

Çözüm:



2. Dedem 65 yaşındadır. Babam dedemden 29 yaş küçük olduğuna göre babam kaç yaşındadır?

Çözüm:



3. Kutuda 42 tane yeşil , yeşil boncuklardan 15 tane daha az mavi boncuk var. Kutuda toplam kaç tane top vardır?

Çözüm:



4. Ozan aldığı kitabın birine 29 lira , diğerine 26 lira ödedi. Ozan'ın 80 lirası vardı. Geriye kaç lirası kaldı ?

Çözüm:



5. Kemal bahçeden önce 32 , sonra 48 tane sarı ve kırmızı elma toplamış. Elmaların 35 tanesi sarı olduğuna göre kaç tanesi kırmızı elmadır?

Çözüm:



6. Koray dün 36 sayfa, bugün ise dünden 8 sayfa daha az kitap okumuş. Koray iki günde toplam kaç sayfa kitap okumuştur?

Çözüm:



7. Bahçede 42 çocuk vardı. Çocukların 16'sı okula girdi. Sonra 27 çocuk daha bahçeye çıktı. Bahçede kaç çocuk vardır ?

Çözüm:



8. Dayım 34 yaşındadır. Dayım 7 yıl önce kaç yaşındaydı?

Çözüm:





## TOPLAMA VE ÇIKARMA İŞLEMİ PROBLEMLER

1. Soner'in 27 lirası var. Almak istediği top ise 40 lira. Topu almak için Soner'in kaç liraya daha ihtiyacı var ?

Çözüm:



2. Bahçemizde 52 tane ağaç var. Ağaçların 34 tanesi elma geri kalanı kayısıdır. Kaç tane kayısı ağacı vardır ?

Çözüm:



3. Amcam 39 yaşındadır. Amcam 7 yıl önce kaç yaşındaydı ?

Çözüm:



4. Kümeste 47 tane tavuk , 16 tane horoz var. Kümesteki hayvanların 25 tanesi dışarı çıkınca içeride kaç tane havyan kalmıştır ?

Çözüm:




5. Deniz'in 42 tane bilyesi var. Deniz'in bilyeleri Ozan'ın bilyelerinden 14 tane az olduğuna göre, Ozan'ın kaç bilyesi vardır ?

Çözüm:



6. Bakkal dün 90 tane ekmek satmış. Bugün ise dünden 18 tane daha az ekmek satmış. Bugün kaç tane ekmek satmıştır ?

Çözüm:



7. Fatma bir dakikada 30 kelime yazmış. Ceren ise Fatma'dan 7 kelime daha az yazmış. İkisi toplam kaç kelime yazmıştır ?

Çözüm:



8. Bir çiftçi 82 tane koyunun önce 26 , sonra 17 tanesini satmış. Çiftçinin geriye kaç tane koyunu kalmıştır ?

Çözüm:





## TOPLAMA VE ÇIKARMA İŞLEMİ PROBLEMLER

1. Kantinci 3 düzine kalemin 27 tanesini satmış. Geriye kaç tane kalem kalmıştır ?

Çözüm:



2. Selin 53 sayfa olan kitabından bir miktar okuyunca geriye 35 sayfa kalmış. Selin kaç sayfa okumuştur ?

Çözüm:



3. Otobüste 23 tane erkek, erkeklerde 5 tane az bayan yolcu var. Otobüste toplam kaç yolcu vardır ?

Çözüm:



4. Ablamın 90 lirası vardı. Parasının 17 lirasına eldiven , 25 lirasına bere almış. Ablamın kaç lirası kalmıştır ?

Çözüm:



5. Zafer tabaktaki 60 fındıktan bir miktar alınca geriye 36 fındık kalmış. Zafer kaç tane fındık almış ?

Çözüm:



6. Kutuda 51 tane yeşil boncuk , yeşil boncuklardan 18 tane eksik mavi boncuk var. Kutuda toplam kaç tane boncuk vardır?

Çözüm:



7. Ben 14 yaşındayım. Dedem ise 71 yaşındadır. Dedem benden kaç yaş büyüktür ?

Çözüm:



8. Hale'nin 75 lirası vardı. Gömlek alınca 32 lirası kaldı. Hale'nin aldığı gömlek kaç liradır ?

Çözüm:

