

## KÜÇÜK PRENS

Bundan altı yıl önce Büyük Sahra Çölü üzerinde uçağımla geçirdiğim kazaya kadar yapayalnız bir hayat sürdürdüm. Motorda bir parça kırılmıştı. Değil tamirci, yanımda bir yolcu bile olmadığından bu çetin işe tek başıma koyulmuştum. Benim için ölüm ya da kalımdı bu. Çünkü yalnızca bir haftalık suyum vardı.

İlk gece en yakın yerleşim merkezinden bin kilometre uzakta kumda uyudum. Okyanusun ortasında salıyla kalakalmış bir denizciden bile çok daha yalnızdım. Bu yüzden gün doğarken incecik bir sesle uyandırıldığımda nasıl şaşırıldığımı tahmin edersiniz sanırım. İnce ses, "Lütfen," diyordu. "Bana bir koyun çizin! "Ne?.." "Bir koyun çizin!"

Yattığım yerden ayağa fırladım. Beynimden vurulmuş gibiydim. Gözlerimi açıp açıp kapadım. Çevreme baktım. Küçücük, biri ciddi bakışlarla beni süzüyordu.

Sonradan resmini yapmaya çalıştım, ama kendisi resminden çok daha sevimliydi tabii.

Antoine de Saint-Exupéry

1 ve 2. soruyu metne göre cevaplayınız.

1. Ne kadarlık suyu kalmış?

- a) Bir haftalık  
b) Bir aylık  
c) Bir günlük

2. İnce bir sesle ondan ne istemişler?

- a) Uçağını tamir etmesini  
b) Bir koyun çizmesini  
c) Su bulmasını



Balonun üzerindeki isim ile ilgili aşağıdakilerden hangisi doğrudur?

3. a) Çoğul isimdir.  
b) Özel isimdir.  
c) Tür isimdir.

## 4. ANNEM

Sevgin bana güven verir,  
Derdim biter, erir bir bir.  
Sensin en duygulu şiir,  
Bir masalsın anneciğim.  
Rıfkı KAYMAZ

■ Kıta

● Dörtlük

▲ Şair

Numaralandırılmış bilgilerden hangisinde yanlışlık yapılmıştır?

- a) ■ b) ● c) ▲



Yarınlara  
Sizinle  
Yeşerecek

Yandaki verilmiş afiş hangi alanda dikkati çekmek için hazırlanmıştır?

5. a) Çevre b) Sağlık c) Teknoloji

Huzurevi

6.

Verilen kelime aşağıdakilerden hangisinde hecelerine doğru olarak ayrılmıştır?

- a) Hu-zur-e-vi b) Hu-zu-re-vi  
c) Huz-ur-e-vi

7. Aşağıdaki cümlelerin hangisinde "kim ve nasıl" sorularının yanıtı vardır?

- a) Kardeşim, ağlayarak oradan uzaklaştı.  
b) Hasta olduğu için Ayşe okula gelemedi.  
c) Dün sabah fırında ekmek yoktu.

8. Ayça, her gün 25 soru çözüyor. Ayça 17 günün sonunda toplam kaç soru çözmüş olur?

- a) 475 b) 455 c) 425

9. 76 elmanın 38 fazlasının 6 katı kaç elma yapar?

- a) 114 b) 578 c) 684

10.  $8 \times 6 = \bullet$   $9 \times 7 = \blacktriangle$   
Yukarıdaki çarpma işlemlerine göre  $\bullet + \blacktriangle$  kaçtır?

- a) 111                      b) 98                      c) 83




11. 6 koyun, 8 tavuk ve 7 ineğin toplam ayak sayıları kaçtır?


- a)  68                      b)  52                      c)  46

12. 1, 3, 6 rakamlarını kullanarak yazılabilecek üç basamaklı en büyük çift sayının 3 katı kaçtır?

- a) 408                      b) 948                      c) 976

13. Bora 9 yaşındadır. Babasının yaşı Bora'nın yaşının 5 katından 6 eksiktir. Bora'nın babası kaç yaşındadır?

- a)  51                      b)  45                      c)  39

14.  "A B" iki basamaklı en büyük çift sayıdır. Buna göre yandaki çarpma işleminin sonucu aşağıdakilerden hangisidir?

- a) 490                      b) 495                      c) 485

15. Aşağıdakilerden hangisi 3. sınıfa giden Yavuz Selim'in günlük planları içinde yer alabilecek bir durum **değildir**?

- a) Ne zaman oyun oynayacağı  
b) Ne zaman kitap okuyacağı  
c) Ne zaman işe gideceği

- ✓ Zamanı daha verimli kullanmak.  
✓ Daha başarılı olmak.  
✓ Düzenli olmak.




16. Yukarıda verilenlerden kaç tanesi planlı olmanın faydalarındandır?


- a) ✓ ✓ ✓                      b) ✓ ✓                      c) ✓

17. Günlük plan yaparken **ilk önce** aşağıdakilerden hangisini yaparız?

- a) Yapılacak işleri öncelik sırasına koymak.  
b) Yapılacak işleri yazılı hale getirmek.  
c) Yapacağı işlerin saatlerini belirlemek.

18. Aşağıdaki eşleştirmelerden hangisi **yanlıştır**?

- a) Cam  Pürüzsüz madde  
b) Cam  Sert madde  
c) Cam  Esnek madde

19.  Bacadan çıkan **duman** maddenin hangi haline örnektir?

- a) Katı                      b) Gaz                      c) Sıvı

20. Aşağıdaki ifadelerden hangisi **yanlıştır**?

- a) Her maddenin tadına bakılabilir.  
b) Temizlik malzemelerinin üzerindeki uyarılar dikkatle okunmalıdır.  
c) Laboratuvarlarda gözlük, bone ve eldiven kullanılması gerekir.

## CEVAPLAR

Adı Soyadı: .....

- |    |   |   |   |    |   |   |   |
|----|---|---|---|----|---|---|---|
| 1  | A | B | C | 11 | A | B | C |
| 2  | A | B | C | 12 | A | B | C |
| 3  | A | B | C | 13 | A | B | C |
| 4  | A | B | C | 14 | A | B | C |
| 5  | A | B | C | 15 | A | B | C |
| 6  | A | B | C | 16 | A | B | C |
| 7  | A | B | C | 17 | A | B | C |
| 8  | A | B | C | 18 | A | B | C |
| 9  | A | B | C | 19 | A | B | C |
| 10 | A | B | C | 20 | A | B | C |

## CEVAPLAR

Adı Soyadı: .....

- |    |   |   |   |    |   |   |   |
|----|---|---|---|----|---|---|---|
| 1  | A | B | C | 11 | A | B | C |
| 2  | A | B | C | 12 | A | B | C |
| 3  | A | B | C | 13 | A | B | C |
| 4  | A | B | C | 14 | A | B | C |
| 5  | A | B | C | 15 | A | B | C |
| 6  | A | B | C | 16 | A | B | C |
| 7  | A | B | C | 17 | A | B | C |
| 8  | A | B | C | 18 | A | B | C |
| 9  | A | B | C | 19 | A | B | C |
| 10 | A | B | C | 20 | A | B | C |

## CEVAPLAR

Adı Soyadı: .....

- |    |   |   |   |    |   |   |   |
|----|---|---|---|----|---|---|---|
| 1  | A | B | C | 11 | A | B | C |
| 2  | A | B | C | 12 | A | B | C |
| 3  | A | B | C | 13 | A | B | C |
| 4  | A | B | C | 14 | A | B | C |
| 5  | A | B | C | 15 | A | B | C |
| 6  | A | B | C | 16 | A | B | C |
| 7  | A | B | C | 17 | A | B | C |
| 8  | A | B | C | 18 | A | B | C |
| 9  | A | B | C | 19 | A | B | C |
| 10 | A | B | C | 20 | A | B | C |

1.	A		6.	B		11.	A		16.	A
2.	B		7.	A		12.	B		17.	A
3.	C		8.	C		13.	C		18.	C
4.	A		9.	C		14.	A		19.	B
5.	A		10.	A		15.	C		20.	A