



ATLAR

Atlar evcil hayvanlardır. İnsanların en yakın hayvan dostlarından biridir. Atlar, cesur ve atılgan bir hayvandır. Sahibine bağlıdır. Sahibi ne isterse yapar. İyi koşucudurlar. Bazen de yük taşırlar.

Ot ile beslenirler. Atın yavrusuna "tay" denir. Taylar ilk aylarda annesinin sütünü emerek beslenir. İnce ve güçlü bacakları vardır. Bu sayede doğar doğmaz ayağa kalkarlar.

Not: İlk 3 soruyu metne göre cevaplayınız.

1) Atlar nasıl bir hayvandır?

- A) Yavaş ve korkak
- B) Vahşi ve hırçın
- C) Cesur ve atılgan

2) Atlar ile ilgili hangisi söylenemez?

- A) İyi koşucudurlar.
- B) Sahibine bağlı değildir.
- C) Yük taşıyabilirler.

3) Taylar ilk aylarda ne ile beslenir?

- A) Annesinin sütü ile
- B) Saman ile
- C) Ot ile

4)



Yukarıdaki olayın oluş sırası hangisidir?

- A) 1-2-3-4
- B) 2-4-1-3
- C) 2-1-4-3

5) ▲ Babam ile pazara gittik.
■ Annem, domates almayı unutmuşsunuz dedi.
● Alışveriş yaptık.

Yukarıdaki cümleleri oluş sırasına göre sıralarsak sıralama nasıl olur?


- A) ▲ ■ ●
- B) ▲ ● ■
- C) ● ■ ▲

6) Ablam kapıyı açmak için önce çantasından anahtarı çıkardı. anahtar ile kilitli kapıyı açtı.

Yukarıdaki cümlede noktalı yere hangisi gelmelidir?

- A) Sonunda
- B) Şimdi
- C) Sonra

7)



Görsellerdeki **olayın oluş sırası** hangisinde doğru olarak verilmiştir?

- A) ▲ ● ■ □ B) ▲ ● ■ □
C) ● ▲ ■ □

8)

1. Doktora gittim.
2. Hasta oldum.
3. Doktor ilaç yazdı.
4. Terli terli su içtim.

Yukarıda verilen **olayların oluş sırasına** göre sıralanışı nasıldır?

- A) 2-4-1-3 B) 4-3-2-1
C) 4-2-1-3

9)

Kuzucuk'un çiftliğinde 27 koyun, 32 keçi ve 23 inek vardır. 8 koyun, 11 keçi ve 9 inek satıldı. Çiftlikte kaç hayvan kaldı?



- A) 54 B) 48 C) 44

10)

Maşa 8, annesi 30 yaşındadır. Babasının yaşı ise annesinin yaşından 3 fazladır. Maşa, anne ve babasının **yaşları toplamı** kaçtır?



- A) 41 B) 63 C) 71

11)

Sünger Bob, onlar basamağında **7 rakamı** olan iki basamaklı olan en büyük sayıdan **2 düzine** çıkarıyor. Sonucu kaç bulmuştur?



- A) 79 B) 59 C) 55

12)

Koca Ayı ormanda **24 tane** gül toplamıştır. Kaç gül daha toplarsa **75 gülü** olur?



- A) 51 B) 48 C) 41

13)

Elifin 55 TL'si vardır. 42 TL'ye elbise, 24 TL'ye ayakkabı almak istiyor. Elifin **kaç TL'ye daha ihtiyacı** vardır?



- A) 12 B) 11 C) 10

- 14) Keloğlan'ın bahçesinde 32 tane kiraz ağacı, kirazlardan 9 fazlada elma ağacı vardır. Keloğlan'ın bahçesinde **toplam kaç ağaç** vardır?



A) 73 B) 63 C) 41

- 15) Ela 30'dan başlayarak 5'er 5'er saydığı 4.sayı ile 20'den başlayarak 10'ar 10'ar saydığı 3. sayıyı **topluyor**. Sonucu kaç bulmuştur?



A) 95 B) 85 C) 75



Spor yapmak



Dengeli beslenmek



Uyumak



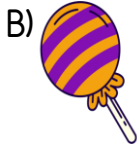

Sağlıklı büyümek ve gelişmek için yukarıdakilerden hangilerini **yapmalıyız?**

A)

B)

C)

- 17) Aşağıdakilerden hangisini sık tüketmek sağlığımızı **olumsuz etkiler?**



- 18) I. Dengeli ve düzenli beslenmek
II. Geç saatlere kadar ders çalışmak
III. Kişisel bakıma ve temizliğe özen göstermek

Yukarıda verilen ifadelerden hangileri sağlıklı bir yaşam için **yapmamız** gerekenlerdendir?

A) Yalnız I B) I ve II

C) I ve III

19)



Merhaba ben Ozan, dengeli besleniyorum. Spor yapıyorum ve temizlik kurallarına uyuyorum.

Ozan'ın söylediklerini yapmasının **sebebi** hangisidir?

- A) Sınıfı geçmek
B) Sağlığını korumak
C) Ailesini sevindirmek

- 20) Dengeli beslenen bir kişi **öğle yemeğinde** aşağıdakilerden hangisini tüketir?

- A) Çorba, taze fasulye, sütlaç
B) Pizza, kola, baklava
C) Hamburger, ayran, cips

Cevap Anahtarı

1)C 2)B 3)A 4)C 5)B
6)C 7)B 8)C 9)A 10)C
11)C 12)A 13)B 14)A 15)B
16)C 17)B 18)C 19)B 20)A