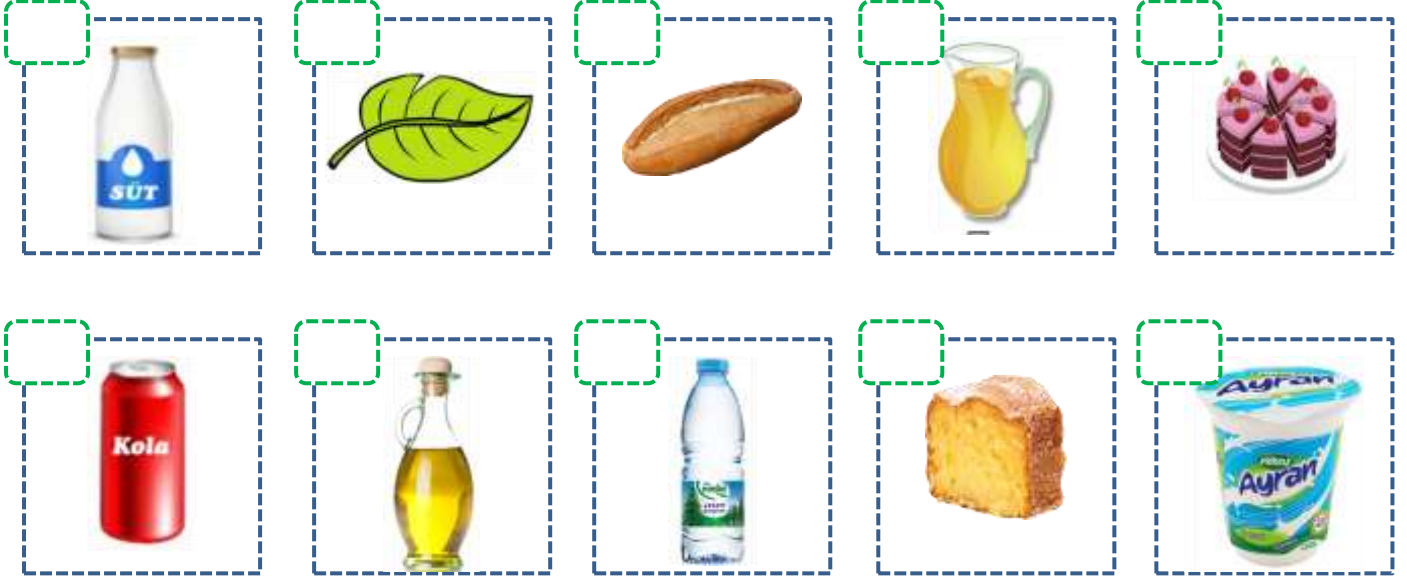


Adı :
Soyadı:

2. Sınıf Matematik

Sıvıları Ölçme-1

Sıvı (döküldüğünde akıp giden) olan varlıkları işaretleyiniz.



Sıvıları hangi nesnelere içine döküp ölçebiliriz?



Hangisi daha çok sıvı alır?




Adı :
Soyadı:

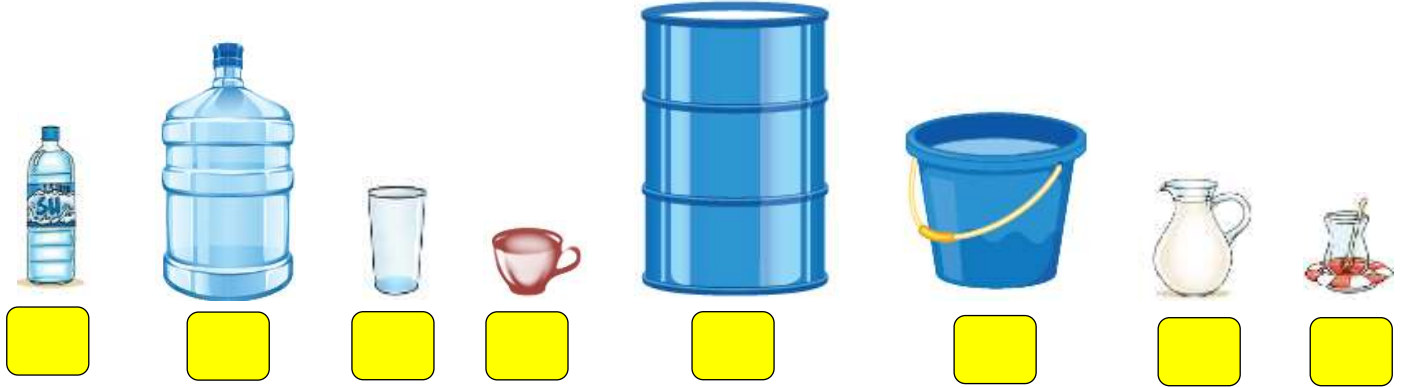
2. Sınıf Matematik

Sıvıları Ölçme-1

Hangisi daha az sıvı alır?



En çok sıvı alandan en az sıvı alanlara doğru sıralayınız.



En az sıvı alandan en çok sıvı alanlara doğru sıralayınız.

