

Adı :
Soyadı:

2. Sınıf Matematik

Sıvıları Ölçme-3

Hepsini sulamak için kaç kova gerekir? Hesaplayınız?




2 çiçek
suluyor.



2 çiçek
suluyor.

Aşağıdaki işlemleri yapınız.



3 tane cezve kaç tane fincan
doldurur?



6 tane cezve kaç tane kupa
doldurur?

Resimdeki herkes iki bardak limonata içecektir. Kaç şişe limonata gerekir?



Adı :
Soyadı:

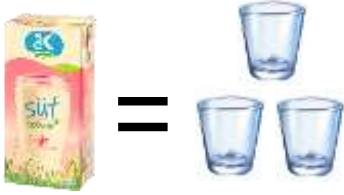
2. Sınıf Matematik

Sıvıları Ölçme-3

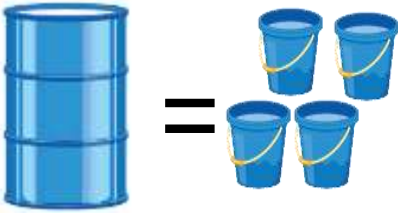
5 tane inekten kaç tencere süt elde edilir?



Her çocuk 2 bardak süt içiyor. Kaç kutu süt gerekir?



Her çocuk 2 kova su taşıyor. Kaç tane varil doldururlar?



6 şişe kaç su bardağı doldurur?

