



SEN OKUYACAĞIN

Çankırı girişinde, okulumuz yol boyunca yerini aldı. Atatürk karşıdan güzüktü. Çok şık giyinmişti. Atatürk, hizama yaklaşırken elimdeki çiçekle sıradan çıktım. Bir demet çiçeği Atatürk'e sundum. Atatürk, çiçek demetini aldı, sol eliyle yanağımı okşadı.

- Okuyacak mısın yavrum?
- Okuyacağım Ata'm.
- Yavrum, sen okuyacaksın. İyi bir asker olacaksın.
- Asker olacağım Ata'm, dedim. Yanağımdaki o okşamanın hazzını yaşamaya başladım. **SALİM SAVCI**

Not: İlk 3 soruyu metne göre cevaplayınız.

1) Atatürk nereye gidiyordu?

- A) Çankırı B) Ankara C) İzmir

2) Çocuk, Atatürk'e ne verdi?

- A) Mektup B) Çelenk
C) Çiçek

3) Atatürk çocuğa hangi soruyu sordu?

- A) Sen asker mi olacaksın?
B) Okuyacak mısın yavrum?
C) Doktor mu olacaksın?

4)

- Yazı Başlıkları
- Kişi adları
- Eşya adları
- Hayvanlara verilen adlar


Yukarıda verilenlerden kaç tanesi büyük harfler başlar?


- A) 1 B) 2 C) 3


5) Aşağıdaki kelimelerden hangisinin ilk harfi daima büyük harfle başlar?

- A) Ulus B) Türkiye
C) Yurt

6) Aşağıdaki cümlelerin hangisinde büyük harflerin kullanımı ile ilgili bir yanlışlık yapılmıştır?

A)  Gemiler İstanbul Boğazi'na demir attı.

B)  Teyzemler Temmuz ayında gelecekler.

C)  Eylül ayında Ağrı Dağı'na kar yağmış.

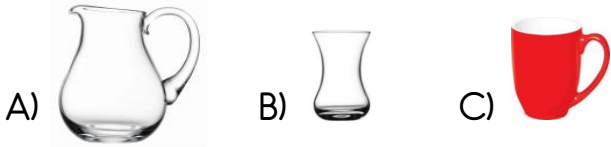
7) Hangi cümlede büyük harflerin kullanımı ile ilgili yazım yanlışı **yapılmıştır**?

- A) Akşam bize nail'in annesi geldi.
B) Köpeğim Karabaş çok akıllıdır.
C) Niğde'nin elması meşhurdur.

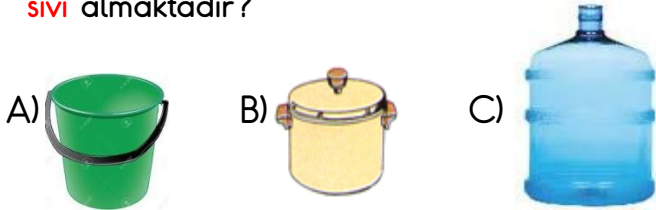
8) "Çarşamba" sözcüğü hangi cümlede **doğru** yazılmıştır?

- A) Yaz tatilinde Samsun'un çarşamba ilçesine gittik.
B) Mahallemize çarşamba günü, pazar kuruluyor.
C) 13 Ekim çarşamba günü geldiler.

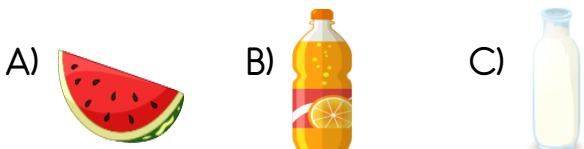
9) Aşağıdaki kaplardan hangisi daha **az sıvı** almaktadır?



10) Aşağıdaki kaplardan hangisi daha **çok sıvı** almaktadır?



11) Aşağıdakilerden hangisi sıvı **değildir**?




Bir kova suyu 4 sürahi ile dolduran Ahmet **3 kova suyu** kaç sürahi ile doldurabilir?

- A) 8 B) 12 C) 16



Bir kutu süttten 5 su bardağı süt çıkmaktadır. **4 kutu sütü** kaç su bardağına boşaltabiliriz?

- A) 20 B) 16 C) 24



1 şişe şuruptan 8 çay kaşığı şurup çıkmaktadır. Hastalığı geçene kadar **3 şişe şurup** içen bir çocuk **kaç çay kaşığı şurup** içmiştir?

- A) 16 B) 20 C) 24

15)



Yukarıdaki damacana 4 kova su almaktadır. Kova ise 5 sürahi su almaktadır. Damacanaya 2 kova su koyduktan sonra kalan kısmı sürahi ile doldurmak istersek kaç sürahi suya ihtiyacımız vardır?

- A) 20 B) 15 C) 10

16) Aşağıdakilerden hangisi yemekteki görgü kurallarında birisi değildir?


- A) Kendi tabağımızdan yemek yemek
B) Günde üç öğün yemek yemek
C) Yemek yerken ağızımızı kapalı tutmak

- 17) I. Sofrada yüksek sesle konuşmamalıyız.
II. Yemek yerken çatal, kaşık, bıçak kullanmalıyız.
III. Arkadaşımızın tabağından yiyebiliriz.

Yukarıda verilen ifadelerden hangilerini yemek yerken yapmamız gerekir?

- A) I ve II
B) Yalnız III
C) I ve III

18) Aşağıdaki görsellerin hangisinde yemekten önce ve sonra yapmamız gereken davranış gösterilmiştir?




19)



Aşağıdakilerden hangisi beden temizliğimiz için yapmamız gerekenlerden birisi değildir?

- A) Tırnak ve saç bakımını yapmak
B) Düzenli banyo yapmak
C) Doğal besinler tüketmek

20) Aşağıdaki çocuklardan hangisi yemekte görgü kuralına uymaktadır?



Cevap Anahtarı

1)A 2)C 3)B 4)C 5)B
6)B 7)A 8)B 9)B 10)C
11)A 12)B 13)A 14)C 15)C
16)B 17)A 18)A 19)C 20)A